

2024 年十堰市教育局直属学校公开招聘教师

《职业能力倾向测验 D 类》

模考 1

重要提示：

为维护您的个人权益，确保格木教育公务员模考的公平公正，请您协助我们监督考试实施工作。

本场考试规定：监考老师要向本考场全体考生展示题本密封情况，并邀请 2 名考生代表验封签字后，方能开启试卷袋。

条
形
码

请将此条形码揭下，
贴在答题卡指定位置。

准考证号

姓名

第一部分 常识判断

(共 20 题, 参考时限 15 分钟)

根据题目要求, 在四个选项中选出一个最恰当的答案。

请开始答题:

1. 下列关于以学习习近平新时代中国特色社会主义思想为主题的教育活动说法正确的有几项:

- ①此次主题教育的总要求是“学思想、强党性、重实践、建新功”
- ②此次主题教育要把理论学习、调查研究、推动发展、检视整改等贯通起来
- ③此次主题教育要坚持边学习、边对照、边检视、边整改
- ④市县两级组建督导组, 对主题教育活动进行督导

- A.1 项
- B.2 项
- C.3 项
- D.4 项

2. 2023 年 3 月 16 日, 中共中央、国务院印发了《党和国家机构改革方案》, 下列有关党和国家机构改革说法正确的是:

- ①组建中央金融委员会, 负责金融稳定和发展的顶层设计
- ②改组中央科技委员会, 负责集中统一领导科技党建工作
- ③组建中央社会工作部, 负责统筹指导人民信访工作
- ④组建全国人大常委会代表工作委员会, 负责全国人大代表名额分配、资格审查、联络服务有关工作

- A.①②④
- B.②③④
- C.①③④
- D.①②③

3. 下列感动中国人物与事迹特点对应正确的是:

- A.杨宁—敢卖婚房种新田的党员干部
- B.沈忠芳—为国作长城的防护工程专家
- C.林占熺—“为了种好食物, 我可以死”的全国种粮标兵
- D.陈清泉—凿山通泉的“挖井人”

4. 深入学习宣传贯彻党的二十大精神, 奋力谱写中国式现代化新篇章。下列关于二十大报告的内容, 说法错误的是:

- A.我们要坚持马克思主义在意识形态领域指导地位的根本制度
- B.为民造福是立党为公、执政为民的本质要求
- C.坚持中国特色社会主义是坚持和发展中国特色社会主义的必由之路
- D.全党必须牢记, 全面从严治党永远在路上, 党的自我革命永远在路上

5. 中国共产党第二十次全国代表大会, 是在全党全国各族人民迈上全面建设社会主义现代化国家新征程、向第二个百年奋斗目标进军的关键时刻召开的一次十分重要的大会。下列关于二十大文件内容说法正确的

是：

- A.马克思主义是我们立党立国、兴党兴国的根本指导思想
- B.未来三年是全面建设社会主义现代化国家开局起步的关键时期
- C.人民当家作主更为扎实，人民当家作主总体格局基本形成
- D.我们要完善以民法为核心的中国特色社会主义法律体系，加强宪法实施和监督

6.下列说法正确的是：

- A.陈鹤琴创建了我国第一个乡村幼稚园——南京鼓楼幼稚园
- B.汉语中最早将“教”和“育”连用的是《说文解字》
- C.蔡元培首次把美育作为教育方针提出。
- D.陶行知提出“教育即生活”

7.在学校中有个别教师过于注重学生考试成绩，不注重学生的能力锻炼，就可能使学生变成“书呆子”，

这说明教育具有：

- A.正向显性功能
- B.负向显性功能
- C.正向隐形功能
- D.负向隐形功能

8.上历史课时，老师先把两个班级合并为一个大班观看历史视频，然后讲解视频中涉及的知识点并布置讨论题，然后将班级分成四个小组，由小组长带领对讨论题进行探究，适当时候教师进行个别指导，最后让学生独立完成1作业，包含指定作业和自选作业，这种教学组织形式是借鉴的：

- A.个别教学制
- B.分组教学制
- C.特朗普制
- D.道尔顿制

9.如果某学生把“严格守法”“法律是权威不可挑战”等作为自己道德判断的标准，那么该学生处于道德发展的：

- A.前习俗水平
- B.习俗水平
- C.后习俗水平
- D.超习俗水平

10.“你有一个苹果，我有一个苹果，我们交换一下，一人还是一个苹果；你有一个思想，我有一个思想，我们交换一下，一人就至少有两种思想”这句话体现了：

- A.建构主义的思想
- B.人本主义的思想
- C.认知主义的思想
- D.联结主义的思想

11.中华民族自古以来就有很多著名诗人，下列关于诗人说法错误的是：

- A.韩愈，字退之，后人称其为“韩昌黎”，唐宋八大家之首，有《昌黎先生集》

- B.陶渊明，字元亮，又名潜，世称靖节先生，被称为“古今隐逸诗人之宗”
- C.柳宗元，字子厚，河东人，因官终柳州刺史，又称“柳柳州”，“长吉体诗歌开创者”
- D.欧阳修，字永叔，号醉翁、六一居士，与韩愈、柳宗元和苏轼合称“千古文章四大家”

12.2022 北京冬奥会开幕式二十四节气为序曲，从“雨水”开始，一路倒数，最终行至“立春”，用“中国式浪漫”美学惊艳了世界，也让全世界领略了这一中国古老历法的独特文化魅力。下列关于节气的先后排序正确的是：

- ①随风潜入夜，润物细无声
- ②家家麦饭美，处处菱歌长
- ③桂轮开子夜，萤火照空时
- ④天阶夜色凉如水，卧看牵牛织女星

- A.①②③④
- B.②①④③
- C.①④③②
- D.①③④②

13.中华民族历史上有不少治世和盛世，反映了当时社会繁荣发展的风貌，下列盛世与皇帝对应正确的是：

- A.永乐盛世——朱元璋
- B.贞观之治——李隆基
- C.开皇之治——李世民
- D.文景之治——刘恒、刘启

14.唐代文学空前繁荣，“诗歌”最为光彩夺目，唐朝被誉为诗歌的“黄金时代”，下列关于唐朝的诗歌及诗人说法错误的是：

- A.初唐时期的初唐四杰分别是王勃、杨炯、卢照邻、骆宾王，其中王勃被称为“诗杰”，代表作为《滕王阁序》
- B.盛唐时期的山水田园诗派以王维、孟浩然为代表，其中王维号“摩诘居士”，因笃诚奉佛，有“诗佛”之称
- C.杜甫，字子美，自号少陵野老，现实主义诗人，代表作有“三吏”和“三别”，杜甫的诗歌被后人评价为“诗史”
- D.白居易，字乐天，号香山居士，现实主义诗人，有“诗豪”和“诗鬼”之称，代表作有《长恨歌》《琵琶行》

15.《中国十大传世名画》是中国美术史的丰碑，用色彩记录了中华绵延五千年的悠久历史和横亘万里的锦绣河山。下列关于传世名画与画家对应正确的是：

- A.《千里江山图》——王希孟
- B.《百骏图》——徐悲鸿
- C.《洛神赋图》——阎立本
- D.《步辇图》——黄公望

16.《中小学教育惩戒规则（试行）》自 2021 年 3 月 1 日起施行。下列关于教育惩戒说法错误的是：

- A.学校应当利用入学教育、班会以及其他适当方式，向学生和家长宣传讲解校规校纪
- B.学生有故意不完成教学任务要求或者不服从教育、管理的，学校及其教师应当予以制止并进行批评教育，确有必要的，可以实施教育惩戒

C.教师在课堂教学、日常管理中，对违规违纪情节较为轻微的学生，可以由学校德育工作负责人予以训导的教育惩戒

D.教师对学生实施教育惩戒后，应当注重与学生的沟通和帮扶，对改正错误的学生及时予以表扬、鼓励

17.2022年4月《中华人民共和国职业教育法》修订，自2022年5月1日起施行。下列说法错误的是：

- A.这是职业教育法制定近30年来的首次修订
- B.我国已建成世界上规模最大的职业教育体系
- C.不得设置条件妨碍职校生平等就业
- D.建立符合职业教育特点的考试招生制度

18.《几何原本》是古希腊数学家（ ）创作的一部数学著作，成书于公元前300年左右。总结了前人的几何知识和研究成果，用公理法建立起演绎的数学体系的最早典范。

- A.欧几里得
- B.阿基米德
- C.亚里士多德
- D.笛卡尔

19.光的传播形式主要有光的直线传播、反射、折射以及散射等，下列关于光的传播形式，说法不正确的是：

- A.影子的形成——光沿直线传播
- B.潭清疑水浅——光的折射
- C.潜望镜——光的折射
- D.水中倒影——光的反射

20.中国有14个陆上的邻国，6个隔海相望的国家，共有20个邻国，是世界上邻国最多的国家。下列关于中国的邻国，说法错误的是：

- A.中国东邻朝鲜，北邻蒙古
- B.中国南邻泰国和柬埔寨
- C.20个邻国中是金砖国家是俄罗斯、印度
- D.韩国、文莱、马来西亚是海上邻国

傲与自豪。农学院师生员工要学习赵老师兢兢业业干事创业、_____甘于奉献的劳模精神，在心中种下劳动的种子，牢记学科使命，以强农兴农为己任，用劳动创造幸福生活。

填入划横线部分最恰当的一项是：

- A.掷地有声 淡泊名利 B.铿锵有力 独善其身
C.字字珠玑 舍身取义 D.大声咆哮 舍己为人

26.随着知识产权领域全面引入惩罚性赔偿制度，依法_____侵权违法成本，让傍名牌行为得不偿失，才能促使一些企业_____侥幸和投机心理，潜心提升质量和技术，真正以自己的品牌赢得消费者。

填入划横线部分最恰当的一项是：

- A.提高 舍弃 B.增加 抛弃
C.减轻 丢弃 D.加快 放弃

27.日出、日落，每天在这里重复，新生、死亡，时时在这里_____。光明与黑暗，狂暴与温柔，怒吼与低吟，无数正反相合的元素，在这里奇妙的交织。大海，神秘莫测，喜怒无常；大海，让人恐惧，又令人_____。

填入划横线部分最恰当的一项是：

- A.扭转 神往 B.出现 绝望
C.上演 向往 D.发生 渴望

28.火的发现与使用，是人类进化史上的一个巨大飞跃，使人类第一次_____了自然界，从而最终告别了动物茹毛饮血的时代。然而，北京猿人的生存环境并非太平，危险和杀机_____，大自然的各种考验锤炼着他们，他们不仅会因为猎取不到食物而挨饿，甚至会被凶猛的训狗追杀，吃掉。

依次填入横线处最恰当的一项是：

- A.主宰 危机四伏 B.支配 如影随形
C.征服 铺天盖地 D.适应 无处不在

29.历史会记住这一天：2019年12月11日，世界贸易组织（WTO）争端解决机制因上诉机构法官人数不足难以正常运转，全球基于规则的多边贸易体制正面临前所未有的危机。自世贸组织多哈回合谈判陷入_____以来，贸易争端解决机制成为世贸组织最权威且有效运转的部分，而上诉机构作为贸易争端解决终裁机构，有着“WTO皇冠上的明珠”之称，重要性_____。

填入划横线部分最恰当的一项是：

- A.停滞 不言而喻 B.中断 举足轻重
C.争议 毋庸置疑 D.停止 一目了然

30.文是根本，创是生命。一件成功的文创产品要挖掘产品背后的文化价值，结合当下社会语境，以_____的思想表达带给人们情感共鸣。只有传统感和时代感_____，文创产品才能带动文物越走越远，也让博物馆离大众越来越近。

填入划横线部分最恰当的一项是：

- A.独具匠心 相得益彰 B.别具一格 珠联璧合
C.步调一致 相辅相成 D.志同道合 相衬相映

31.“孝”的观念，在中国_____。在中国的传说中，舜由一个平民成为帝王就是纯由他的孝心所致。4000多年前，一位种地的普通农夫，其生母早逝，后妈性情粗暴、凶狠，同父异母的弟弟蛮横、无理，但这位农夫_____，不怨天尤人，对父母恭顺如常，对弟弟加倍关心、照顾。他身上表现出的超常孝心，感动上天。这位农夫就是“舜”，他的孝行被列入中国古代二十四孝之首——“孝感动天”。当时的尧帝听说舜的孝行，将自己的两个女儿娥皇和女英嫁给他为妻，并把帝位也“禅让”给他。

填入划横线部分最恰当的一项是：

- A.深入人心 一如既往 B.源远流长 持之以恒
C.家喻户晓 坚定不移 D.由来已久 始终如一

32.二十四节气_____着中国人数千年来与自然和谐相处的生态画卷，彰显着中华民族崇尚自然、热爱自然的文化基因。与二十四节气“配套”存在的七十二候，将一个节气又细分为三候，以植物的萌动、开花、结实、落叶，动物的蛰眠、鸣叫、繁育、迁徙，以及冰雪消融、电闪雷鸣等典型物候现象来标识时间流转的轨迹。立秋三候，凉风至、白露降、寒蝉鸣，_____便将立秋之景刻画得细致入微、_____。

填入划横线部分最恰当的一项是：

- A.铺陈 寥寥数语 惟妙惟肖
B.展现 只言片语 栩栩如生
C.反映 三言两语 活灵活现
D.描绘 言简意赅 跃然纸上

33.所谓三坊，指的是南后街左边的巷子，依次是光禄坊、文儒坊、衣锦坊；所谓七巷则是吉庇巷、宫巷、安民巷、黄巷、塔巷、郎官巷、杨桥巷。游人来到南后街大门，便可安步当车，一方面欣赏大街两旁的精致铜雕，它们是古代庶民各行各业生活的_____，还有各式各样的旅游商店；一方面可在各坊巷里寻觅心仪的对象，前去拜访他们的故居，保证你会有丰硕的收获。在这十条巷弄内一堵堵高墙里，绿树_____着优雅的庭院、幽深的长廊和朴实的厅堂，曾有多少忧国忧民的身影在_____，在感叹。

填入划横线部分最恰当的一项是：

- A.写照 映衬 踌躇
B.剪影 掩藏 徘徊
C.缩影 掩映 踟蹰
D.再现 遮蔽 彷徨

34.网络热议语是观察社会动向与文化生态的一个“_____”，从解读年度十大网络热议语入手，我们用内心_____时代脉搏，广泛分析研判民意，定能准确把握群众的所思所盼，让发展思路更加_____、决策更加接地气、干事创业更加敢为善为。一个个鲜明、生动的网络热议语，启迪、鼓舞、激励人们对未来充满必胜信心，主动把“小我”融入“大我”，在苦干实干中强筋健骨，在拼搏进取中成就精彩人生。

填入划横线部分最恰当的一项是：

- A.晴雨表 感应 开阔
- B.风向标 把握 开放
- C.助推器 找准 广阔
- D.探照灯 抓紧 广博

35.柔性执法的最大意义，不仅在于用更灵活的方式_____规则，以柔软的姿态_____法治力量，也在于其传递出了一种宝贵的信任——愿意相信人们的无心之失，愿意相信人们会对失范行为纠偏，愿意相信人们不会一错再错、_____。

依次填入横线处最恰当的一项是：

- A.履行 呈现 老调重弹
- B.遵循 凸显 以身试法
- C.执行 彰显 重蹈覆辙
- D.遵守 显示 明知故犯

36.近年来，我国文旅消费需求快速增长，“十三五”期间我国年人均出游超过4次，给文旅市场主体带来巨大的发展机遇。随着文化和旅游加速融合、市场不断发展，我国文旅消费需求呈现明显升级趋势：从低层次向高品质和多样化转变，由注重观光向兼顾观光与休闲度假转变，需求更为丰富和个性化。这对于文旅市场主体来说既是新的增长点，也意味着更高的要求。

这段文字画线部分的“这”指代的是：

- A.文旅市场的发展机遇
- B.文旅消费需求的升级
- C.文旅消费品质的转变
- D.文旅消费需求的丰富

37.“海上联合—2022”联合军事演习将于21日起在我国浙江舟山至台州以东海域举行。此次联合演习的课题为“联合维护海上安全”。中俄海军分别在北京和圣彼得堡开设联合导演部，由中国人民解放军海军中将副司令员李玉杰和俄罗斯海军代理副司令科罗廖夫海军少将共同担任演习导演。中方主要兵力分别来自东部、北部战区海军，包括导弹驱逐舰包头舰、济南舰，导弹护卫舰滨州舰、盐城舰，综合补给舰高邮湖舰，以及潜艇、固定翼预警机、反潜巡逻机、舰载直升机等；俄方参演兵力包括“瓦良格”号导弹巡洋舰，“佩琴加”号补给舰等。联合军事演习将采取红蓝对抗、临机导调的形式，开展实兵对抗和实弹射击演练，主要围绕联合封控、临检拿捕、联合防控、联合救援、联合反潜和实射火箭深弹等课目展开。

下列选项与文意相符的一项是：

- A.本次联合军事演习将在我国浙江舟山举行
- B.中俄海军分别在北京和圣保罗开设联合导演部
- C.导弹护卫舰济南舰参与了本次演习

D.红蓝对抗是本次军事演习采用的形式之一

38.落实低温津贴，只是帮助劳动者御寒添暖的一个环节。切实维护低温作业劳动者职业健康权益，我们还可以做得更多。无论是增配取暖设备、提供必要的劳动防护用品，还是调整工作时间、尽量减少低温天气下的室外作业，或是加强职业健康知识培训、提供职业健康检查等，劳保措施想到越周到，低温作业劳动者的职业健康就越有保障。千暖万暖，人心最暖。期待有更多用心、用情的善意关怀不断涌现，并有效转化为制度化保障举措，推动送温暖落实落细，落到广大低温作业劳动者的心坎上。

这段文字的意图是：

- A.采取多种劳保措施，保障低温作业劳动者健康
- B.低温补贴快落实，切实帮助劳动者御寒添暖
- C.增强取暖设备，提供必要的劳动防护用品御寒
- D.调整工作时间，并减少低温天气下的室外作业

39.盲目戒糖不仅可能于皮肤无益反倒造成伤害。我国居民膳食指南（2022）建议每人每天添加糖摄入量不超过 50g，最好控制在 25g 以下。但也要看到，糖是人体必需的营养素之一，摄入糖分不足会减少糖蛋白的合成，造成低血糖、贫血、营养不良等健康问题。合理选择食品种类和烹饪方式，控制总量，才是科学控糖的要义。退一万步讲，糖有多种形式，含糖的食物五花八门，完全戒糖实际上也并不现实。

在此段之前，最可能讲的是：

- A.控糖不等于戒糖
- B.控糖不现实的原因
- C.戒糖存在的危害性
- D.控糖的抗老作用

40.从经济发展规律来看，大国经济的特征都是内需为主导、内部可循环，实施扩大内需战略可谓正当其时。从消费升级来看，当前人民对美好生活的向往总体上已经从“有没有”转向“好不好”，呈现多样化、多层次、多方面的特点，扩大内需可以更好满足人们的美好生活需要。从市场规模来看，我国有世界规模最大的中等收入群体，是全球最具成长性的消费市场，扩大内需将进一步发挥超大规模市场优势。从国际环境来看，世界百年未有之大变局加速演进，世界经济增长不平衡不确定性增大，扩大内需将有助于以自身的稳定发展有效应对外部风险挑战。

这段文字的意图是：

- A.要以强大内需支撑高质量发展
- B.扩大内需能有效应对外部风险
- C.扩大内需能满足人民生活向往
- D.扩大内需能更好发挥市场优势

41.《中国节日系列节目 2021 季》通过对文化的创造性转化、创新性发展，将中国传统节日在自我超越的过程中进行了完美表达。单是在《唐宫夜宴》中，移步换景之间，就能欣赏到《千里江山图》《簪花仕女

图》《捣练图》等一幅幅流传千百年的名画。通过场景再造、文化阐释、情感渲染、调性设计，远去的历史演绎成眼前的艺术，优秀传统文化内容在审美表达上开创了新的全景视窗。节目策划新颖、形态新锐、视听新潮，通过“奇妙游”系列化组合，用形式的创新，呈现出一个个具有故事感、共鸣感的“艺术小宇宙”

最适合这段文字的标题的是：

- A.文化节目要有文化底蕴，也要有新韵。
- B.中国传统节日在自我超越过程中表达
- C.体裁形式的发展在创新表达中很重要
- D.节目呈现出了有故事感共鸣感的宇宙

42.如果说敦煌研究院的使命是研究和保护，那么敦煌画院的使命则是传承和创作。建院三十年来，敦煌画院一方面汇集艺术家群体，专注于古法泥本临摹领域，至今累计了数千平尺的泥本作品，他们或为文物修复，或为技艺磨炼，或为个人兴趣爱好；另一方面，面向敦煌文化爱好者和社会大众，进行敦煌文化在现代社会中的演绎和传播。上千年来，敦煌壁画因为时间、风沙、气候或人为破坏等种种原因而不断剥落和损坏，这几乎是个不可逆的过程。只有依靠经验丰富的专业老师们高超的壁画泥本临摹技艺，才能做到为敦煌壁画“续命”。因此，_____。

填入画横线部分最恰当的一句是：

- A.敦煌壁画历久弥新焕发着绵延不绝的生命力
- B.壁画临摹是探索历史和古人心路历程的有效通路
- C.壁画临摹是一项敦煌画院代代传承的伟大事业
- D.壁画临摹几乎是延续敦煌壁画生命的唯一方式

43.①在云南，“火塘烤茶”已经融入当地少数民族的日常生活

②早在唐代，茶圣陆羽就在《茶经》中记录煮茶的过程

③这种形式也不止见于南方地区，在郁达夫的回忆中，“凡在北国过过冬天的人，总都道围炉煮茗，或吃煊羊肉、剥花生米、饮白干的滋味。”

④时至今日，许多地方的人们对这种形式并不陌生

⑤这些活动一度是人们冬日生活的重要部分，随着城镇化进程推进，高楼大厦取代了平房宅院，燃气灶台取代了笼火烧煤，围炉煮茶才逐渐远离了生活舞台

⑥围炉煮茶，乍看十分新颖，其实早有渊源

将以上 6 个句子重新排序，语序正确的是：

- A.②④⑥①⑤③
- B.②①④③⑥⑤
- C.⑥②④①③⑤
- D.⑥②③④①⑤

44.当地时间 12 月 19 日凌晨，《生物多样性公约》第十五次缔约方大会（COP15）第二阶段会议通过“昆明—蒙特利尔全球生物多样性框架”（简称“框架”），为今后直至 2030 年乃至更长一段时间的全球生物多样性治理擘画新蓝图。国际社会普遍认为，这是一个兼具雄心和务实平衡的“框架”，具有里程碑意义。“框

架”已经达成，关键在于落实。各方要将共识转化成有效的政策、扎实的行动、具体的项目。生态兴则文明兴。国际社会应携手努力，坚定捍卫真正的多边主义，形成保护地球家园的强大合力。

这段文字的意图是：

- A.生物多样性框架已经基本上达成
- B.生物多样性框架具有里程碑意义
- C.框架为生物全球性治理擘画新蓝图
- D.各国应采取行动落实好生物治理“框架”

45.新型冠状病毒变异株的传染性是否更强？它对我们更加危险吗？我们的疫苗能遏止它吗？这些讨论中，有一种充满诱惑的暗流，并以一种小常识的面目告诉我们说：显而易见，病毒总是随着时间推移而演化，变得不再有致命危害。就像狼被驯化成狗一样。病毒为了生存也会变得更加温顺平和。其推论是，新冠病毒迟早会失掉它的“毒牙”，变得像普通感冒一样无足轻重。在这场旷日持久的新冠大流行中，剥夺我们仍然仅存的这点希望，似乎有点残酷了。但却必须纠正这样的观念——致病微生物总会“弃恶从善”——这种“毒性减弱论”已经被否定了。

下列选项中对文段理解正确的一项是：

- A.变异后的新冠病毒就是流行感冒
- B.新冠病毒随着时间推移毒性会减弱
- C.疫苗并不能遏止新冠病毒的传播
- D.致病微生物变异后毒性不一定减弱

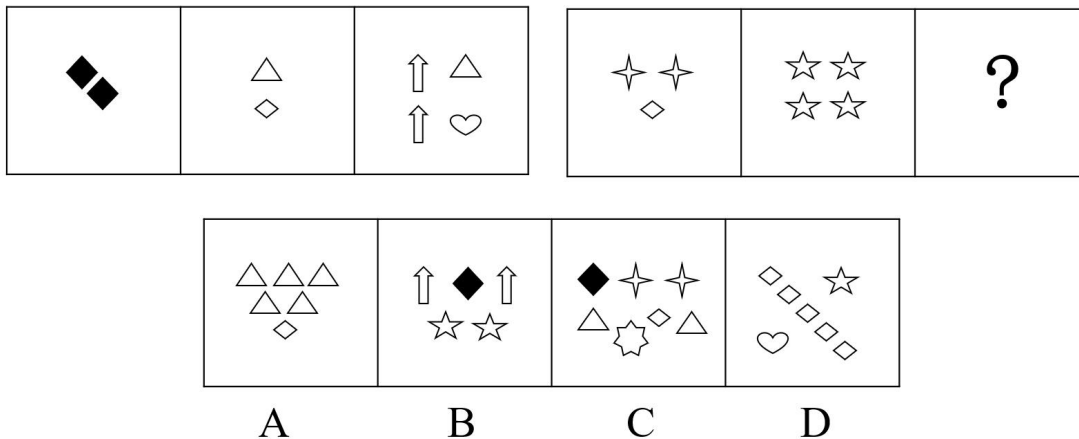
第三部分 判断推理

(共 30 题, 参考时限 30 分钟)

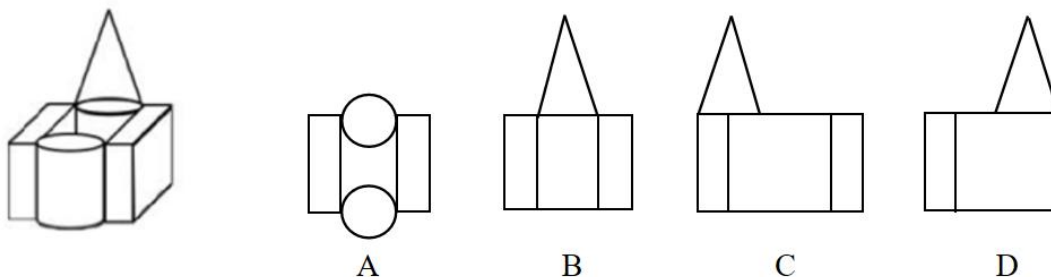
一、图形推理。请按每道题的答题要求回答。

请开始答题:

46. 从所给的四个选项中, 选择最合适的一个填入问号处, 使之呈现一定的规律性:



47. 左图为给定的立体图形, 从任意角度观看, 下列哪一项不可能是该立体图形的视图?



48. 把下面的六个图形分为两类, 使每一类图形都有各自的共同特征或规律, 分类正确的一项是:



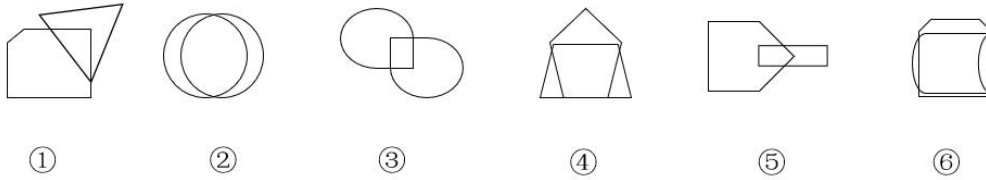
A. ①②④, ③⑤⑥

B. ①②③, ④⑤⑥

C.①②⑤, ③④⑥

D.①④⑥, ②③⑤

49.把下面的六个图形分为两类,使每一类图形都有各自的共同特征或规律,分类正确的一项是:



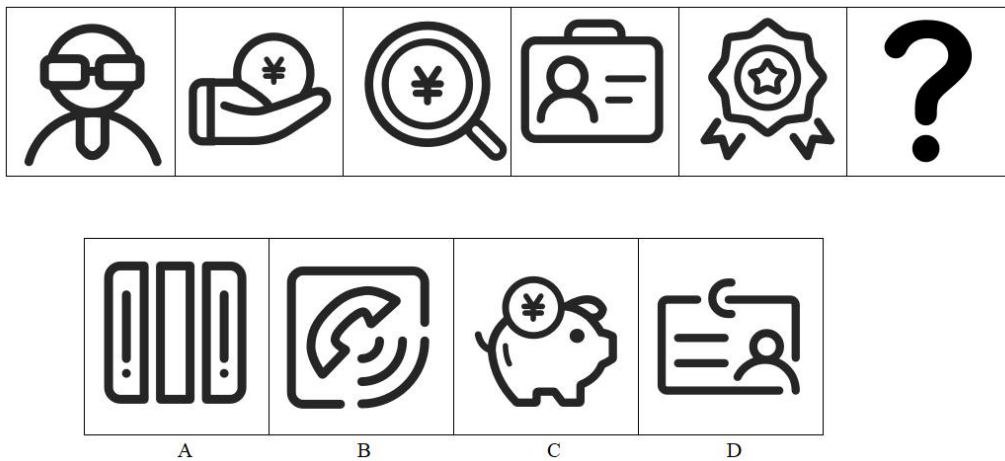
A.①②④, ③⑤⑥

B.①②⑤, ③④⑥

C.①③⑤, ②④⑥

D.①④⑤, ②③⑥

50.从所给的四个选项中,选择最合适的一个填入问号处,使之呈现一定的规律性:



二、定义判断。每道题先给出定义,然后列出四种情况,要求你严格依据定义,从中选出一个最符合或最不符合该定义的答案。注意:假设这个定义是正确的,不容置疑的。

51.垂直整合是一种提高或降低公司对于其投入和产出分配控制水平的方法,也即公司对其生产投入、产品或服务的分配的控制程度。垂直整合意味着公司的价值链与其供应商、经销商价值链之间的整合水平,合并两个在生产过程中处于不同层次的业务。

根据上述定义,下列**没有**反应垂直整合的是:

A.某商品生产企业,为了减少物流成本,提高物流效率,自己建立了单独的物流平台

B.某直播带货平台在获得流量后,根据客户的购买特点构建自己的自营产品生产基地

C.一家线下自制手工艺商店,无意间爆红网络,于是就新开辟了网上售卖渠道

D.食品制造厂为连锁超市提供货物的时候发现不同的货物在不同的区域受欢迎程度不同,因此在相应区域开设针对性食品专卖店

52.渎职罪是指国家机关工作人员利用职务上的便利或者徇私舞弊、滥用职权、玩忽职守,妨害国家机关公务活动的合法、公正、有效执行,致使国家与人民利益遭受重大损失,从而构成的犯罪。

根据上述定义，下列符合渎职罪的是：

- A.某校副校长，利用职权之便，共贪污受贿七千万人民币
- B.某税务局人员，因一个小数点位置的疏忽，险些酿成大错
- C.黄某与同伙串通，在警察抓捕时，故意制造麻烦，暗地里协助同伙逃离
- D.某市工商局科员，借助关系销售假冒的注册商标，共获利五百万元

53.社会人假设认为在社会上活动的员工不是各自孤立存在的，而是作为某一个群体的一员有所归属的“社会人”，是社会存在。这告诉我们人具有社会性的需求，人与人之间的关系和组织的归属感比经济报酬或规章制度更能激励人的行为。所以，“社会人”不仅有追求收入的动机和需求，他在生活工作中还需要得到友谊、安全、尊重和归属等。

根据上述定义，下列哪项最能体现社会人假设？

- A.管理者要重视“正式群体”问题，诸如组织结构、职权划分等
- B.传统管理认为，生产效率主要决定于工作方法和工作条件
- C.在实际奖励时，提倡集体的奖励，而不是只主张个人奖励
- D.管理人员要更加注意指挥、监督、计划、控制和组织等

54.层递是把要表达的意思按照大小、多少、高低、轻重、远近等不同程度逐层排列的写法。排比是把三个或以上结构和长度均类似、语气一致、意义相关或相同的句子排列起来。

根据上述定义，下列选项判断正确的是：

- ①天时不如地利，地利不如人和。
 - ②一日之计在于晨，一年之计在于春，一生之计在于勤。
- A.①是层递，②是排比
 - B.①是排比，②是层递
 - C.①②是排比
 - D.①②是层递

55.把两个意义相对相反的词组合在一起，但在表义上只让一个词起作用，另一个词并不表义，仅仅是一种陪衬，这种修辞表达方式就是复合偏义。两个意义相关相类的词组合在一起产生的偏义现象叫做“连类而及”。

根据上述定义，下列**没有产生偏义**的是：

- A.大夫这个级别的人是不能私自打造车马
- B.只想求得一死，不再考虑利害关系
- C.山下都是石穴和缝隙，无法探知深浅
- D.大军兵临城下，此城已在危急存亡之际

56.英国著名的物理学家牛顿对三大运动定律进行了描述。牛顿第一定律是指一切物体在没有受到力或合外力为0时，总保持静止状态或匀速直线运动状态。牛顿第二定律的一般表述为物体加速度的大小跟作用力成正比，跟物体的质量成反比，且与物体质量的倒数成正比；加速度的方向跟作用力的方向相同。牛顿第三定律是指相互作用的两个物体之间的作用力和反作用力总是大小相等，方向相反，作用在同一条直线上。

根据上述定义，下列属于牛顿第一定律的是：

- A.小明在跑步机上跑步，一个没站稳摔倒了
- B.复活岛上的巨大石像“摩艾”背对大海，沉思了数千年
- C.滑雪中的谷爱凌，纵身一跃，而后平稳落地，一气呵成，没有一点多余的动作
- D.被打的阿Q捂着脸小声嚷嚷到“一个巴掌拍不响，打我你也疼”

57.视觉暂留现象是光对视网膜所产生的视觉在光停止作用后，仍保留一段时间的现象，其具体应用是电影的拍摄和放映。原因是由视神经的反应速度造成的。该现象是动画、电影等视觉媒体形成和传播的根据。

根据上述定义，下列涉及视觉暂留现象运用的是：

- A.李雷用激光笔照射韩梅梅的数码相机，导致后续拍出来的照片都带有一个暗点
- B.张华对中华传统文化很感兴趣，当地文化团的演出场场不落，特别是走马灯表演
- C.王明的奶奶年事已高，总觉得眼前有蚊子在飞，后来查出了飞蚊症
- D.杨丽时常陷入学生时代美好的回忆中，过往的一幕幕如幻灯片一般在她脑海浮现

58.以人为据是用对某人品质的评价为论据来肯定或否定其论断的错误。诉诸权威是以人为据的一种特殊表现。它以权威人士的只言片语为论据来肯定一个论题，或以权威人士从未提出过某命题为论据来否定一个论题。总之，对论题不作任何论证，而唯权威是从。

根据上述定义，下列**不属于**诉诸权威的是：

- A.一位校长说：“男生和女生的逻辑就是不一样，某知名教授一直这么说”
- B.中世纪有一个经院哲学家主张人的神经会合于心脏，于是一个解剖学家请他参观人体解剖，当他亲眼看到人的神经确实在大脑中会合时，他仍不相信，并说：“假如亚里士多德的著作里没有与此相反的说法，那我一定会承认这是真理了。”

C.汪医生行医数十年，最近对算命一事颇感兴趣。对于他人的质疑，汪医生的学生怒斥：“从没有没有一位病人敢这样跟我老师讲话！”

- D.陈晨为人严谨，对于课堂上老师的讲解有疑问时便会翻阅资料，小心求证后再与老师探讨

59.刚性管理是一种以工作为中心，强调规章制度的管理模式，它凭借制度约束、纪律监督、奖惩规则等手段对企业员工进行管理。柔性管理，相对于刚性管理而言，是一种“以人中心”的“人性化管理”，在工作中以情感和文化为基础，主要体现为管理决策柔性化和奖励机制的柔性化。

根据上述定义，下列选项符合柔性管理的是：

- A.王主任在家里总是严父的形象，对女儿总是严格要求，动不动就批评教育，导致女儿一直很害怕他
- B.小红总是八面玲珑、口蜜腹剑，久而久之大家都疏远她了
- C.马老师总是站在学生的角度考虑问题，尊重他们，通过鼓励的方式让他们建立信心，建立良好的班级氛围，引导他们健康成长
- D.新科长铁律如山，严于律人，单位风气焕然一新

60.人格是指个体在对人、对事、对己等方面的社会适应中行为上的内部倾向性和心理特征。人格可分为

自恋型、回避型、强迫型三类：自恋型人格指过于重视自我价值而缺乏对自身和他人进行理性和客观认识的一种人格；回避型人格指行为退缩、心理自卑，面对挑战多采取回避态度或无能应付的一种人格；强迫型人格指过于要求严格和完善，具有强烈的自制心理和自控行为的一种人格。

根据上述定义，下列说法正确的是：

A.王青青敏感内向，因担心自己的言行不当而被人讥笑讽刺，而拒绝参加社交活动，被诊断为强迫型人格

B.吴刚经常无根据地夸大自己的成就和才干，认为自己拥有比他人更多的智慧、聪明，其父母担心他是自恋型人格

C.蒋芳过分注意自己的行为、举止是否适当，往往用十全十美的高标准要求自己，同时又墨守成规，这样的行为让她感觉自己自恋型人格

D.程航不幸患有先天性免疫缺陷综合征，一辈子都只能生活在无菌环境中，这让他自认为自己具有强迫型人格

三、类比推理。每道题先给出一组相关的词，要求你在备选答案中找出一组与之在逻辑关系上最为贴近、相似或匹配的词。

61.手机：通讯

A.电脑：联网

B.唱歌：歌唱

C.画图：图画

D.书钉：钉书

62.研究生：运动员

A.医生：护士

B.服务员：收银员

C.主任：老师

D.机长：飞行员

63.包子：饺子：粽子

A.儿子：孙子：孩子

B.裤子：裙子：帽子

C.孔子：孟子：老子

D.孩子：种子：日子

64.除夕：烟花：浏阳

A.清明：风筝：潍坊

B.元宵：汤圆：团圆

C.端午：甜粽：华北

D.圣诞：火鸡：美国

65.（ ） 对于 差强人意 相当于 一言九鼎 对于 （ ）

A.心满意足；人微言轻

B.大失所望；言而有信

C.不尽人意；出尔反尔

D.称心如意；一字千钧

四、逻辑判断。每道题给出一段陈述，这段陈述被假设是正确的，不容置疑的。要求你根据这段陈述，选择一个答案。注意：正确的答案应与所给的陈述相符合，不需要任何附加说明即可以从陈述中直接推出。

66.有体外研究利用黑咖啡提取物对人体皮肤的影响做了研究，结果显示，黑咖啡提取物能促进 Col1 的合成代谢，还能抑制皮肤出现褶皱的酶 MMP-1 的合成，进而起到调控细胞衰老机制，调解胶原蛋白代谢，

维持胶原纤维及细胞间基质的结构稳定性，改善和修复皮肤褶皱，增加皮肤的紧致感的作用。综上研究得出结论，适量饮用黑咖啡，对延缓皮肤衰老有益。

以下哪项如果为真，最能够为研究的结论提供支持？

- A.黑咖啡提取物还能通过激活 A2AR 通路介导的自噬来延缓皮肤免受氧化应激诱导的衰老
- B.长期坚持每天喝咖啡能降低玫瑰痤疮的发生率，因为咖啡因具有抗炎症作用
- C.咖啡因可促使细胞内钙浓度增加，增强提高力量和肌肉耐力的兴奋机制
- D.过量喝咖啡会使人失眠、心慌、暂时性血压升高、心律不齐、牙齿变黄、增强钙流失

67.根据《临床营养学》中关于感染和外伤病人的营养治疗原则中，强调“热量和蛋白质的含量应略高于正常水平，可用牛奶、鸡蛋、瘦肉末、豆制品等优质蛋白质作为蛋白质来源”。在伤口愈合过程中身体需要消耗更多的蛋白质，所以在受外伤或者手术后食用优质的蛋白质来源，有助于提高优质蛋白摄入量，帮助伤口愈合，提升身体的自愈能力，不存在外伤的饮食禁忌。

下列选项中，最不能支持上述论断的是：

A.安全食用海鲜其实不仅不会延缓伤口愈合，其富含的优质蛋白质更有助于提升身体免疫力，促进伤口愈合

- B.羊肉本身营养丰富，可以为患者康复提供蛋白质补充，对伤口愈合百利而无一害
- C.豆腐的制作工艺，极大地提升了大豆蛋白的消化和吸收，外伤后吃豆腐更有助于伤口愈合
- D.身体受外伤之后愈合的过程比较复杂，受多重因素影响，可以大概分为内因和外因

68.变形杆菌是一种腐败菌，在土壤、垃圾、污水及人和动物肠道内广泛分布，一般不致病，一旦有大量的活菌侵入人体肠道，就会引起变形杆菌食物中毒。由于变形杆菌对食物营养要求不高，极易污染熟肉、动物内脏熟制品以及病死家畜等动物性食品，且被污染的熟制品并无异样，很容易被忽视。因此有人认为，变形杆菌中毒无法预防。

下列选项最能削弱上述论证的是：

- A.一旦中毒，会出现上腹部刀绞痛、急性腹泻或皮肤潮红出现瘙痒皮疹等症状
- B.日常生活中最好不要自制发酵食品或腌制食品，可直接在正规厂家购买
- C.虽然变形杆菌具有高污染性，但食物只需要在 100℃ 的环境中煮沸即可破坏毒性
- D.变形杆菌食物中毒是由于摄入大量变形杆菌污染的食物所致

69.只有文化具备多样性且一体性，中华文化才能赓续不绝。如果文化具备多样性且一体性，就能在碰撞交流、兼收并蓄中与时俱进。灿烂多样的文化交相辉映，中华文化历久弥新，这是今天我们强大文化自信的根源。

由此可以推出：

- A.只要文化在碰撞交流、兼收并蓄中与时俱进，就能使文化具备多样性且一体性
- B.如果文化具有多样性，那么就能在碰撞交流、兼收并蓄中与时俱进
- C.除非文化在碰撞交流、兼收并蓄中与时俱进，否则中华文化无法赓续不绝

D.只有中华文化赓续不绝，才能在碰撞交流、兼收并蓄中与时俱进

70.拖延症（有人戏称“懒癌”）虽不是一种精神疾病，但却普遍存在，尤其在年轻人中。据估计，至少有一半的大学生会持续存在拖延症，如推迟学习或写论文。此前的研究表明，拖延症与孤独感和生活满意度降低有关。而1月4日，发表在《美国医学会杂志》网络版上的一项新研究证实，拖延症还会导致健康状况恶化，包括身体疼痛、睡眠不佳以及抑郁和焦虑症状。

以下哪项如果为真，最能削弱上述新研究？

A.拖延症和健康问题之间的联系较弱，它们并没有显示出强烈的影响

B.拖延症和健康恶化均为压力大导致的结果

C.慢性拖延症会影响到生活中的各个方面，对生活质量的影響范围更大

D.拖延症是指自我调节失败，在能够预料后果有害的情况下，仍然把计划要做的事情往后推迟的一种行为

五、综合判断推理。每道题给出若干材料，要求你根据所给材料，在每小题中选择一个最恰当的答案。

材料题

导生关系，即研究生导师与研究生关系的简称，是导师与研究生为完成研究生培养任务，在教育教学、科研指导和日常交往等活动中形成的稳定社会关系，是导师和研究生相互作用的结果。针对这一话题，网络上出现了不同的声音。

网友1：研究生导师是我国研究生培养的关键力量，肩负着培养国家高层次创新人才的使命与重任。因此，和谐导生关系的构建事关推动创新型国家的实现。

网友2：古语有云“一日为师，终生为父”，但是在当前这样一个浮躁的、急功近利的社会环境下，导师与研究生之间的关系已经和古代的师徒关系完全不同了。

网友3：如果导师是一个个体户老板的话，那么研究生就相当于这位个体户老板请来的员工，二者类似于上级和下级之间的关系。

网友4：据某杂志统计，2018年7月-2020年10月间，仅出现在微博热搜中的研究生自杀事件就达44起，且月发生频次也逐渐提升，由此可见，我国研究生教育中导生关系的现实状况越来越不尽如人意。

网友5：导师虽然在学问、学术、学识等层面高于学生，但是导生关系是双向互动关系。只有在相互尊重、平等相处的状态下，导师与学生的沟通交流才能有效。必须确保师生的人格平等、地位平等，导学活动才能凸显其教育价值和意义。

根据上述材料，回答下列71~75题。

71.以下选项如果为真，哪项是网友1论证所需要的前提？

A.当今世界的综合国力竞争，说到底人才竞争，人才是实施创新驱动发展战略和建设创新型国家的核心要素

B.导师给予研究生更多的指导与关心，获得研究生更多的正向情感反馈，研究生可以投入更多的精力用于科研与学习

C.给予劳动力和人才归属感、获得感，真正实现事业留人、感情留人、待遇留人、制度留人，才能让人才成长和城市发展相得益彰

D.创新型国家的本质是依靠创新活动推动经济发展和竞争力提高，其测度指标主要体现在创新资源、知识创造、企业创新、创新绩效、创新环境等方面

72.以下选项如果为真，最不能支持网友 2 的是：

A.现在的导生关系比较特殊，是众多复杂人际关系中的一种。既有长辈对晚辈的提携，又有类似“剥削”的相处模式；既有传统的师徒成分，又有老板与员工的意味

B.在学生看来，很多老师只顾着自己的事情而忽略了自己的职责，更别说还出现了那么多师德败坏的事情

C.有的导师经常出差，很少与学生联系，导致学生一直处于自由摸索阶段，有导师等于没有

D.在老师眼中，尊师重道的传统美德在逐渐消失，学生越来越自我，越来越不把老师当回事了

73.以下选项如果为真，最不能支持网友 3 的是：

A.导师会根据研究生做项目时的表现，利用课题经费定期给研究生发“员工”工资

B.有些和导师关系不错的研究生遇到导师之后不叫对方“导师”，而是直接叫“老板”

C.研究生如果遇到一个不负责任的导师，那么将不利于研究生个人的成长

D.读研期间，研究生缺少科研自由，会像下级一样根据导师的要求完成相应的任务

74.以下哪项最能揭示网友 4 的论证缺陷？

A.忽略了研究生自杀的原因是复杂多样的

B.忽略了研究生与其他群体的自杀率比较

C.默认了研究生需要切实提升自己的综合素质

D.默认了良性导生关系有利于开展教育教学活动

75.通过网友 5 的表述中，可以推出的是：

A.导师与学生的沟通缺乏有效效果，一定是因为导师没有尊重学生

B.除非确保导师与学生的地位平等，否则导学活动将无法凸显其教育价值和意义

C.双向互动关系既维护了导师的权威，也能给学生一定的学术自由和个性发展空间

D.近年来导生关系不尽如人意，急需建设好导师队伍、优化研究生培养环境

后一天是周几?

- A.四
- B.五
- C.六
- D.日

二、资料分析。所给出的图、表、文字或综合性资料均有若干问题要你回答。你应根据资料提供的信息进行分析、比较、计算和判断处理。

(一) 根据所给资料，回答 81-85 题。

根据对全国 31 个省（区、市）的调查，2022 年，全国粮食播种面积 118332 千公顷（177498 万亩），比 2021 年增加 701 千公顷，比 2020 年增加 1564 千公顷。全国粮食单位面积产量 5802 公斤/公顷，比 2021 年减少 3.3 公斤/公顷。全国粮食总产量 68653 万吨，比 2021 年增加 368 万吨，比 2020 年增加 1704 万吨。

2022 年全国及各省（区、市）粮食产量

省/市	播种面积 (千公顷)	总产量 (万吨)	省/市	播种面积 (千公顷)	总产量 (万吨)
北京	76.7	45.4	湖北	4689	2741.1
天津	376.7	256.2	湖南	4765.5	3018
河北	6443.8	3865.1	广东	2230.3	1291.5
山西	3150.3	1464.3	广西	2829.3	1393.1
内蒙古	6951.8	3900.6	海南	273	146.6
辽宁	3561.5	2484.5	重庆	2046.7	1072.8
吉林	5785.1	4080.8	四川	6463.5	3510.5
黑龙江	14683.2	7763.1	贵州	2788.7	1114.6
上海	122.8	95.6	云南	4211	1958
江苏	5444.4	3769.1	西藏	192.6	107.3
浙江	1020.4	621	陕西	3017.5	1297.9
安徽	7314.2	4100.1	甘肃	2699.8	1265
福建	837.6	508.7	青海	303.5	107.3
江西	3776.4	2151.9	宁夏	692.3	375.8
山东	8372.2	5543.8	新疆	2433.9	1813.5
河南	10778.4	6789.4	全国总计	118332.1	68652.8

81.2020 年全国粮食单位面积产量约为 () 吨/公顷。

- A.0.17
- B.1.72
- C.5.73
- D.5.81

82.2021 年全国粮食播种面积约为 () 亿亩。

- A.11.8
- B.17.6

- A.约高 3 个百分点
- B.约低 3 个百分点
- C.约高 7 个百分点
- D.约低 7 个百分点

89.2021 年末，人工游泳场数量占全国体育场地数量的比重为（ ）。

- A.0.45%
- B.0.35%
- C.0.8%
- D.无法确定

90.根据上述材料，不能推出的是：

- A.2021 年末，事业单位和企业的体育场地面积之和约占全国体育场地面积的六成
- B.2021 年末，全国球类运动场地比田径场地多 10 倍以上
- C.2021 年末，全国健身步道平均宽度超过 2.5 米
- D.2019 年末，全国体育场地数量为 380.2 万个

第五部分 策略选择

(共 10 题, 参考时限 10 分钟)

一、单选题

91.假如你班上有这样一个学生,上课发言从来不举手,张嘴就说,毫无纪律可言,还经常做小动作招惹其他同学,惹得大家都讨厌他,除此之外,他还经常欺负同学,有时候上课拽女生的头发、无缘无故的骂人,很多的同学都不愿与他同桌;学他的学习成绩差,且不能按时完成作业,连他自己都辨认不出自己写的什么字,针对这样的学生,你不会()

- A.与家长联系,了解他的生活环境
- B.进行个别辅导,帮助学生养成良好的学习习惯
- C.多表扬学生,利用他的表现欲
- D.当众批评他,让他化压力为动力

92.你班上有这样一个学生,自尊心很强,学习很努力,但内心较敏感,多愁善感,不能容忍自己犯错,也不能承受别人批评她。有一天你正在上课,这位女生迟到了,你批评了她几句,她就在课堂上哭了很久。如果你是这位老师,你会如何对待这样的学生()。

- A.委婉暗示,多关心、爱护她,不在公开场合批评她
- B.不闻不问,给她足够的时间进行自我反思
- C.采用多种教育方式,在严厉批评缺点的基础上,鼓励她勇于克服困难
- D.直截了当,锻炼其自制力,发扬她勇于进取的个性

93.班上的任课老师反映,班上经常会出现这样的情形:安静的课堂上,忽然有学生嬉笑打闹;考试前,老师三令五申严肃考纪,但巡视中却发现一个学生正在抄袭……这些事情的发生,破坏了正常的教学秩序,常常使老师们非常恼火。假如你是该班班主任,最恰当的处理方式是()

- A.与各位任课教师商定,一旦学生违反课堂纪律就告诉我进行批评教育
- B.大声呵斥违反纪律的学生,用威严震慑学生
- C.先给各任课教师提供学生作弊和课堂突发事件的处理策略,再采用民主管理的方式,与大家共同制定班级班规,培养班级凝聚力
- D.每次有学生违反纪律,就将违反纪律的学生赶出教室

94.小刘是一名初中二年级的男生,调皮叛逆,经常和老师对着干,和班里的同学关系也不好,但学习成绩优异,是典型的“大错不犯,小错不断”的学生。这学期还经常不穿校服上学,班主任认为他没有遵守学校规定,多次劝说无果,有一天,他竟然直接赤裸上身来上课,假如你是该班班主任,你会如何处理()

- A.当众批评,让他知道自己的行为有多恶劣
- B.小刘的行为虽不太好,但成绩优异,教师可睁一只眼闭一只眼
- C.耐心和家长沟通,让家长去处理
- D.先让他穿上衣服听课,课下采用有针对性的解决方法

95.我班学生小张自认为家庭比较富裕,在学生中摆谱,经常去商店买零食吃,还买一些小玩具带到学校玩,学习一点也不用心,把精力都用到吃零食和玩玩具上了,并且拉帮结派,拉拢学生和他一起玩。作为

班主任，你应该（ ）

- A.控制其他学生和小张交往，阻止小张进行拉帮结派的行为
- B.坚持疏导原则，晓之以理，树立正确的价值观
- C.发挥集体教育的作用，让其他学生监督小张，一旦他出现吃零食、拉帮结派的行为，就立即上报老师
- D.与家长协商不要给他零花钱，并让小张回家反思一个星期

96、杜老师是高 52 班的物理老师，教学能力较强，但身高不高。有一次物理测验，学生成绩普遍很差，杜老师非常生气，罚全班同学站着听课，结果大家站起来后都比他高，他被淹没在人群里，全班同学开始哄堂大笑，如果你是这位物理老师，你会（ ）

- A.严厉批评大家，考不好还好意思笑
- B.让大家把试卷抄十遍
- C.幽默的告诉大家“浓缩才是精华，不以身高论英雄”
- D.为了挽回自己的面子，让大家坐下听课

97、一个爸爸很关注儿子的学习情况和班级里学习环境情况。于是一次他问儿子：“你们班上自习课的时候有多少人？”儿子说：“老师在的时候有 45 人。”于是爸爸又问：“老师不在的时候有多少人”。儿子回答：“一个人也没有。”作为班主任，针对大家不愿上自习课的情况，召开一次主题班会，主题应为（ ）

- A.学会自律
- B.学会分享
- C.学会坚持
- D.尊重老师

98、王老师在教《两条小溪的对话》时，让学生分角色表演。有一位学生问，“老师，我能不用书中的原话吗？”老师和蔼地问，“为什么呢？”“因为书中的原话太长，我背不下来，而且拿着书表演，又不太好。”学生说出了原因。“你的建议很好，那你就用自己的话来表演吧。”王老师温和地说。果然，这个学生表演得非常出色。

下列选项中对王老师做法的评价，错误的是（ ）。

- A.王老师太过放任学生
- B.王老师真正做到了尊重学生
- C.王老师的做法是课堂民主的具体体现
- D.王老师和学生在师生之间实现了民主平等

99、某市一位优秀的班主任李某，按照规定减轻学生的负担，放手培养学生的创新能力，却使班级的综合成绩下降到全年级倒数第二名，成为差班之一。他感到了巨大的压力，这位老师接下来应该（ ）

- A.改变自己的教育观念，加大作业量，提升学生综合成绩
- B.重点抓班级的后十名，严格管理，让他们不要拖班级后退
- C.继续保持减负教育，创新能力的培养才是当前素质教育的重点
- D.提高自身素质，推行更有效的教学，既注重学生智育，又注重培养学生创新能力

100、老师和家长都反映萌萌是个“不开窍”的孩子，别的同学背课文，一下子就背写过了，可他读了好多遍，还是记不住，丢三落四，常用字常会错，渐渐地学习也提不起兴趣。面对这种情况，班主任的做法

不合适的是（ ）。

- A.教会萌萌记忆的技巧与方法，让她乐于记忆
- B.帮助萌萌树立自信心，增强她的自我效能感
- C.强行要求萌萌比其他同学多花一些时间记忆
- D.培养萌萌独立、灵活、敏捷的健康思维习惯