

## 2021 年度湖北省事业单位联考《职业能力倾向测验 D 类》 密卷模考 2

重要提示：

为维护您的个人权益，确保格木教育事业单位模考的公平公正，请您协助我们监督考试实施工作。

本场考试规定：监考老师要向本考场全体考生展示题本密封情况，并邀请 2 名考生代表验封签字后，方能开启试卷袋。

条  
形  
码

请将此条形码揭下，  
贴在答题卡指定位置。

准考证号

姓名



## 第一部分 常识判断

根据题目要求，在四个选项中选出一个最恰当的答案。

请开始答题：

1.在对学生进行德育时，要坚持集体教育和个别教育相结合，这体现的教育思想是：

- A.平行管理思想
- B.民主管理思想
- C.常规管理思想
- D.目标管理思想

2.维果斯基提出“最近发展区”，教学要走在学生发展的前面，在此基础上提出的教学原则是（ ）

原则。

- A.量力性
- B.科学性和思想性
- C.巩固性
- D.因材施教

3.下列教育人物与教学模式对应不正确的是：

- A.布鲁姆：结构教学
- B.赞可夫：发展性教学
- C.罗杰斯：非指导性教学
- D.巴班斯基：过程最优化教学

4.下列说法不正确的是：

- A.我国学校教育最早出现在夏朝，设“庠、序、学、校”以教之
- B.西周的教育内容是以“礼乐”为核心的六艺，其中御指的是驾马车的技术
- C.春秋战国时期，被称为显学的是儒家学派和道家学派
- D.隋朝创设了比较公平公正的人才选拔制度——科举制

5.下列关于学生的说法不正确的是：

- A.学生在受到了不公正待遇之后，可以申诉
- B.学生具有巨大的发展潜能
- C.学生具有一定的依赖性，所有在教学中要适当培养学生的独立自主
- D.学生最主要的权利的人身自由权

6.四大名楼是指四座古代著名楼阁，关于四大名楼下面说法错误的是：

- A.滕王阁上可见赣江之水奔流北上，汇入长江
- B.黄鹤楼外长江奔腾，李白诗云“烟波江上使人愁”正写此景
- C.岳阳楼前可能见到“气蒸云梦泽，波撼岳阳城”的景象
- D.鹳雀楼是四大名楼中唯一位于长江以北的

7.下列用于气候预测、环境监测、科学研究的气象卫星系列的是：

- A.“海洋”卫星
- B.“风云”卫星

C. “天绘”卫星  
D. “北斗”卫星

8. 下列事件与所处时代不相符的是：

- A. 秦始皇命人收集汗血宝马入皇陵陪葬
- B. 南北朝时期不少人崇敬三清
- C. 南宋时期抗元士兵使用火炮抵挡元兵进攻
- D. 康熙年间张三佩戴眼镜看书

9. 下列现象中，不属于分子运动的是：

- A. 长期堆煤的墙角变黑
- B. 樟脑丸放久了会变小
- C. 寒冬雪花飞舞
- D. 墨水在水里扩散

10. 下列说法错误的是：

- A. 汽车隔热膜的效果和膜的颜色深浅没有必然的关系
- B. 硬水容易导致用水器具产生水垢
- C. 鸡蛋保存时不宜用水清洗
- D. 维生素能为人体提供能量

11. 根据相关的法律法规，下列说法正确的是：

- A. 甲与乙签订的买卖合同生效后，发现价款约定不明确，可再签订补充协议
- B. 丙在购物平台上购买的商品，交付时间为下单时间
- C. 丁把从朋友处借的电脑卖给戊，戊取得电脑后并没有电脑的所有权
- D. 己与朋友签订赠予合同后后悔，不可撤销该合同

12. 下列说法错误的是：

- A. 衣物上的蓝墨水污迹，可用牛奶搓揉清洗
- B. 早晨蜘蛛网上有水珠表示天气晴朗
- C. 扎啤是经过发酵的啤酒
- D. 自来水管“出汗”是水蒸气液化的结果，常常是下雨的预兆

13. 下图属于哪种地貌区？



- A. 喀斯特地貌
- B. 雅丹地貌

C.丹霞地貌 D.冰川地貌

14.关于霍乱，下列说法错误的是：

- A.病人需要及时补充水和电解质
- B.属于甲级传染病
- C.可酌情使用肾上腺皮质激素用于治疗
- D.可以与霍乱感染者共用水盆

15.面对经济下行，需求不足，我们该采取的宏观调控不包括：

- A.提高个税起征点
- B.扩大财政赤字
- C.提高银行基准利率
- D.买进政府债券

16.以下生活现象中和其他三项不同的是：

- A.磨刀霍霍向猪羊
- B.铁杵成针
- C.铁轨下铺放枕木
- D.破窗锤的敲击端做成锥状

17.下列物理知识及其应用的说法，错误的是：

- A.将一角硬币平放在水面上是因为水的浮力作用
- B.运动员掷铅球前高速绕圈转动是为了获得更大的角速度
- C.当时钟电量耗尽，秒针一般会停留在9处
- D.水银温度计的工作原理是热胀冷缩

18.有关我国著名科学家的说法错误的是：

- A.李四光为我国石油工业的发展做出了重要贡献
- B.王淦昌是世界激光惯性约束核聚变理论的创始人之一
- C.华罗庚证明了哥德巴赫猜想
- D.竺可桢是我国物候学的创始人

19.关于下列常见的科技名词，说法错误的是：

- A.黑客是采用非法手段进入计算机网络的人
- B.格式化通常会导致现有磁盘中的文件被清除
- C.“信息高速公路”是欧盟提出的信息基础设施的说法
- D.人工智能简称为AI

20.1959年，（ ）发射的“月球2号”卫星成为最先把物体送上月球的卫星。

- A.美国
- B.苏联
- C.德国
- D.中国

## 第二部分 言语理解与表达

本部分包括表达与理解两方面的内容。请根据题目要求，在四个选项中选出一个最恰当的答案。

请开始答题：

21. 红色基因不是古董，她的生命力在于挖掘出新的时代内涵，彰显出新的时代价值。感悟革命传统的崇高，激活我们身上的红色基因，最终要体现到为崇高事业的不懈奋斗中。惟有保持革命战争年代那么一股劲，那么一种革命热情，那么一种拼命精神，才能使红色基因\_\_\_\_\_，使我们的事业永续推进。

依次填入划横线部分最恰当的一项是：

- |         |         |
|---------|---------|
| A. 代代相传 | B. 发扬光大 |
| C. 深入人心 | D. 根深蒂固 |

22. “道德是社会关系的基石，是人际和谐的基础。”在道德践履的路上，没有人可以\_\_\_\_\_。以良好风气的软引导呼唤公德，以制度法律的硬约束护佑公德，文明的沃土就不会沙化。更关键是你我共同呵护，点点滴滴磨砺道德自觉，危急关头果断施以援手，这样，社会公德就不会遭遇破窗效应，文明的幼苗就能长成参天大树。

依次填入划横线部分最恰当的一项是：

- |         |         |
|---------|---------|
| A. 独善其身 | B. 袖手旁观 |
| C. 逃之夭夭 | D. 置身事外 |

23. 最近，中共中央纪委机关、中共中央组织部、国家监察委员会联合印发了《关于严肃换届纪律加强换届风气监督的通知》，强调要贯彻落实新时代党的组织路线，树立正确的选人用人导向，深入整治选人用人不正之风，这为严肃换届纪律、保证换届工作顺利开展、营造\_\_\_\_\_的换届环境提供了基本遵循和重要保证。

填入划横线处最合适的一项是：

- |         |         |
|---------|---------|
| A. 两袖清风 | B. 高风亮节 |
| C. 风清气正 | D. 一清如水 |

24. 实干方能兴邦、实干方能强国、实干方能富民。一切不思进取、庸政怠政、明哲保身、得过且过的思想和行为都是同人民群众期盼、同新时代新要求\_\_\_\_\_的。

填入划横线处最合适的一项是：

- |         |         |
|---------|---------|
| A. 大相径庭 | B. 南辕北辙 |
| C. 格格不入 | D. 针锋相对 |

25. 实践“三个代表”，加强和改进党的作风建设，必须把思想作风建设摆在第一位。只有坚持解放思想、实事求是，反对\_\_\_\_\_、不思进取，以与时俱进的思想观念和奋发有为的精神状态开展工作，才能不断推动改革开放和社会主义现代化建设事业向前发展。

填入画横线部分最恰当的一项是：

- |         |         |
|---------|---------|
| A. 因循守旧 | B. 沾沾自喜 |
| C. 妄自菲薄 | D. 刚愎自用 |

26.领导干部“说农话、吃农饭、干农活、睡农炕”，进寻常百姓家，到田间地头，入生产一线，\_\_\_\_\_泥土芬芳，感知百姓冷暖，不摆架子，不打官腔，不管是深入基层还是平时生活中都能与人民群众打成一片，这样\_\_\_\_\_接地气，能够融洽干群关系，增强公仆意识和为民情怀，更好的联系群众，服务群众。

填入划横线部分最恰当的一项是：

- A.播撒 下马观花  
B.感受 随机应变  
C.体味 入乡随俗  
D.体会 入境问俗

27.格格村以前穷，健身设施少，村民想健身也难找到地方。近年来，在驻村扶贫工作队的帮助下，格格村建起了健身广场、配备了健身器材、请来了体育指导员，让村民在家门口就能锻炼身体——\_\_\_\_\_的健身设施为生活\_\_\_\_\_了一抹亮色。

依次填入划横线部分最恰当的一项是：

- A.唾手可得 增加  
B.近在咫尺 增进  
C.触手可及 增添  
D.比肩而立 描画

28.网络语言幽默风趣，生动活泼，有不少还\_\_\_\_\_社会潮流，传递公众心声，常常能给人以耳目一新之感，所以深受人们特别是年轻人的喜爱。在这种情况下，一看到“拒绝网络流行语”这样的字眼，有些人心里不舒服，表示要为“网络语”鸣不平。其实大可不必，国家机关公文、教科书等拒绝网络语\_\_\_\_\_。

填入划空格处最恰当的一项是：

- A.引领 无可厚非  
B.顺应 无可非议  
C.影响 不容置喙  
D.控制 毋庸置疑

29.大疫落定，新加坡《联合早报》一位记者来到武汉，她看到的是一个\_\_\_\_\_、充满活力和生机的城市，学校里孩子们盛装打扮，菜市场整齐干净，堵车高峰车龙一眼望不到头，路边烧烤摊烟火缭绕，个体户大姐朴实而坚强……她不由感慨：听说疫情曾来过。毫无疑问，武汉已经从百年不遇的疫情中\_\_\_\_\_、浴火重生。

填入划空格处最恰当的一项是：

- A.井井有条 重整旗鼓  
B.循规蹈矩 破茧成蝶  
C.按部就班 凤凰涅槃  
D.生机勃勃 破釜沉舟

30.兰州高龄环卫工被要求签“生死状”事件连日来引发众多网友关注。按照国家规定和相关政策，这部分人员属于劝退范围，但大部分环卫职工属于低收入家庭，根本不愿意放弃这个工作岗位。超过年龄的环卫职工无法办理工伤保险，才签订了所谓的“生死状”。“生死状”\_\_\_\_\_出老无所依的尴尬，老无所依不是子女的过错，也不是政府不作为，而是多种因素的时代造就。这需要政府制定更可行的方案，不能一味的只考虑补贴，老人只要能劳动，就要给他们\_\_\_\_\_的机会。

填入划空格处最恰当的一项是：

- A.折射 自食其力  
B.暗示 自力更生  
C.传递 自强不息  
D.显示 自给自足

31.无所畏才能“云开见月，柳暗花明”。干事创业不可能是\_\_\_\_\_的，前进的道路上难免遇到困难和挫折，如果我们没有一个坚定的信念和一股克难的勇气，那么我们的工作可能就会半途而废，事业也会

\_\_\_\_\_。作为党员干部，尤其是年轻的干部，我们要有敢为人先的闯劲和舍我其谁的担当，把党的事业和人民的重托落到实处。

填入划横线部分最恰当的一项：

- A.一蹴而就 败走麦城                      B.一帆风顺 折戟沉沙  
C.一挥而就 偃旗息鼓                      D.一马当先 进退维艰

32.如今，一支话筒、一个摄像头、一台电脑就可打造出一场令人\_\_\_\_\_的直播购物。大到飞向太空的火箭发射服务，小到田间地头的马铃薯，都能在直播间被“买买买”——这是“万物皆可直播”所带来的火爆景象。在直播电商\_\_\_\_\_发展的同时，不少问题也开始浮现。

填入划横线部分最恰当的一项：

- A.博人眼球 如日中天                      B.刮目相看 风起云涌  
C.另眼相看 方兴未艾                      D.耳目一新 如火如荼

33.当下，表情包已经成为不可或缺的社交语言之一。但软萌的儿童与带“颜色”的文字组合在一起，还是引发了很大争议。网络聊天可以轻松愉快些，使用表情包也\_\_\_\_\_，前提是\_\_\_\_\_道德与法律的底线，儿童软色情表情包已经突破了底线。但是，表情包的使用场合多较为\_\_\_\_\_，这也给打击治理带来了难度，但这并不意味对它就无计可施。

填入划横线部分最恰当的一项：

- A.情有可原 僭越 隐秘  
B.无可厚非 逾越 私密  
C.理所当然 跨越 频繁  
D.无可非议 超越 分散

34.文物不可再生，历史不可\_\_\_\_\_。因此，每一座历史文化名城的存在，都弥足珍贵，实属难得，需要我们真诚地去爱护，呵护好她，建设好她。呵护需要精心，建设需要科学，城市规划和建设要高度重视历史文化保护，不\_\_\_\_\_，不大拆大建，其一桥、一楼、一街、一砖、一瓦，都当尽力维护好其历史原貌，就如习近平总书记所讲，要更多采用微改造这种“\_\_\_\_\_”功夫，注重文明传承、文化延续，让城市留下记忆，让人们记住乡愁。

填入划横线部分最恰当的一项：

- A.移植 贪大求快 修缮  
B.复制 急功近利 绣花  
C.重来 急于求成 易容  
D.再现 鞭打快牛 微整

35.张生全的小说机智漂亮，很吸引人。一部《重返蜀山》，\_\_\_\_\_，读完深陷于其中众多的人物、生动的细节和积极昂扬的主题中，使人很难走出作者的“猜谜”式的写作陷阱。《重返蜀山》人物繁多，场景刻画精妙，而能做到\_\_\_\_\_，是因为作者对人物的刻意安排以形成多声部合唱的框架，尽可能全面\_\_\_\_\_地呈现生活。

填入划横线部分最恰当的一项：



- A.浩如烟海 条分缕析 多维
- B.妙语连珠 井然有序 客观
- C.洋洋洒洒 有条不紊 立体
- D.卷帙浩繁 一气呵成 真实

36.诗歌具有教化作用，古已有之。孔子说：“诗，可以兴，可以观，可以群，可以怨。”可见，诗教的内涵丰富而又具体。中华文化自来重视人的道德养成，对于接受知识教育的当代青少年来说，道德教育同样重要。我们与其板起面孔对他们进行严肃的道理说教，不如以寓教于乐为原则，寻求一种更感性、更活泼、更优美的道德教育方式。而诗歌正是这样一种能够给人带来愉悦享受与心灵触动的，也易于被人接受的教育样式。

这段文字主要强调：

- A.道德教育是青少年的基础教育
- B.诗歌的内涵丰富具体、活泼感性
- C.我们应寻求更有效的道德教育方式
- D.诗歌作为道德教育方式更有效

37.随着大众生活水平的不断提高，人们愈发重视饮食结构与身体健康。有些人在反思自身饮食结构后，认为吃素可以让自己更加健康长寿。其实，坚持素食有助于长寿、以为所有蔬菜一样好、素食就一定要以生冷食物为主等都是吃素的误区。吃素的好处固然很多，如降低胆固醇含量、减少肾脏负担、净化血液、降低患癌风险等，但长期吃素会导致身体缺乏蛋白质、维生素 B12、铁元素等。因此，并不是所有人都适合吃素。

下列选项正确的一项是：

- A.人们对于饮食的重视使得大众饮食水平不断提高
- B.大多数人认为吃素可以让自己延年益寿
- C.坚持素食主义也需要因人而异
- D.长期吃素弊大于利

38.如何在中小学加强学生手机管理，近年来成为摆在广大教育工作者面前的难题。智能手机，不仅是通信工具，还有上网、游戏和社交等多种功能。自控力较差的学生，容易沉迷其中，浪费时间，损害视力，甚至接触到暴力、色情等不良信息。现在让学生学会正确使用和管理手机，将来学生走上社会，才有可能在面对更新的事物时做到正确驾驭、合理使用。学会正确使用手机是一门必修课，也是当下教育的一部分。

这段文字想要表达的主要意思是：

- A.学校要将手机使用纳入日常教育管理
- B.手机如何才能拿得起、放得下、管得住
- C.教育工作者应该把手机管理作为第一要务
- D.学生面对手机要做到正确合理地使用

39.让城市发展更智慧一些，离不开制度创新更进一步。随着智慧城市治理实践的深入，人们越来越发现，数据积累难、共享难的问题，背后都有体制机制不健全的问题。比如，数据因归集难、无标准而无法互

通，会让有些智慧平台难有用武之地；缺乏数据监管机制和技术，导致相关部门担心泄露问题而不愿分享重要数据；地方数据管理权限不高，会影响相关治理的大数据分析以及相关业务的办理。这些问题，都有待制度创新来破题。只有在实践中不断摸索完善，依靠制度创新驱动，打破“数据桎梏”，才能不断提升智慧城市数字治理的水平。

这段文字想要表达的主要意思是：

- A. 体制机制不健全是智慧城市发展的瓶颈
- B. 打造智慧城市，完善数据监管机制
- C. 打破“数据桎梏”，打造智慧城市
- D. 制度更创新，城市更聪明

40. 特教事业是社会发展的一个重要兜底工程，既要“一个都不能少”，又要尊重差异、突出特色。因此，要不断优化教育结构、学科专业结构、人才培养结构，紧扣落实立德树人根本任务，采取相互融合、相互衔接的教育方式，建设一支高素质特殊教育师资队伍。通过不断深化特殊教育课程内容改革，着力完善符合特殊少年儿童需要的特殊教育教材建设。多措并举提升特殊教育发展水平，使特殊教育更好地对接发展所需、基层所盼、民心所向。

这段文字意在说明：

- A. 多方合作是优化特殊教育结构的关键举措
- B. 更好的呵护源于更优质的特殊教育服务体系
- C. 特殊教育应该回应发展所需、基层所盼、民心所向
- D. 特教事业需要在尊重差异中突出特色

41. 每逢各种审计报告出炉，公众莫不满怀期待，希望看到哪些部门越轨违规。如果审计报告对有问题的部门和地方“隐姓埋名”，必然会使审计工作的效果打折扣。近年来，屡屡掀起的“审计风暴”查出不少问题，着实让一些地方和部门的官员感觉“面子挂不住”。这正是发现问题之后通过公开形成压力，推动问题解决的重要方式。一些地方的审计报告披露问题时隐去名称，用“部分、一些、少数”等说法来代替，看似有“人情味”，给相关部门和地方留了面子，实际则是履行职责不到位。长此以往，势必纵容歪风邪气。这不是真爱护，而是溺爱。

通过文段可知，作者对审计报告“隐姓埋名”的态度是：

- A. 十分理解
- B. 心存质疑
- C. 强烈不满
- D. 未置可否

42. 古代服饰的颜色搭配主要是为了区别等级，或将自己的朝代与前朝区别开来，或将皇帝与芸芸众生区分，以严格的等级服饰来显示皇帝的尊贵和威严，或用于官员们区别官职品级的大小等。而现代人讲求衣服的颜色搭配，往往只是出于审美的角度，以协调人与周围的环境。

这段文字接下来最可能谈论的是：

- A. 古今对颜色搭配理解的异与同

- B.现代人衣服颜色搭配有何讲究
- C.现代人对服饰的具体审美标准
- D.和谐成为服饰搭配永恒标准

43. \_\_\_\_\_。要在“引”上下功夫，通过完善编制管理、职称评定、人才招录等政策，吸引更多优秀高校毕业生、教师、医生等到一线开展工作，以乡愁、乡情为纽带，引导乡贤人才反哺桑梓，为乡村振兴提供“源头活水”。在“育”上下功夫，加大人才培育力度，不断创新培养方式、拓展培养渠道、完善培育机制，满足各路人才在知识、技能提升等方面的需求，积极搭建平台，为人才提供干事创业的载体，激发人才队伍的内生动力。在“留”上下功夫，加大农村基础设施建设的投入，提升教育、医疗、文化等公共服务的供给水平和质量，营造“拴心留人”环境，为人才在乡村发挥专业所长提供优越条件，增强其在乡村振兴过程中的归属感、幸福感和价值感，让人才在农村地区干的住、留得下，为乡村全面振兴提供强劲新动能。

填入划横线部分最恰当的一项：

- A. “筑巢引凤” 助推城乡经济一体化
- B. 夯实制度基础，提升基层堡垒战斗力
- C. 乡村振兴的每一步都离不开人才支撑
- D. 多方合力共同绘就乡村振兴壮美画卷

44.①希望在此基础上，涌现出一大批真正的、知名的考古科学家

②科技考古方兴未艾，考古科学家却寥若晨星

③关键原因还在于社会的传统观念乃至广义“考古”领域中，人们还习惯性地把科学手段作为“偏门”，科学家似乎也在甘做“配角”

④在我国文明探源工程的带动下，多学科正在通力协作，深入涉及文明起源、人类迁徙、社会阶层形成演化、东亚文化交流等诸多全世界关注的话题

⑤换个角度来看，世界范围的文明交流过程，更需以共同熟知的话语方式和渠道来分享成果

⑥虽然科技考古早已存在，为何难以看到科学家成为考古“大咖”？或者说不如文物与考古人那样为人熟知？

将以上 6 个句子重新排列，语序正确的一项是：

- A. ⑥③①②⑤④
- B. ②⑥③⑤④①
- C. ⑤④①②⑥③
- D. ④②⑥③⑤①

45.①一篇好的文章首先在形式上是符合逻辑的，符合人们的一般思维规律的

②逻辑之美还体现在揭示事物发展的内在逻辑，通过由表及里的分析，达到效果

③文章之美透射逻辑之美

④文字是思维的载体，逻辑是思维的内核

⑤如果文章让人感觉思路不清、语焉不详，大多是逻辑出了问题

⑥或者是概念模糊不准确，或者是划分混乱不周延，或者是推理矛盾不科学，等等

以上 6 句话排列正确的一项是：

4000-888-027

A. ⑤⑥①③④②

B. ④③⑤①②⑥

C. ③④①⑤⑥②

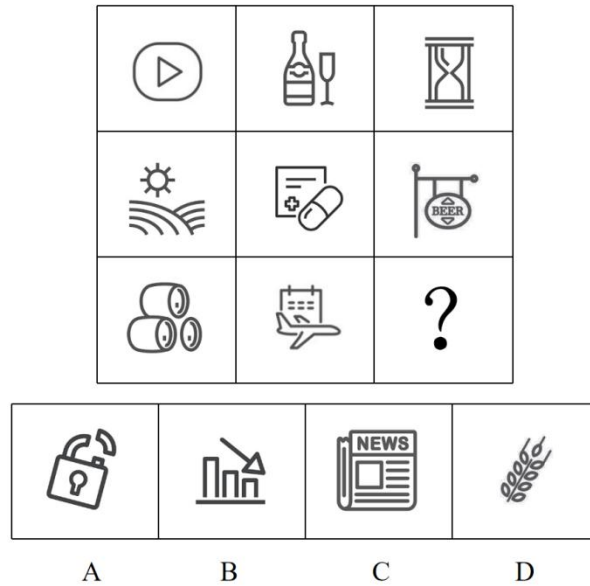
D. ①⑤⑥②④③

### 第三部分 判断推理

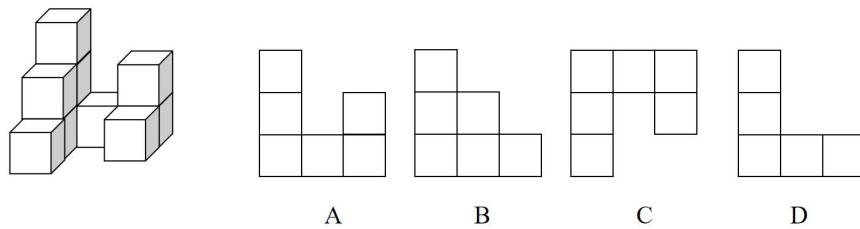
一、图形推理。请按每道题的答题要求回答。

请开始答题：

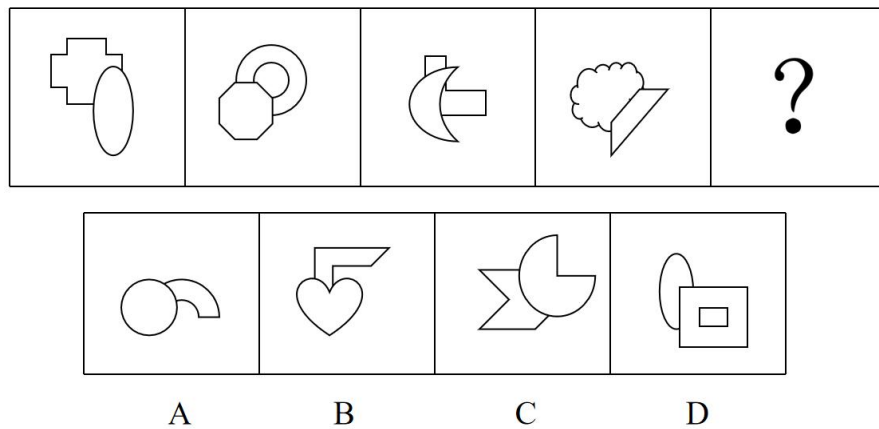
46.从所给的四个选项中，选择最合适的一个填入问号处，使之呈现一定的规律性：



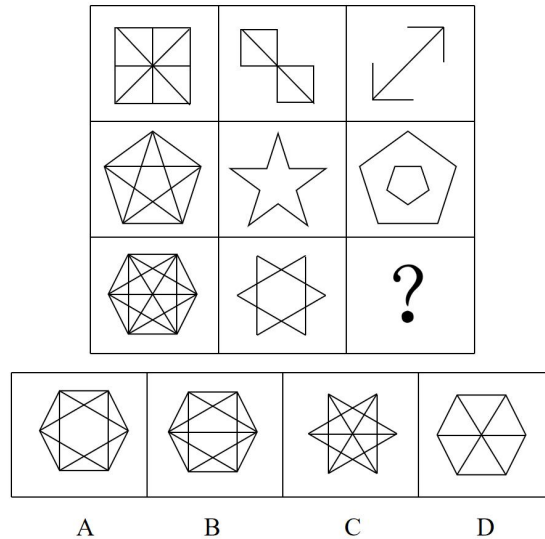
47.下列立体图形，其视图（正视图、俯视图、侧视图）不可能是所给四个选项中的哪一项？



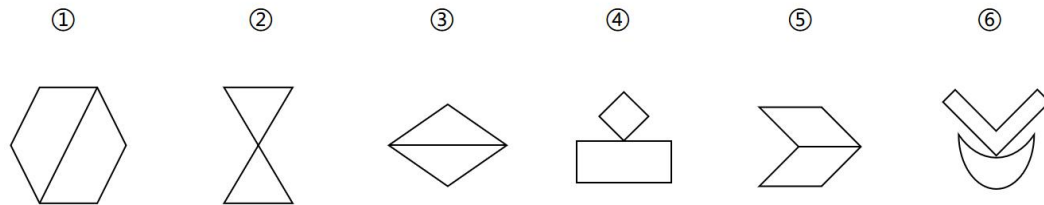
48.从所给的四个选项中，选择最合适的一个填入问号处，使之呈现一定的规律性：



49.从所给的四个选项中，选择最合适的一个填入问号处，使之呈现一定的规律性：



50. 把下面的图形分为两类，使每一组图形都有各自的共同特征或规律，分类正确的一项是：



- A. ①③④；②⑤⑥ B. ①③⑤；②④⑥  
 C. ①②⑥；③④⑤ D. ①④⑤；②③⑥

二、定义判断。每道题先给出定义，然后列出四种情况，要求你严格依据定义，从中选出一个最符合或最不符合该定义的答案。注意：假设这个定义是正确的，不容置疑的。

请开始答题：

51. 随机试验具有以下特点：（1）在试验前不能断定其将发生什么结果，但可明确指出或说明试验的全部可能结果是什么；（2）在相同的条件下试验可大量地重复；（3）重复试验的结果是以随机方式或偶然方式出现的。

根据上述定义，下列不属于随机试验的是：

- A. 在一批产品中依次任选三件，记录出现正品和次品的件数  
 B. 抛掷一颗标有数字 1-6 的骰子，观察出现的点数  
 C. 在家中安装监控设备，了解加菲猫的生活习性  
 D. 将一枚硬币连续抛两次，观察反面出现的次数

52. 社会定型是指有些人总是习惯于把人进行机械的归类，把某个具体的人看作是某类人的典型代表，把对某类人的评价视为对某个人的评价，因而影响正确的判断。

根据上述定义，下列属于社会定型的是：

A.江西人普遍很会吃辣，家住三清山附近的蔡某也不例外，在吃馒头和米饭的时候，总要放点辣椒才舒服

B.陈某是在美国某大学的留学生，虽然她不会武术，但是每当聚会时她的房东总认为她是中国人一定会功夫

C.王某在遭受多次实验失败后，向导师提出终止实验、提前毕业的想法，导师依旧鼓励她继续努力

D.李某是宁波中学新疆班的老师，为了更好地融入学生群体、与学生建立良好关系，她特地报班学习了新疆舞蹈

53.在语流中，由于受到相邻音节的相邻音素的影响，一些音节中的声母、韵母或声调会发生语音的变化，这种情况就是“语流音变”。它包括同化、异化、弱化、脱落等种类。

根据上述定义，下列**不属于**语流音变的是：

A.英语中表示复数的词尾 s 本应读作[s]，但在 dogs 中因为受到了前面浊音 g 的读音的影响，变成浊音[z]

B.在汉语中“苦啊”的“啊”是语气词，当前一个音节的尾音是“u”时，“啊”要读写作“哇”

C.在英语里，一些助动词或系词与主语连读时会脱落某些音素，如 I am 变为 I' m

D.受浙江某地方言的影响，很多学生改变不了发音习惯，不会区分“en”和“eng”，经常把“大风吹”读成“大分吹”

54.配套效应是指人们在拥有了一件新的物品后不断配置与其相适应的物品以达到心理上平衡的现象。

根据上述定义，下列属于配套效应的是：

A.没有水，鱼就无法生存，因此水和鱼是配套的一个系统

B.张某领养了一只流浪猫，先是买了笼子减少猫的应激反应，后又陆续购置了宠物的各种用品，最后才觉得这只猫是属于他的

C.孙某从邻居处订购了一束百合花，孙某收到货后随手将其插在以前腌菜用的玻璃罐中，没想到搭配效果非常不错

D.最近某购物网站推出十周年活动，邹某浏览了优惠方式后，准备购买想念了很久的划船机，这样她在家除了跑步还可以划船

55.虚拟语气表示说话人的主观愿望、猜疑或与事实不符的假设等，而不表示客观存在的事实。

根据上述定义，下列**没有**使用虚拟语气的是：

A.如果我有超能力，我会选择当一个超级英雄而不是邪恶反派

B.我要是早出生两年就好了！这样上小学就可以免费了

C.各位考生们，请按规定把手机放到信封袋中、上交到讲台的指定位置

D.我怀疑即使我回到了老家，也找不到我满意的工作



56.对比是把具有明显差异、矛盾和对立的双方安排在一起，进行对照比较，以强烈突出一方的表现手法。而类比则是将双方较为接近，大致无差异的对象安排在一起分析。

根据上述定义，下列应用了对比手法的是：

- A.清香自信高群品，故与江梅相并时
- B.有缺点的战士终究是战士
- C.一个好汉三个帮，红花还须绿叶扶
- D.暗香已压酴醾倒，只比寒梅无好枝

57.代币是患者因表现出适当行为而得到的用以交换奖品的替代品。代币奖励就是利用代币来强化适当行为、消除不良行为。

根据上述定义，下列属于代币奖励的是：

- A.小董为了感谢老王私下透露的某明星行程安排，送给王某一个限量版名牌包包
- B.当幼儿园的孩子遵守规则时，老师就会给与小红花，当孩子集齐若干小红花时就可以换一根奶酪棒
- C.当宠物猫咪能够正确地在猫砂中大小便时，主人就会喂给猫咪它喜欢吃的一块肉干
- D.当学生无故旷课三次后，学校就会扣其综合测评分数，并邀请家长来学校一同教育孩子

58.潜台词原本指在戏剧的台词中没有直接说出但观众通过思考都能领悟得出来的言语。现也指生活中在某一话语的背后，所隐藏着的那些没有直接、明白表达出来的意思。

根据上述定义，下列涉及到潜台词的是：

- A.回想去年高考，S中学的第一批上线率高达87%，700分以上达48人。今年该中学第一批上线率也是87%，恭贺S中学2020年高考再创辉煌！
- B.某地报告指出，截至目前，16处县级及以上集中式饮用水水源地220个问题全部完成整改，39处“千吨万人”农村水源地全部明确边界
- C.电视里正在播报明天的天气预报：明天最高气温为6°，多云转小雨
- D.某城区一位医生规定，初次就诊，收500美元诊费，以后复诊，每次还要收100美元。为了省点钱，一个年轻女子初次见到这位医生时就欢快地说：“大夫，我又来了！”

59.博喻，就是用几个喻体从不同角度反复设喻去说明一个本体。它可以是用多个喻体描绘本体的一个方面，也可以是用多个喻体描绘本体的几种状态。

根据上述定义，下列**没有**应用博喻的是：

- A.青春是风中的野火，是雨中的花蕾，是一枚等待成熟的青苹果
- B.纺车总是安安稳稳地呆在那里，像露出头角的蜗牛，像着陆停驶的飞机
- C.山上有了小屋，好比一望无际的水面飘过一片风帆，辽阔无边的天空掠过一只飞雁，是单纯的底色上



一点灵动的色彩，是山川美景中的一点生气，一点情调

D.我就知道，我们之间已经隔了一层可悲的厚障壁了，我也说不出话

60.有丝分裂又称为间接分裂，是指一种真核细胞分裂产生体细胞的过程，特点是细胞在分裂的过程中有纺锤体和染色体出现，这种分裂方式普遍见于高等动植物。无丝分裂又叫核粒组丝分裂，指处于间期的细胞核不经过任何有丝分裂时期，而分裂为大小大致相等的两部分的细胞分裂方式。高等植物营养丰富的部位，无丝分裂很普遍。

根据上述定义，下列说法**错误**的是：

- A.蚕豆的根尖分生组织可以进行有丝分裂
- B.洋葱的根尖分生组织可以进行有丝分裂
- C.蛙的红细胞分裂方式是有丝分裂
- D.有些植物可进行无丝分裂，也可进行有丝分裂

三、类比推理。每道题先给出一组相关的词，要求你在备选答案中找出一组与之在逻辑关系上最为贴近、相似或匹配的词。

请开始答题：

61.劳动力：吸纳

- A.基础：教育 B.就业：促进
- C.研究：深入 D.人口：结构

62.下单：配送

- A.插秧：收割 B.实验：成果
- C.通过：考试 D.户外：健身

63.七巧板：玩具：智力

- A.黄金：白银：贵金属：
- B.烧杯：器具：实验
- C.法兰绒：珊瑚绒：羊毛

D.高脚杯：人工吹制：机器吹制

64.抱残守缺：故步自封：墨守成规

- A.本末倒置：舍本逐末：以一持万
- B.不谋而合：不约而同：不可胜数
- C.防患未然：曲突徙薪：未雨绸缪
- D.鹤立鸡群：相形见绌：出类拔萃

65.唐氏综合征 对于 ( ) 相当于 ( ) 对于 煤炭取暖

- A.21-三体综合征；寒冷
- B.先天性心脏病；蜂窝煤
- C.染色体；一氧化碳中毒
- D.产前诊断；环境通风

**四、逻辑判断。每道题给出一段陈述，这段陈述被假设是正确的，不容置疑的。要求你根据这段陈述，选择一个答案。**

**请开始答题：**

66.在某项目招标过程中，甲、乙、丙、丁、戊、己 6 人作为各自公司代表参与投标，有且只有一人中标，关于究竟谁是中标者，招标小组中有 3 位成员各自谈了自己的看法：

- (1) 中标者不是甲就是乙；
- (2) 中标者不是丙；
- (3) 戊和己都没有中标。

经过深入调查，发现上述 3 人只有一人的看法是正确的。

根据以上信息，以下哪项中的 3 人都可以确定没有中标？ ( )

- A.甲、丙、丁 B.甲、乙、丁
- C.甲、戊、己 D.乙、丙、戊

67.研究表明一些来自姬蛛科的蜘蛛能对付比自己重 50 倍的猎物，例如蜥蜴、蟑螂等。面对这些“大块头”时，蜘蛛会把蛛丝附着、包裹在猎物身上，借助蜘蛛网吊起猎物。被囚禁在半空的猎物无法逃脱，只能沦为蜘蛛的网中餐。

以下哪项为真，最能支持上述结论？ ( )

- A.研究者目前还不清楚蛛丝的承重极限
- B.蜘蛛就像是用蜘蛛丝制造了一个滑轮，这能帮助它们突破自身的极限，对付大型猎物
- C.不仅仅是蜘蛛，蚂蚁也能搬动比自己重 50 倍的食物
- D.为了顺利过冬，蜘蛛不得不储存大量的食物

68.受气候变化、污染、疾病、过度捕捞等影响，世界各地的珊瑚礁都面临严重退化。那些珊瑚虫曾经生活的区域，现在被大量海草所占据。佛罗里达国际大学的马克·巴特勒 (Mark Bulter) 及其研究团队发现，有种鲜为人知的加勒比帝王蟹对珊瑚礁的生态有着重大的影响——它们能协助消灭海草，恢复珊瑚。

以下哪项为真，最能支持上述结论？ ( )

- A.在放养了这种螃蟹的区域，一年后海草的覆盖面积从 85% 下降到了 50% 以下，而对照组则没有明显变

化

B.全球有 5 亿人依赖珊瑚礁生活，如果没有珊瑚礁，他们将失去工作、收入甚至难以获得足够的食物维持生存

C.大堡礁不少多彩繁盛的珊瑚礁已经变成了仅剩白色骨骼的珊瑚“坟场”

D.如果引进过多，帝王蟹的数量有可能会超标，所以研究者们还需要弄清楚将帝王蟹的密度控制在多少以内是比较合适的

69.在各大饮食流派百家争鸣的养生圈子里，有一拨生食狂热人士倡导零烹饪的食物处理方式。这种“纯天然”概念的拥护者认为，高温会破坏营养物质和酶，剥夺食物中所谓的“生命力”。但也有很多专家表达了对立观点：实际情况往往正相反，烹饪有助于释放许多植物的健康益处。

以下哪项为真，最能削弱拥护者的观点？（ ）

A.很多东西根本就没法儿生吃，例如土豆在不作烹调的情况绝对无法入口

B.在蔬菜中，加热通常能令抗癌物质和其他有抵抗疾病功效的化合物更容易被人体摄取

C.烹饪带来高温会降低食物中酶的活性甚至令其失活，还能破坏蔬菜中大量的维生素 C

D.生吃蔬菜在大多数情况下都会带来糟糕的味觉体验

70.在我国文化中，喜鹊是非常重要的鸟儿之一，它代表着幸运，好事，喜事等，在古诗词以及戏剧、国画中都能见到它们的身影。我们常常提到的喜鹊是普通喜鹊，又叫做东方喜鹊，广泛分布在我国、朝鲜、韩国等地，然而紧邻着我国的日本却很少见到东方喜鹊的身影。

以下哪项如果为真，**最不能**支持上述结论？（ ）

A.喜鹊没有迁徙的习惯，它们很难飞跃千山万水，种群的扩散主要依靠陆地的辐射状迁徙才扩散到周围地区，所以一些海岛之上难以看到喜鹊的身影

B.日本四周环海，海风很大，并且在喜鹊繁殖期时又值日本海洋季风时期，导致鸟巢中的蛋经常被风吹雨打，繁殖成功率比较低

C.喜鹊非常善于筑巢，它们的巢穴初看之下平平无奇，但实际上花费了很多心思。一般情况下喜鹊会选择在高大的乔木上筑巢，这样可以防止天敌的接近，或者蛇类对幼崽的威胁

D.在日本文化中，喜鹊并不是吉祥鸟，他们只是把它当做普通的鸟儿对待，以至于喜鹊在当地的保护程度也不高

**五、综合判断推理。每道题给出若干材料，要求应试人员综合运用各种推理能力，选择一个最恰当的答案。**

**请开始答题：**

材料一：

有科学证据证明，睡眠不足跟癌症是有关系的。在小鼠实验上。一组小鼠剥夺其睡眠，睡觉不好，另一组小鼠能够正常睡眠。睡眠不好的小鼠，如果给它接种肿瘤细胞，它很快就患病癌症。

材料二：

癌症是可以遗传的，由遗传因素引起的癌症占全部肿瘤的5%以内。另外，大部分肿瘤与家族性的遗传因素有关。家族中有患有某类肿瘤的，其家族成员中患有该病的几率较普通人群要高。癌症并不会直接遗传，遗传因素在肿瘤发生中的作用，就是它增加了发生肿瘤的几率和对致癌因子的敏感性。

材料三：

最近世界著名医学杂志《柳叶刀》上，一项大规模流行病学调查统计发现，证明反复或长期的低剂量辐射能增加急性白血病的死亡率。研究人员对长期低剂量辐射与白血病等癌症的死亡率之间的关系进行了一项大型的流行病学调查。调查对象是308297名来自法国、英国和美国的从事核相关工作的成年雇员，他们因为职业的原因，暴露于低剂量辐射中至少一年以上。论文利用统计方法，量化了每个调查对象的辐射吸收剂量与白血病、淋巴瘤和多发性骨髓瘤的死亡率的关系。研究发现，即使是每年累积仅1.1mGy这样极低水平的辐射剂量，累积辐射总量每增加1Gy，白血病(不包括慢性淋巴细胞白血病)的超额相关危险(ERR)系数会增加2.96。

材料四：

与癌症病人同吃、同住不会被传染。癌症属于恶性肿瘤，但不是传染病，所以不会传染给正常人。即使有些癌细胞会随着吃饭时的唾液进入到正常人体内，大部分肿瘤细胞也会被胃酸吞噬掉，不会进入人体内，就算通过损伤的口腔黏膜或者胃肠道黏膜进入人体内，也会被人体正常的免疫系统吞噬掉，在正常人体内无法存活。癌症跟日常的不良生活习惯和饮食结构有很大关系。

根据上述材料，回答以下71-75题：

71.以下哪项如果为真，**最不能**支持材料一的结论？

- A.睡眠不足会使人们产生精力受损，免疫力低下等症状
- B.睡眠正常的小鼠，给它接种肿瘤细胞，它癌症长得很慢
- C.如果是睡眠好的人，再次癌症复发的概率很小，而睡眠不好的人，癌症复发风险会增加很多
- D.除容易造成癌症外，睡眠不足也容易造成个人抑郁，加快衰老速度

72.以下哪项如果为真，最能支持材料三的结论？

- A.大量的高剂量辐射会造成更高几率的急性白血病
- B.调查发现，即使像儿童等很少或者不接触辐射的群体，他们当中也有很多患白血病的案例
- C.机体长期暴露于低剂量辐射会使得生物体蛋白质、核酸产生交联而引发白血病等基因突变类疾病
- D.急性白血病的致病原因多元，遗传也可能是一种因素

73.小张听了身边一些人的观点“与癌症病人同吃、同住会被传染，也会得癌症”，小张自己也产生了困惑。以下如果为真，除了哪项外均能解释小张的疑惑，：

A.小张身边这些人的观点很多是道听途说，并没有参考参考权威人士的解读，也缺乏科学依据

B.因为癌症和遗传有一定关联，得癌症的人其直系亲属患癌症概率增高，所以表现出“同吃、同住会被传染”的假象

C.同吃、同住的人群可能会存在相似的饮食、作息习惯，而这些也是致癌的相关重要因素

D.癌症有多种致病因素造成，至今人们对它的研究仍处于探索阶段

74.如果上述研究结果都是可信的，由此我们可以推知：

A.能够做到良好生活习惯和保证充足睡眠的人不会得癌症

B.引起癌症的原因多样，既有已发现的因素，又有未发现的因素

C.导致癌症的最主要原因遗传因素

D.导致癌症的因素可能不限于遗传、睡眠、辐射这三个致病因素

75.下列哪项建议，不是基于四项材料的结论得出的？

A.由遗传因素引起的癌症占全部肿瘤的比例不高

B.家族中有患有某类肿瘤的，其家族成员中患有该病以外其他癌症的几率较普通人群也会高

C.睡眠充足有助于预防癌症

D.癌症跟日常的不良生活习惯和饮食结构有很大关系

## 第四部分 数量分析

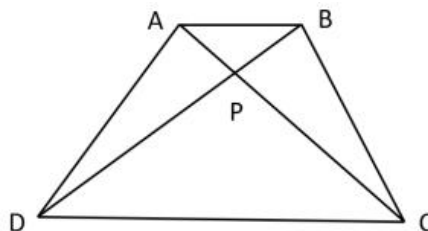
在这部分试题中，每道题呈现一段表述数字关系的文字，要求你迅速、准确地计算出答案。

请开始答题：

76.甲、乙两人分别居住在城南和城北，甲步行去乙家需要一小时，乙步行去甲家需要1.5小时，两人约定周日早上同时从家出发见面。出发5分钟后，甲发现要送给乙的礼物遗落在家，立即返回，在家找礼物耽误了一段时间。为了赶时间，甲骑电动车再次出发，速度比之前步行快2.5倍，最后甲乙两人相遇所用时间比原计划少了 $\frac{1}{4}$ ，那么甲在家找礼物用时（ ）分钟。

- A.4                                  B.5  
 C.6                                  D.7

77.有一块梯形花圃ABCD如下图，AC和BD相交于点P，点P恰好是AC的四等分点。 $\triangle ABP$ 的面积比 $\triangle CDP$ 少24平方米。则花圃ABCD的面积为（ ）平方米。



- A.36                                  B.42  
 C.45                                  D.48

78.某网店老板安排甲和乙两名员工打包订单包裹。甲和乙的效率之比是3:2，计划5小时可完成打包。为加快进度，1小时后丙也加入进来，丙的效率比乙快 $\frac{2}{3}$ 。该批包裹可以提前（ ）打包完。

- A.1小时24分钟                      B.1小时36分钟  
 C.1小时40分钟                      D.2小时

79.某电商平台在A地区共有7个仓库。7个仓库平均货物存量为85吨，每个仓库存货量均为整数吨且互不相等，最少的存货量为45吨，最多的存货量比最少的2倍还多10吨。这7个仓库中，存货量第二多的仓库最少有（ ）吨。

- A.90                                  B.92  
 C.94                                  D.96

80.一块果园，分成面积相同的四个区域（如图所示），有足够量的苹果、梨和桃树可供种植，每个区域只种一种果树。则相邻两区域所种果树互不相同的概率是（ ）。

--	--	--	--

A.  $\frac{16}{81}$

B.  $\frac{8}{81}$

C.  $\frac{8}{27}$

D.  $\frac{10}{27}$

一、根据所给资料，回答 81~85 题。

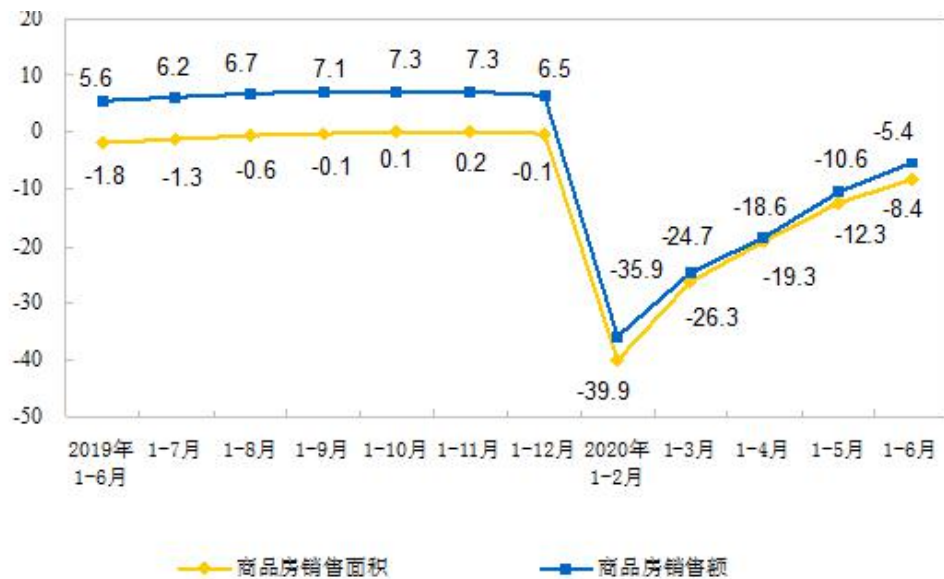
2020 年 1-6 月份全国房地产开发和销售情况

指标	绝对量	同比增长 (%)
房屋施工面积 (万平方米)	792721	2.6
房屋新开工面积 (万平方米)	97536	-7.6
房屋竣工面积 (万平方米)	29030	-10.5
土地购置面积 (万平方米)	7965	-0.9
土地成交价款 (亿元)	4036	5.9
商品房销售面积 (万平方米)	69404	-8.4
其中: 住宅	61119	-7.6
办公楼	1290	-26.5
商业营业用房	3659	-20.7
商品房销售额 (亿元)	66895	-5.4
其中: 住宅	59633	-2.8
办公楼	1789	-28.0
商业营业用房	3874	-25.5

2020 年 1-6 月份东中西部和东北地区房地产开发投资情况

地 区	投资额 (亿元)	同比增长 (%)		
		住 宅	住 宅	
全国总计	62780	46350	1.9	2.6
东部地区	33940	24474	2.3	2.0
中部地区	12272	9606	-4.8	-2.9
西部地区	14242	10457	7.6	9.8
东北地区	2326	1814	1.0	3.0





全国商品房销售面积及销售额增速（单位：%）

81.2020年1-6月份，以下各类商品房中，单位面积销售额高于整体水平的是：（ ）

- A.住宅  
B.办公楼  
C.商业营业用房  
D.以上三者皆是

82.2020年1-6月份，中部地区房地产开发投资额比上年同期约：（ ）

- A.增加514亿元  
B.增加618亿元  
C.减少514亿元  
D.减少618亿元

83.2020年1-6月份，全国商品房单位面积销售额的同比增速约为：（ ）

- A.2.7%  
B.-15.1%  
C.3.3%  
D.-3.2%

84.2020年1-6月份全国商品房销售面积相较于2018年同期减少约（ ）亿平方米。

- A.0.77  
B.0.63  
C.0.08  
D.0.06

85.能够从上述资料中推出的是：（ ）

- A.2020年1-6月份，各地区住宅投资额变化率由高至低依次为西部-东北-东部-中部  
B.2019年，全国商品房销售额9月份同比增速高于12月份  
C.2019年1-6月份，东部地区非住宅投资额约为9183万元  
D.2020年1-6月份，全国房屋施工面积同比变化量低于房屋竣工面积

二、根据所给资料，回答86~90题。



2020年1-11月份，全国规模以上工业企业实现利润总额57445.0亿元，同比增长2.4%（按可比口径计算），增速比1-10月份提高1.7个百分点。规模以上工业企业中，国有控股企业实现利润总额14456.9亿元，同比下降4.9%；股份制企业实现利润总额40580.1亿元，增长2.3%；外商及港澳台商投资企业实现利润总额16105.2亿元，增长4.3%；私营企业实现利润总额17332.2亿元，增长1.8%。采矿业实现利润总额3440.5亿元，同比下降32.8%；制造业实现利润总额48995.2亿元，增长6.1%；电力、热力、燃气及水生产和供应业实现利润总额5009.3亿元，增长4.8%。

1-11月份，在41个工业大类行业中，25个行业利润总额同比增加，15个行业减少，1个行业持平。主要行业利润情况如下：专用设备制造业利润总额同比增长23.0%，计算机、通信和其他电子设备制造业增长15.7%，通用设备制造业增长12.5%，化学原料和化学制品制造业增长10.5%，有色金属冶炼和压延加工业增长10.1%，农副食品加工业增长8.9%，纺织业增长7.5%，汽车制造业增长7.2%，电气机械和器材制造业增长6.6%，电力、热力生产和供应业增长3.8%，非金属矿物制品业增长1.4%；石油和天然气开采业下降70.8%，石油、煤炭及其他燃料加工业下降44.0%，煤炭开采和洗选业下降24.5%，黑色金属冶炼和压延加工业下降9.9%。

1-11月份，规模以上工业企业实现营业收入94.22万亿元，同比增长0.1%；发生营业成本79.22万亿元，增长0.1%；营业收入利润率为6.10%，同比提高0.14个百分点。11月份，规模以上工业企业实现利润总额7293.2亿元，同比增长15.5%，增速比10月份回落12.7个百分点。

11月份，规模以上工业企业资产总计126.70万亿元，同比增长6.9%；负债合计71.76万亿元，增长6.8%；所有者权益合计54.94万亿元；资产负债率为56.6%。

（注：资产=负债+所有者权益；资产负债率=负债÷资产）

86.2020年1-11月，股份制企业利润额占全国规模以上工业企业利润总额的比重与上年同期相比（ ）。

- A.大幅上升
- B.大幅下降
- C.基本持平
- D.无法确定

87.2020年1-11月，主要行业利润的变化率由高到低排序正确的是：（ ）

- A.纺织业-有色金属冶炼和压延加工业-计算机、通信和其他电子设备制造业-煤炭开采和洗选业
- B.石油、煤炭及其他燃料加工业-有色金属冶炼和压延加工业-汽车制造业-纺织业
- C.专用设备制造业-汽车制造业-电力、热力生产和供应业-黑色金属冶炼和压延加工业
- D.石油和天然气开采业-煤炭开采和洗选业-专用设备制造业-农副食品加工业

88.2019年1-11月份，规模以上工业企业每百元营业收入中的成本约为（ ）元。

- A.79.51
- B.84.08
- C.104.19
- D.118.93

89.2019年1-10月，全国规模以上工业企业实现利润总额约为（ ）亿元。

A.51241

B.49785

C.47571

D.45113

90.能够从上述资料中推出的是：（ ）

A.2019年11月，规模以上工业企业所有者权益高于54.94万亿元

B.2020年11月，规模以上工业企业资产负债率同比下降

C.2020年1-10月，全国规模以上工业企业利润增速为3.1%

D.2020年1-11月，私营企业实现利润总额同比增量高于制造业

## 第五部分 策略选择

### 一、单选题

1.假如你班上有这样一个学生，上课发言从来不举手，张嘴就说，毫无纪律可言，还经常做小动作招惹其他同学，惹得大家都讨厌他，除此之外，他还经常欺负同学，有时候上课拽女生的头发、无缘无故的骂人，很多的同学都不愿与他同桌；学他的学习成绩差，且不能按时完成作业，连他自己都辨认不出自己写的什么字，针对这样的学生，你不会（ ）

- A.与家长联系，了解他的生活环境
- B.进行个别辅导，帮助学生养成良好的学习习惯
- C.多表扬学生，利用他的表现欲
- D.当众批评他，让他化压力为动力

2.你班上有这样一个学生，自尊心很强，学习很努力，但内心较敏感，多愁善感，不能容忍自己犯错，也不能承受别人批评她。有一天你正在上课，这位女生迟到了，你批评了她几句，她就在课堂上哭了很久。如果你是这位老师，你会如何对待这样的学生（ ）。

- A.委婉暗示，多关心、爱护她，不在公开场合批评她
- B.不闻不问，给她足够的时间进行自我反思
- C.采用多种教育方式，在严厉批评缺点的基础上，鼓励她勇于克服困难
- D.直截了当，锻炼其自制力，发扬她勇于进取的个性

3.班上的任课老师反映，班上经常会出现这样的情形：安静的课堂上，忽然有学生嬉笑打闹；考试前，老师三令五申严肃考纪，但巡视中却发现一个学生正在抄袭……这些事情的发生，破坏了正常的教学秩序，常常使老师们非常恼火。假如你是该班班主任，最恰当的处理方式是（ ）

- A.与各位任课教师商定，一旦学生违反课堂纪律就告诉我进行批评教育
- B.大声呵斥违反纪律的学生，用威严震慑学生
- C.先给各任课教师提供学生作弊和课堂突发事件的处理策略，再采用民主管理的方式，与大家共同制定班级班规，培养班级凝聚力
- D.每次有学生违反纪律，就将违反纪律的学生赶出教室

4.小刘是一名初中二年级的男生，调皮叛逆，经常和老师对着干，和班里的同学关系也不好，但学习成绩优异，是典型的“大错不犯，小错不断”的学生。这学期还经常不穿校服上学，班主任认为他没有遵守学校规定，多次劝说无果，有一天，他竟然直接赤裸上身来上课，假如你是该班班主任，你会如何处理（ ）

- A.当众批评，让他知道自己的行为有多恶劣
- B.小刘的行为虽不太好，但成绩优异，教师可睁一只眼闭一只眼
- C.耐心和家长沟通，让家长去处理
- D.先让他穿上衣服听课，课下采用有针对性的解决方法

5.我班学生小张自认为家庭比较富裕，在学生中摆谱，经常去商店买零食吃，还买一些小玩具带到学校玩，学习一点不用心，把精力都用到吃零食和玩玩具上了，并且拉帮结派，拉拢学生和他一起玩。作为班主任，你应该（ ）

- A.控制其他学生和小张交往，阻止小张进行拉帮结派的行为

B.坚持疏导原则，晓之以理，树立正确的价值观

C.发挥集体教育的作用，让其他学生监督小张，一旦他出现吃零食、拉帮结派的行为，就立即上报老师

D. 与家长协商不要给他零花钱，并让小张回家反思一个星期

6、杜老师是高 52 班的物理老师，教学能力较强，但身高不高。有一次物理测验，学生成绩普遍很差，杜老师非常生气，罚全班同学站着听课，结果大家站起来后都比他高，他被淹没在人群里，全班同学开始哄堂大笑，如果你是这位物理老师，你会（ ）

A.严厉批评大家，考不好还好意思笑

B.让大家把试卷抄十遍

C.幽默的告诉大家“浓缩才是精华，不以身高论英雄”

D.为了挽回自己的面子，让大家坐下听课

7、一个爸爸很关注儿子的学习情况和班级里学习环境情况。于是一次他问儿子：“你们班上自习课的时候有多少人？”儿子说：“老师有的时候有 45 人。”于是爸爸又问：“老师不在的时候有多少人”。儿子回答：“一个人也没有。”作为班主任，针对大家不愿上自习课的情况，召开一次主题班会，主题应为（ ）

A.学会自律

B.学会分享

C.学会坚持

D.尊重老师

8、王老师在教《两条小溪的对话》时，让学生分角色表演。有一位学生问，“老师，我能不用书中的原话吗？”老师和蔼地问，“为什么呢？”“因为书中的原话太长，我背不下来，而且拿着书表演，又不太好。”学生说出了原因。“你的建议很好，那你就用自己的话来表演吧。”王老师温和地说。果然，这个学生表演得非常出色。

下列选项中对王老师做法的评价，错误的是（ ）。

A.王老师太过放任学生

B.王老师真正做到了尊重学生

C.王老师的做法是课堂民主的具体体现

D.王老师和学生在师生之间实现了民主平等

9、某市一位优秀的班主任李某，按照规定减轻学生的负担，放手培养学生的创新能力，却使班级的综合成绩下降到全年级倒数第二名，成为差班之一。他感到了巨大的压力，这位老师接下来应该（ ）

A.改变自己的教育观念，加大作业量，提升学生综合成绩

B.重点抓班级的后十名，严格管理，让他们不要拖班级后退

C.继续保持减负教育，创新能力的培养才是当前素质教育的重点

D.提高自身素质，推行更有效的教学，既注重学生智育，又注重培养学生创新能力

10、老师和家长都反映萌萌是个“不开窍”的孩子，别的同学背课文，一下子就背写过了，可他读了好多遍，还是记不住，丢三落四，常用字常会错，渐渐地学习也提不起兴趣。面对这种情况，班主任的做法不合适的是（ ）。

A.教会萌萌记忆的技巧与方法，让她乐于记忆

B.帮助萌萌树立自信心，增强她的自我效能感

C.强行要求萌萌比其他同学多花一些时间记忆

D.培养萌萌独立、灵活、敏捷的健康思维习惯

阅读以下材料，回答 1-5 题。

我是高二（1）班的班主任，有一个品学兼优的女生到我的办公室对我说想调换座位，我问了原因，原来是同桌不爱学习，上课睡觉，讲话，还经常欺负她。她的同桌我了解，名叫李飞，确实是班上较难管理的学生，经常顶撞任课教师，打架斗殴，欺负同学，很令我头疼。但该学生高一入学的时候并不是这样的，他以全班第一名的成绩入校，但入校不久就经常逃课去网吧，与校外人士交友，还经常发生向同学借钱不还的情况，好多学生都向我反应过他的情况，我经常与他谈话，也请过家长，希望他改变自己的行为方式，找回曾经优秀的自己，但毫无用处。还有一次，他竟然在语文课上，与老师发生了激烈的争执，导致语文老师和我反映她不愿再任教我们班的语文课。介于这些情况，我拿他没办法，最后把他的座位调到了教室的最后一排。

11、作为班主任，你会如何处理该女生请求调换座位的事情（ ）

- A.分别与该女生和李飞沟通，同学之间应互帮互助，共同进步
- B.为了不影响她的学习，马上给她调座位
- C.告诉该女生会考虑给她调换座位，并单独找李飞谈话
- D.批评该女生，同学之间应该互相帮助，帮助李飞是她的职责

12、作为班主任，针对李飞与语文老师的冲突，以下哪种处理方式最不恰当（ ）

- A.约语文老师去公园散步，跟他说明该学生不是故意的，请他原谅
- B.单独与语文老师和李飞谈话，了解发生冲突的原因并调解
- C.严厉批评李飞，让他当着全班同学的面向语文老师道歉
- D.安抚语文老师的情绪，正常上课，课下引导李飞向语文老师道歉

13、作为班主任，为了李飞与任课教师不再发生冲突，你会（ ）

- A.为了班级更好管理，任课教师能安心上课，劝退李飞
- B.与各任课教师达成一致，上课时忽视李飞
- C.开展班级老师研讨会，邀请各位任课教师参加，共同发现李飞的优点，长善救失
- D.跟李飞沟通，让李飞正视自己的错误，并保证以后不会再顶撞老师

14、作为班主任，针对班上很多学生对李飞有意见的情况，最不好的处理方式是（ ）

- A.为了培养李飞与大家之间的同学情谊，开展一次团队活动
- B.为了培养集体舆论和良好的班风，开展一次以德育为主题的班会活动
- C.告诉其他学生，每个班都会有几个调皮捣蛋的学生，习惯就好
- D.开展一次初中知识竞赛活动，让李飞体会到以前成绩优异的荣誉感，而改变自己

15、作为班主任，在管理班级中，以下哪种方式是不合理的（ ）

- A.接手一个新班级时，应了解每位学生的学习和生活情况，避免先进生转化成后进生
- B.培养一个健全的班干部团队，协助班主任管理班级
- C.多与任课教师和家长沟通，达成一致，采用赏识教育
- D.自己制定班级规章制度和课堂纪律，严格要求学生，违反纪律就要接受惩罚