

## 2019 年武汉市直事业单位笔试 B 类职测真题

### 第一部分 常识判断

(共 30 题, 参考时限 20 分钟)

根据题目要求, 在四个选项中选出一个最恰当的答案。

请开始答题。

1、党的十八大以来全国从严治党的一条重要经验, 就是坚持抓“关键少数”和管“绝大多数”相统一, 抓“关键少数”和管“绝大多数”主要体现的哲学道理是 ( )。

- A、解决问题要坚持两点论和重点论的统一
- B、矛盾次要方面影响矛盾主要方面, 不能忽视矛盾的次要方面
- C、政治工作同样要遵循潜在规律
- D、部分影响整体, 部分的发展有利于整体的发展

参考答案: B

2、四个小组围绕“一国两制”构想表达了自己的看法, 你认为下列哪个小组讨论的观点不合“一国两制”? ( )

- A. 第一小组: “一国两制”只适用中国, 对其他国家不适用
- B. 第二小组: 世界上只有一个中国. 台湾是中国不可分割的一部分, 中央政府在北京, 这是和平解决台湾问题的前提
- C. 第三小组: 按照构想, 统一后, 台湾将成为特别行政区, 可以拥有自己的军队
- D. 第四小组: “一国两制”不会改变中国大陆的社会主义性质

参考答案: A

3、一般来说, 商业银行传统的存款业务主要包括 ( )

- A. 活期存款、定期存款和储蓄存款
- B. 表外存款和表内存款
- C. 本币存款和外币存款
- D. 托管业务、担报业务

参考答案: A

4、刑事诉讼法调整的是, 公、检、法机关在当事人和其他诉讼参与人的参加下, 揭露、证实, 惩罚犯罪的活动, 从分类上看, 我国的形式诉讼法属于 ( )。

- A、普通法律、实体法
- B、基本法律、实体法
- C、普通法律、程序法
- D、基本法律、程序法

参考答案: B

5、张某涉嫌违法犯罪, 被县法院判处有期徒刑 6 年。服刑期间, 张某不服上诉, 市中级人民法院改判其无罪, 张某遂申请国家赔偿。下列说法错误的是 ( )。

- A、张某申请国家赔偿的时效为两年
- B、赔偿义务机关应听取赔偿请求人的意见
- C、张某应向市中级人民法院提出国家赔偿
- D、申请国家赔偿以当事人重点自己权力遭受侵害之日算起

参考答案:

6、人面鱼纹彩陶盆最可能出现在下列哪个地方? ( )

- A、河姆渡遗址
- B、元谋人遗址

- C、半坡遗址
- D、大汶口遗址

参考答案：

7、中国是个多宗教的国家，中国宗教徒信奉的主要是（ ），中国公民可以自由地选择、表达自己的信仰和表明宗教身份。

- A、佛教、儒教、道教、神道教和东正教
- B、佛教、道教、伊斯兰教、犹太教和神道教
- C、佛教、儒教、道教、印度教和神道教
- D、佛教、道教、伊斯兰教、天主教和基督教（新教）

8、古诗词中有很多描写愁绪的名句，下列为李清照所写的是（ ）。

- A、问君能有几多愁，恰似一江春水向东流
- B、只恐双溪舴艋舟，载不动许多愁
- C、白发三千丈，缘愁似个长
- D、明月楼高休独倚，酒入愁肠，化作相思泪

9、中国最大的沙漠是（ ），位于南疆塔里木盆地，维吾尔语意思是“进去出不来的地方”当地人称它为“死亡之海”。

- A、古尔班通古特沙漠
- B、塔克拉玛干沙漠
- C、柴达木沙漠
- D、乌兰布和沙漠

参考答案：D

10、下列历史名人生活在同一时代的是（ ）。

- A、乾隆---华盛顿
- B、穆罕默德---汉光武帝刘秀
- C、苏格拉底---蔡伦
- E、凯撒---李世民

参考答案：A

11、有人说“流行的服饰是社会发展的缩影”，下列中国近现代女子服饰变化的先后顺序排列正确的是（ ）。

- ① 绿军装      ②改良旗袍      ③列宁装      ④晚晴旗袍

- A、①②③④
- B、②④③①
- C、④②③①
- D、④③②①

参考答案：D

12、下列文学常识有误的一项是（ ）。

- A、《水浒传》是一部以北宋末年宋江起义为题材的长篇白话小说
- B、《三国演义》是我国第一部长篇章回体小说，描写了三国时期的历史故事，集中表现了统治集团之间的政治和军事斗争
- C、《西游记》是我国古代第一部浪漫主义章回体神魔小说
- D、《红楼梦》又名《石头记》。是我国古代小说的顶峰之作，作者曹雪芹，号半山，清代小说家

参考答案：D

13、下列诸子百家与其主张对应错误的是（ ）。

- A、儒家：民贵君轻，提倡统治者实行“仁政”
- B、法家：不别亲疏，不殊贵贱，一断于法
- C、墨家：兼相爱，交权利
- D、纵横家：无为而治

参考答案：D

14、下列诗句中原不是描写花的一句是（ ）。

- A、暗香浮动月黄昏
- B、千树万树梨花开
- C、满城尽带黄金甲
- D、映日荷花别样红

参考答案：B

15、下列有关我国资源分布说法错误的是（ ）。

- A、我国草地资源主要分布在西北干旱，半干旱的高原，山地以及青藏高原区
- B、我国水资源时间分配不均，夏秋多，春冬少，年际变化大
- C、我国有色金属矿北方居多
- D、我国石油资源集中分布在华北，东北，西北地区

参考答案：C

16、在人类的演化过程中，由猿到人的重要性状次序是（ ）。

- A、脑容量扩大->制造工具->直立行走
- B、直立行走->制造工具->脑容量扩大
- C、制造工具->直立行走->脑容量扩大
- D、走出森林->脑容量扩大->直立行走

参考答案：B

17、假如你穿越到秦国，可以看到的景象是（ ）。

- A、街道上穿着棉布衣来往的行人
- B、路边散发孜然香味的烤肉摊
- C、因为把牛饿瘦了，百姓遭到官方的鞭打
- D、炎炎夏日人们吃西瓜解暑

参考答案：C

18、以下关于《左传》的表述错误的是（ ）

- A、与《公羊传》、《谷梁传》合称“春秋三传”
- B、全称《春秋左氏传》，是我国第一部叙事详细的编年体史书
- C、儒家经典之一且为十三经中篇最长的
- D、主要记载了西周二百五十四年间各国政治、经济、军事、外交和文化方面的重要事件和重要人物

19、西周和东周时期出现了“孔子周游列国”“周幽王烽火戏诸侯”等典故，与“诸侯”“列国”的产生相关的制度是（ ）。

- A、禅让制
- B、世袭制
- C、郡县制
- D、分封制

参考答案：D

20、1937年7月7日，日本发动卢沟桥事变，日本帝国主义侵华战争全面开始。日本可以在北京附近大量驻军与以下哪一条约有关？（）

- A、《辛丑条约》
- B、《马关条约》
- C、《北京条约》
- D、《天津条约》

参考答案：A

21、街道分为市、坊、柜，分工明确，南北中轴线两侧东西对称，宫城居全城北部正中用于对外货物交易的“市”设在城市的中心位置这座城市最有可能是（）

- A、东汉洛阳
- B、唐长安
- C、北宋汴京
- D、元大都

参考答案：B

22、颗粒物既是一种污染物，也是污染物的载体。下列除了哪项均是其对人的危害表现？

- A、对呼吸道的刺激和腐蚀作用
- B、引起抗体免疫功能下降
- C、使体内蛋白质和酶代谢发生紊乱
- D、致突变性

参考答案：C

23、14世纪中叶，黑死病在意大利蔓延，既给人们带来恐慌，也促使人们反省：不只瘟疫造成死亡，长久以来在宗教束缚中麻木生活，活着也形同死亡。在死神笼罩的黑暗中，薄伽丘的（）为人们的心灵打开了一扇窗户。

- A、《十日谈》
- B、《神曲》
- C、《蒙娜丽莎》
- D、《西斯廷圣母》

参考答案：A

24、他是一名意大利热那亚的水手，相信地圆说。他在远航时无意中到达了一块陆地，他始终认为自己是抵达了印度，并把当地人称作“印第安人”。他是（）。

- A、哥伦布
- B、迪亚士
- C、以达·伽马
- D、麦哲伦

参考答案：A

25、如果以“千峰翠色”来赞誉下列瓷器，最合适的是（）。

- A、钧瓷
- B、粉彩
- C、白瓷
- D、青瓷

参考答案：D

26、劳动义务是指劳动法规定的对劳动者必须作出一定行为或不得作出一定行为的约束。下列选项中关于劳动义务的说法错误的是（）

- A、劳动者应当遵守各项劳动纪律规定

B 以劳动者在工作期间负有互帮互助的法定义务

C、劳动者应当不断提高自身职业技能

D、劳动者应当按规定完成劳动任务

参考答案：B

27、下列对于公司的认识不正确的是（、）

A、分公司具有法人资格，独立承担民事责任

B、公司不是国家机关，也不是 NGO

C、公司是从事生产经营活动，向社会提供商品与服务的经济组织

D、中国境内设立的公司包括有限责任公司和股份有限公司

参考答案：A

28、（）是一个巨大的气体行星，目前已知的卫星数量是 79 个，是太阳系中卫星最多的行星。

A、火星

B、土星

C、木星

D、海王星

参考答案：C

29、相对于卖家来说，买家在二手车市场上具有信息劣势。因此对于两辆除质量不同外、其他方面均无差异的二手车，最终在市场上的销售结果往往是质量好的车卖不出去，而质量差的车行情好，以上这种现象属于（）

A、垄断

B、外部性

C、偏好不合理

D、逆向选择

参考答案：D

30、当今世界最大的国际组织是（）

A、红十字会

B、世界银行

C、联合国

D、世界贸易组织

参考答案：C

## 第二部分 言语运用

（共 30 题，参考时限 30 分钟）

本部分包括表达与理解两方面的内容。请根据题目要求，在四个选项中选出一个最恰当的答案。

请开始答题：

31、量子行走作为专用量子计算的重要内核，已被理论预测具有明显的量子加速效果。其中，对于粘合树结构上的快速到达问题，量子行走的优势尤为突出。但常规的二叉粘合树的节点数目随层数增加呈指数级增加，会迅速耗尽几何上的制备空间，\_\_\_\_\_不可扩展。

以下选项中，哪个词更适合填入横线处？（）

- A、进而
- B、因此
- C、并且
- D、并非

参考答案：B

32、很多城市都有其\_\_\_\_\_的城市记忆，这些不应该在一次次旧城改造中被“覆盖”\_\_\_\_\_，尤其不能简单地用“有没有住过名人”作为拆除的\_\_\_\_\_。

依次在横线上填入词语，最恰当的一组是（）

- A、独特 更替 根据
- B、独特 更新 依据
- C、特别 更替 依据
- D、特别 更新 根据

参考答案：B

33、电商火爆的今天，实体经销商的处境可谓观难。即便到了“双十一”这样的购物狂欢节，普通实体店的销售也是处于\_\_\_\_\_的状态，到实体店试穿试戴然后去网上购买似乎已\_\_\_\_\_。

依次在横线上填入词语，最恰当的一组是（）

- A、不温不火 蔚然成风
- B、不瘟不火 蔚然成风
- C、不瘟不火 靡然成风
- D、不温不火 靡然成风

参考答案：A

34、每一个母亲对自己的孩子心存偏爱，发生事情时常有包庇的言行也\_\_\_\_\_，要求她们在关于孩子的任何事情上都\_\_\_\_\_几乎是不现实的。

依次在横线上填入词语，最恰当的一组是（。）。

- A、无可厚非 大公无私
- B、无可厚非 铁面无私
- C、无可非议 大公无私
- D、无可非议 铁面无私

参考答案：B

35、宣传营销是文化产业链上\_\_\_\_\_的一环。在市场机制日趋完善的背景下，规范有效的\_\_\_\_\_显得尤为重要。

依次填入划横线部分最恰当的一项是（）。

- A、举足轻重 推销
- B、至关重要 展示
- C、必不可少 传播
- D、不可或缺 推广

参考答案：D

36、2019年1月1日，国家主席习近平与美国总统特朗普互致贺信，热烈祝贺两国建交40周年。习近平在贺信中指出，中美建交40年来，两国关系\_\_\_\_\_风雨，取得了历史性发展，为两国人民带来了巨大利益，也为\_\_\_\_\_和平、稳定、繁荣作出了重要贡献。历史证明，\_\_\_\_\_是双方最好的选择

依次填入横线中最合适的一组是（）

- A、经历 全球 合作

- B、历经 世界 共赢  
C、历经 世界 合作  
D、经历 全球 共赢

参考答案：C

37、技术是艺术生产的组成部分，艺术的创作与传播从来没有离开技术的支持。但\_\_\_\_如此，技术\_\_\_\_从未扮演过艺术的主人。那些经典之所以成为经典，\_\_\_\_因为他们的思想光芒与艺术魅力，\_\_\_\_因为书写于竹简，上演于舞台，\_\_\_\_印刷在书本里。

依次填入横线中最合适的一组是（）。

- A、即便 也 是 不是 或者  
B、因为 却 不仅 而且 甚至  
C、即便 也 不仅 而且 还是  
D、因为 却 是 不是 甚至

参考答案：A

38、人是建筑服务的主要对象，人一直处在不断的繁行和传播之中，\_\_\_\_不同时代的人对建筑物也有不同的要求，\_\_\_\_建筑应该新陈代谢，没有必要永久保存。\_\_\_\_陵墓建筑\_\_\_\_在功能上有耐久的要求，在意象上\_\_\_\_与永恒相关，\_\_\_\_这里便成了石材发挥作用的主要场所。

依次填入横线中最合适的一组是（）

- A、所以 因此 而 因为 也 所以  
B、而且 因此 而 不仅 更是 因此  
C、但是 所以 但 不仅 而且 因此  
D、但是 所以 但 因为 也 所以

参考答案：B

39、如果说与他人相处是一项必备的社会能力，那么与自己相处则体现一种可贵的精神定力。太多人习惯了众声喧哗，却无法和自己平静地相处片刻。\_\_\_\_。我们在阅读中学着和自己对话，正如我们在终极意义上独自面对人生一样。在某种意义上，阅读是对庸常生活的救赎，让我们得以暂时跳脱出琐碎的眼前之事，对永恒之物进行片刻的凝望。而这，正是精神人格养成的过程。

填入横线中最合适的一项是（）。

- A、此时我们只能选择去阅读  
B、此时阅读便是最好的选择  
C、只有阅读才能给人这种能力  
D、人只在阅读中才具有这种能力

参考答案：C

40、“\_\_\_\_”人是科技创新最关键的因素。创新的事业呼唤创新的人才。尊重人才，是中华民族的悠久传统。

填入横线中最合适的一项是（），

- A、十年树木，百年树人  
B、明者因时而变，知者随世而制  
C、盖有非常之功，必待非常之人  
D、尚贤者，政之本也

参考答案：C

41、任何社会中的人都面临着“自在”和“成人”的两难处境。你生活在社会当中，\_\_\_\_\_。这是两难的，人的一生就是在这种处境中找到最佳位置。

填入横线中最合适的一项是（ ）。

- A、一方面希望有更多自由，另一方面又发现必须面临种种约束
- B、一方面发现必须面临种种约束，另一方面又希望有更多自由
- C、一方面自由眷顾着我们，另一方面环境也束缚着我们
- D、一方面环境束缚着我们，另一方面自由也眷顾着我们

参考答案：A

42、春节回到家，回到熟悉的环境，才能定位“我是谁”。这需要一年一度面对面的确认与加强。经济飞速发展和社会信息化，反倒加强了这种需求。越喧嚣却越孤独越思念，横亘在亲人之间的空间与时间，不是网络电话和视频能够弥补的。这种仪式感已经绵延千年，它包含了中国人家族文化和处世哲学的密码。

文中加点的“这种仪式感”是指（ ）

- A、春节回家定位“我是谁”
- B、春节回家让自己不再孤独
- C、春节回家与家人不再有时空隔离
- D、春节回家寻找家族文化和处世哲学

参考答案：C

43、在消费者见多识广、日益成熟的时代，“王婆卖瓜，自卖自夸”式的吹嘘，很难让人轻易相信，而利用公众的爱心打“悲情牌”营销却往往能屡试不爽。悲情营销的套路虽然能获得一时之利，最终却很可能搬起石头砸自己的脚。天下没有不透风的墙，尤其在资讯极其发达的当今时代，纸更加包不住火。一旦“悲情牌”泛滥，套路被揭开也就成了必然。即便一时没有揭开，靠“悲情”营销，也会给产品的品质带来极大的负面形响。爱心最多只能救一时之急，绝不可能“包买”一世。正是看到“悲情牌”营销给当地果业品牌形象造成的严重影响，临猗县政府才发布声明进行干预。

可以从这段文字中得出的结论是（ ）

- A、临猗县政府干预的时机滞后，效果不佳
- B、“悲情牌”营销泛滥成灾
- C、提升消费者对营销手段的鉴别力十分迫切
- D、悲情营销的套路没有任何效果

参考答案：B

44、童心和成熟并不相互排斥。一个人在精神上足够成熟，能够正视和承受人生的苦难，同时心灵依然单纯，对世界依然怀着儿童般的兴致，这完全是可能的。我认为麻木、僵化、世故不是成熟，真正的成熟应该具有生长能力，因而毋宁说在本质上始终是包含着童心的。

该文段表达的作者对一个成年人的意心的态度是（ ）

- A、赞成一个人应该同时具备成熟的能力与单纯的童心
- B、认为伴随人的长大，应该改变儿时的心态，变得成熟、世故
- C、赞成一个人时刻保持童心，以一颗赤子之心面对世界
- D、认为拥有童心的人是真正成熟的人

参考答案：A

45、自从库克接管苹果以来，苹果手机已经失去了创新能力。早些年，苹果手机是全球手机行业的风向标。最近几年，从双摄像头，到全面屏，再到AI，苹果都被国产手机品



牌甩在了后面。为了保持利润的增长，库克甚至想出了提高苹果手机售价的昏招。现在看来，最高售价高达 12799 元的定价超出了果粉的承受能力，这直接导致苹果手机销量大幅下跳。

从上面材料分析，下列哪一项不是苹果手机在中国销量下跌的原因？（ ）

- A、失去了创新的能力
- B、产品的质量不过关
- C、国产手机强势竞争
- D、提高了手机的售价

参考答案：B

46、居民贷款主要集中在房贷上，使居民难以在其他领域贷款消费，继而放缓了消费升级进程。应当坚持楼市调控不动摇，大力发展住房租赁市场，使房价整体水平理性回落，减轻民众的房贷压力，使之可以向其他消费领域适度转移。

这段文字表达的主旨是（ ）

- A、调控楼市可以减少居民房贷的数量
- B、调控楼市可以减轻居民的房贷压力
- C、调控楼市可加快居民消费升级进程
- D、调控楼市可以发展住房租赁的市场

参考答案：B

47、我国国土面积中干旱、半干旱土地大约占一半，平原、丘陵、高原、盆地和山地等各种地貌类型兼具，这为我国因地制宜全面发展农、林、牧、副、渔业生产提供了有利条件。据《人民日报》报道，我国中低产田的比例占全国耕地面积的 2 / 3 以上；有相当一部分耕地地块零碎不规整，田坎、沟渠、道路、坑塘面积过多，土地利用效率低。

阅读该文段得出的结论应该是（ ）。

- A、我国的耕地少，农、林、牧、副、渔却发展很好
- B、我国国土面积大，耕地零碎
- C、我国土地类型多样，优质耕地少
- D、我国土地利用效率低

参考答案：C

48、研究人员在全球一小部分受试者的每份粪便样本中都检测到了微塑料成分。每位被试者大便样本中的塑料成分都呈现阳性。涉及的塑料有：聚乙烯、聚两烯、聚氯乙烯等。事实上，在研究人员测试的十种塑料中，有九种都在人体中被检测到。研究人员发现每四分之一磅（约 113 克）的粪便中就含有 20 颗塑料微粒。

上文中的研究清楚表明（ ）

- A、塑料已经在地球上泛滥成灾
- B、微塑料已经侵入了我们吃的食物
- C、人体已具备分解塑料的能力
- D、微塑料已经危害了很多人的健康

参考答案：B

49、互联网的规模效应在中国得到了极大的体现，这是一片互联网发展的沃土，让中国的互联网发展实现了弯道超车，成为改革开放四十年发展最为迅猛的行业，也让一个 32 大到电子商务、物流快递、移动支付、共经济、人工智能、社交网络、大数据、云计算，小到手机上的小应用、小程序、APP，中国都诞生了世界级的企业。这一切，都有赖于中国的普通网民规模。2018 年最新统计表明，中国的网民数量，已经突破了 8 亿。

不能从本段中得出的结论是（ ）。

- A、中国的网民规模世界之最
- B、互联网成为近四十年来中国发展最迅猛的产业
- C、在互联网产业里中国有世界级企业
- D、中国互联网规模和网民数量成正相关

参考答案：A

50、依据联合国标准，一个国家 60 岁以上老人达到总人口的 10%，65 岁老人占总人口的 7%，即视为进入老龄化社会。而根据国家统计局 2019 年公布的最新数据，2018 年，中国 60 周岁及以上人口为 24949 万人，占总人口的 17.9%，其中 65 周岁及以上人口 16658 万人，占总人口的 11.9%。

上述文字，作者旨在说明（）。

- A、中国的老龄人口高于世界平均
- B、目前中国已是老龄化社会
- C、中国是全世界最长寿的国家
- D、联合国老龄化社会标准适合中国

参考答案：B

51、日前，美国国会参院情报委员会副主席沃纳称，中国大型科技企业的一些行为一直令人感到担忧。这些企业在中国政府帮助下，获取并复制敏感技术。同日，美国参院少数党领袖舒默称，中国想取代美国的科技主导地位，并且一直在偷窃。而近日一些诙谐的网友说：“太过分了，为什么偷窃的都是美国没有的技术！”

作者通过上述文字，深层次表明（）。

- A、美方一直在关心中国科技的发展成就
- B、美方一直在对中国科技发展进行抹黑
- C、中国科技发展不是靠模仿美国的技术
- D、中国已经取代了美国的科技主导地位

参考答案：B

52、电磁轨道炮依靠电磁作用高速推动弹丸飞行，这与传统弹药的火药爆炸推动原理完全不同。电磁轨道炮发射的炮弹速度可达 7 倍音速，每秒能飞行约 2.5 公里，能攻击约 200 公里以外的目标。与导弹相比，电磁轨道炮的发射费用大幅下降，命中精度也较高，而且安全性更好，可在军舰上装载大量炮弹。

下列对电磁轨道炮的理解错误的一项是（）。

- A、电磁轨道炮与传统炮弹的火药爆炸推动原理完全不同
- B、电磁轨道炮飞行速度可达 7 倍音速
- C、电磁轨道炮发射的费用比传统炮弹要高一些
- D、电磁轨道炮命中精度较高安全性更高

参考答案：C

53、法律面前，谁都不能享受特权，名气再大，“粉丝”再多，人脉再广，也绝不能凌驾于法律之上。按照国家税务总局的部署，接下来相关部门将在对部分高收入、高风险影视从业人员依法纳税情况进行评估调查的基础上，进一步强化风险防控分析，加大征管力度，依法查处违法违规行为。换言之，国家税务总局“盯”住的绝不是“范冰冰事件”这一个案，而是“部分高收入、高风险影视从业人员”。其实，逃税从来都不是单方面的，“阴阳合同”既牵涉明星，也牵涉制作公司，还牵涉投资方等等，每个责任主体都不能放过。

以下哪个结论更符合本段的主旨？（）

- A、任何人都不能凌驾于法律之上
- B、应该限制影视从业人员的高收入

- C、加大征管力度，依法查处违法行为
- D、从个案入手，掀起全方位查税行动

参考答案：D

54、①尽管两人的科学理论和思想观点始终没能调和，但他们却结下了长达数十年的友谊  
②爱因斯坦也称赞说：“很少有谁像玻尔那样，对隐秘的事物具有如此敏锐的直觉，同时又兼有如此强有力的批判能力，他是我们时代科学学科领域伟大的发现者之一”  
③玻尔高度评价他与爱因斯坦的学术之争，认为它是自己“许多新思想产生的源泉”  
④爱因斯坦和玻尔这两位科学巨人的背后，是现代物理学的两大基础理论——相对论和量子力学  
⑤他们的争论旷日持久，几乎所有理论物理学家都被吸引并参与进来，乐此不疲  
将以上5个句子重新排列，排序正确的一项是（ ）

- A、④⑤①②③
- B、⑤④③②①
- C、④⑤①③②
- D、⑤①④②③

参考答案：C

55、①互联网的发展，紧紧围绕“人”这一核心  
②增强技术进步带来的获得感，体现了人们对美好生活的向往和追求  
③所以，互联网行业是最强调用户体验的行业，任何产品和公司，不管规模大小，是否初创，都把用户体验作为不可违背的铁律  
④科技进步改变了人们的生活，让人们生活得越来越好  
⑤这才是互联网发展的题中之义  
⑥通过技术革新，不断提高人的生产效率、沟通效率和生产生活方面的各种体验  
将以上6个句子重新排列，排序正确的是（ ）。

- A、③②①⑤⑥④
- B、④⑤①⑥②③
- C、①②⑤⑥④③
- D、④⑥①⑤③②

参考答案：B

56、向宪法宣誓，不仅是一个庄严的仪式，也是彰显宪法权威的重要方式，有利于增强国家工作人员的宪法观念，促进国家工作人员忠于宪法、遵守宪法、维护宪法，有利于在全社会增强宪法意识、捍卫宪法尊严。

这段文字主要分析了向宪法宣誓的（ ）。

- A、方式
- B、观念
- C、意义
- D、性质

参考答案：C

57、美国当政者今日所纠结的，恰恰在于对这样的中国不知如何是好。全面遏制恐损人也损己，全面接纳又放不下身段，放任自流则担忧生变、心有不甘。如此看来，未来美国对华战略恐怕还是绕不开竞合两面和软硬两手，任何简单化、单一化的战略最终恐都行不通。

这段文字的作者分析未来美国对中国的战略应该是（ ）。

- A、全面遏制，损人利己

- B、全面接纳，互相尊重
- C、放任自流，放心共处
- D、竞合两面，软硬两手

参考答案：D

58、摒弃“棍棒教育”传统理念不代表不能对犯错孩子施加必要惩戒。在大力普及禁止体罚孩子教育理念的同时，也要探索如何科学地惩戒严重犯错的未成年人。这样方能做到教育与惩戒相结合，既培养未成年人养成底线、规则和责任意识，又避免其生活在棍棒的阴影之下。对上文理解正确的一项是（）。

- A、传统的“棍棒教育”理念不能摒弃
- B、对犯错孩子施加科学惩戒是必要的
- C、科学的惩戒可以替代教育的作用
- D、要让孩子养成底线、规则和责任意识必须实施体罚

参考答案：B

59、中央电视台优秀节目主持人为频道、节目增色添彩功不可没：白岩松的雄辩冷峻、敬一丹的亲切自如、水均益的机警自信、撒贝宁的轻松洒脱……他们主持的节目和栏目皆因风格各异而为不同的观众群所喜爱和认可。这些优秀节目主持人其特色长处各有千秋，可以说，他们主持节目的不同风格就是对频道和栏目极好的包装，而这就是所谓的品牌效应，它可增强观众对频道栏目的认识、关注以及喜爱程度。

对文中划线的“品牌效应”理解正确的是（）。

- A、风格迥异的主持人能为所在频道带来收视上的效益
- B、观众关注节目主持人会强化对频道栏目的最初印象
- C、要想获得电视节目成功，必须先包装好一个主持人
- D、主持人的特色往往是所在的频道栏目的符号和标志

参考答案：D

- 60、①每次经济危机之后，都会带来一个巨大的创新  
②“中国制造”走向了世界，为中国的经济带来了一个持续高速增长  
③但是，在国际金融危机的情况下，中国的自主创新能力确实受到了严峻的考验  
④中国不得不创新，如果不创新的话，依然是中国制造  
⑤正是危机的不断刺激，才有世界经济的波澜壮阔的发展，才有不断地创新  
⑥因为危机淘汰了很多落后的，再一次占领市场的时候必须是先进的

将以上6个句子重新排列，排序正确的一项是（）

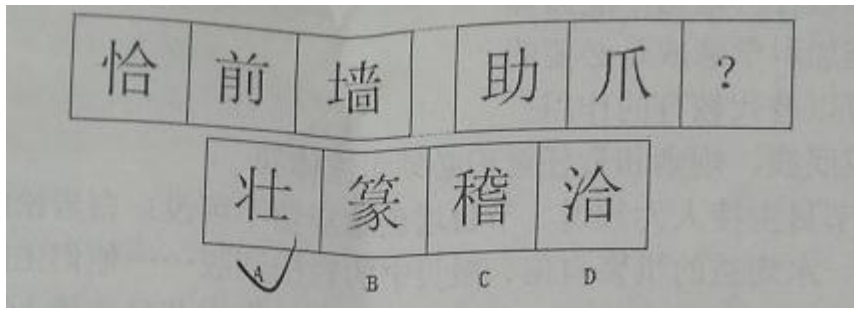
- A、②③①⑤⑤④
- B、②③⑤④①⑥
- C、①⑥②③⑤④
- D、③②④⑤①⑥

参考答案：A

## 第三部分 判断推理

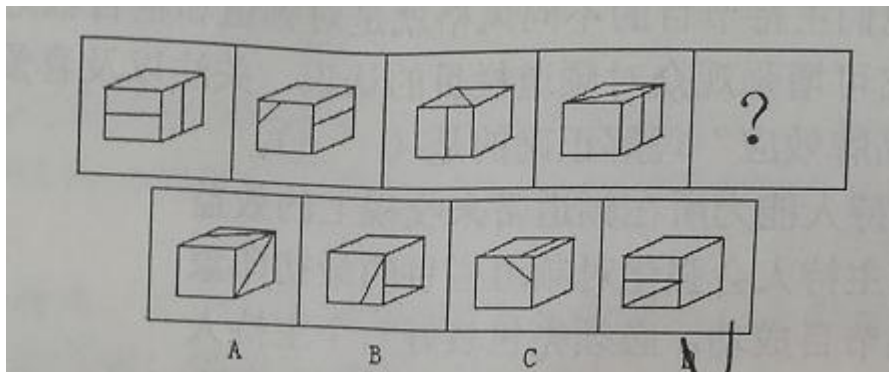
一、图形推理。请按每道题的答题要求作  
请开始答题：

- 61、从所给的四个选项中，选择最合适的一个填入问号处，使之呈现一定规律性。（）




参考答案：B

62、从所给的四个选项中，选择最合适的一个填入问号处，使之呈现一定规律性。（）



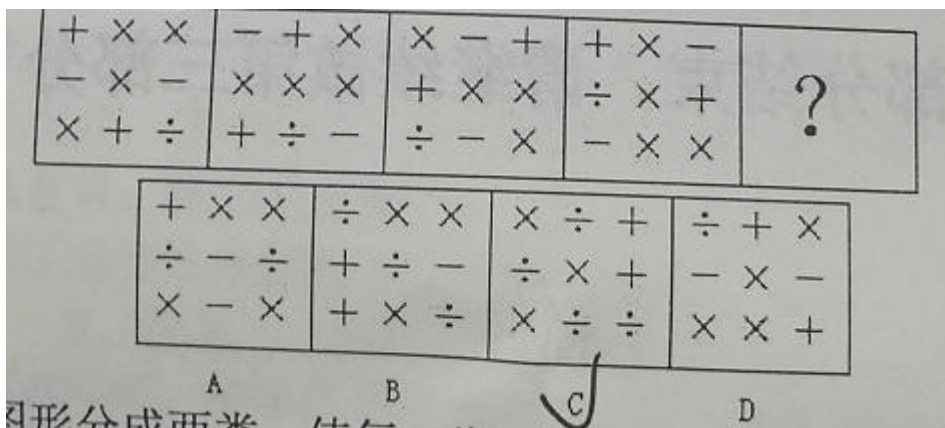
参考答案：C

63、从所给的四个选项中，选择最合适的一个填入问号处，使之呈现一定规律性。（）



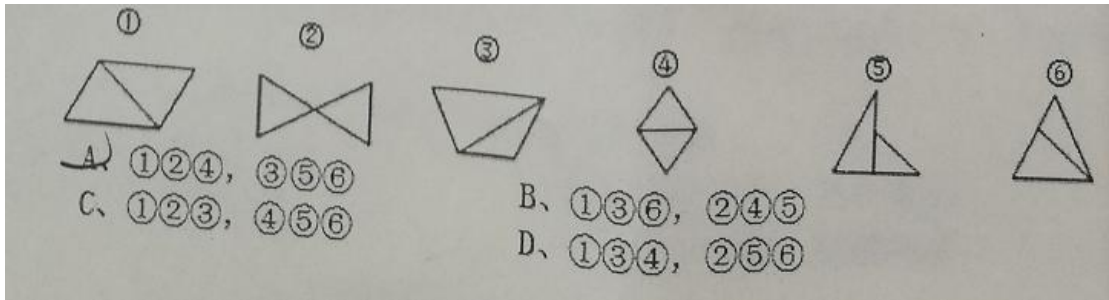
参考答案：D

64、从所给的四个选项中，选择最合适的一个填入问号处，使之呈现一定规律性。（）



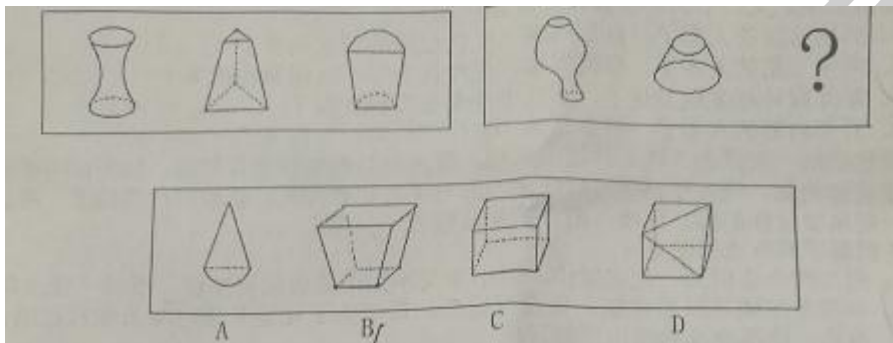
参考答案：D

65、请把下面的六个图形分成两类，使每一类图形都有各自的共同特征或规律，分类正确的一项是（ ）。



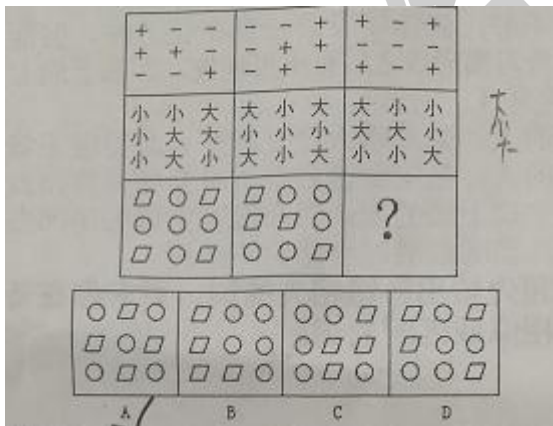
参考答案：A

66、请从所给的四个选项中，选择最合适的一个，使之呈现一定的规律性。（ ）



参考答案：B

67、请从所给的四个选项中，选择最适的一个，使之呈现一定的规律性。（ ）



参考答案：C

二、定义判断。每道题先给出定义，然后列出四种情况，要求你严格依据定义从中选出一个最符合或最不符合该定义的答案。注意：假设这个定义是正确的，不容置疑的。

请开始答题：

68、化归思想：是指当问题难以直接解决时，根据问题的性质、条件和关系的特点，采取适当的变换方法对问题进行转换，最终把它化为容易的、较为简单的或已经解决的问题的思想。根据上述定义，下列运用了化归思想的是（ ）

A、进入初三后，小米的英语成绩有所下滑，为把英语成绩提起来，小米决定从初二课本开

始补习

- B、小明在解某道化学题的时候，用了好几种方法，其中有简单的也有复杂的
- C、小张做数学很有一套，在解复杂方程碰到困难时，常常采用换元的方法对方程的某一部分进行替换，之后的步骤就变得简单了
- D、人们为了提高工作效率，往往会采用机器代替传统手工的方式

参考答案：C

69、沟通按沟通方式分，包括语言沟通和非语言沟通，语言沟通包括口头语言和书面语言，非语言沟通包括神态、声音语气（比如音调等）、肢体动作（比如手势、舞蹈、武术、体育运动等）。最有效的沟通是语言沟通和非语言沟通的结合。

根据上述定义，下列不属于运用了非语言沟通的是（）。

- A、在领导讲话的时候，新入职的小张凝神聚力，紧紧盯着领导的眼睛
- B、在雅思测试时，李想忘记了一个无法用其他词汇替代的关键词汇，但却用一个极其恰当的手势表达了，最终顺利通过了测试
- C、面对 10 多年未见的故人，两位老人热泪盈眶，泣不成声，紧紧地拥抱在一起
- D、老伴失聪了，什么也听不到，老胡作画一幅，用画中内容以表不离不弃之意

参考答案：D

70 文化堕距：也叫文化滞后，物质文化和非物质的适应性文化在变迁速度上所发生的时差。一般地说，物质技术方面的变化发生在前，非物质的适应性文化变化于后。

根据上述定义，下列不能体现文化堕距的是（）

- A、外出旅游的人多了，乱刻乱画、乱扔垃圾等现象也多了
- B、乘坐飞机的入多了，霸机闹事、任性乱为等不文明乘客也多了
- C、新闻媒体越来越发达了，不良事件曝光度也变高了
- D、开车自驾的人多了，野蛮驾驶、强行插队等行为也多了

参考答案：B

71.鳄鱼法则：来源于这样一种场景认知，假定一只鳄鱼咬住你的脚，如果你用手去试图挣脱你的脚，鳄鱼便会同时咬住你的脚与手。你愈挣扎，就被咬住得越多。所以万一鳄鱼咬住你的脚，你唯一的办法就是牺牲一只脚。

下列属于鳄鱼法则的是（）

- A、朋友约小李明天一起去爬山，但小李又不知道是否需要加班，所以一直没有答应
- B、小张参加辅导班后成绩一直没有提升，母亲为了让他节省时间去做自己感兴趣的事情，就帮他及时退出了辅导班
- C、小王每天坚持基金定投，以此来平衡长期的亏损
- D、由于最近市场行情不好，张伟的股票一直在往下跌，但他不忍心赔本卖掉

参考答案：B

72、棘轮效应：是指人的消费习惯形成之后有不可逆性，即易于向上调整，而难于向下调整。

下列不属于棘轮效应的是

- A、习惯了开车上下班的人，如果哪天没有车开会显得很不舒服
- B、习惯了喝现磨咖啡的人，当喝到速溶咖啡时会觉得特别没味道
- C、习惯了在办公室吹空调上班的入，当在没有空调的房间办公时会感觉浑身不舒服
- D、习惯了喝白酒的人，当喝红酒时会感觉不适应

参考答案：D

三、类比推理。每道题先给出一组相关的词，要求你在备选答案中找出一组与之在逻辑关系上最为贴近、相似或匹配的词。

请开始答题:

73、仲夏: 五月 ( )

- A、神州: 中国
- B、海内: 海外
- C、华人: 华侨
- D、柑橘: 金桔

参考答案: A

74、干旱: 减产 ( )

- A、行动: 目标
- B、自负: 失败
- C、原因: 结果
- D、锻炼: 受伤

参考答案: B

75、\_\_\_\_\_ 对于 检验 相当于 品质 对于 \_\_\_\_\_

- A、标准 分类
- B、检查 品种
- C、原则 产品
- D、查看 质量

参考答案:

76、法院: 法官: 判案 ( )

- A、公安: 警察: 训练
- B、体校: 运动员: 器械
- C、大学: 教授: 讲课
- D、企业: 员工: 工资

参考答案: C

77、刑法: 有期徒刑 ( )

- A、国家: 宪法
- B、公司: 企业
- C、社科: 自然
- D、民法: 不当得利

参考答案: D

四、逻辑判断。每道题给出一段陈述, 这段陈述被假设是正确的, 不容置疑的。要求你根据这段陈述, 选择一个答案。注意, 正确的答案应与所给的陈述相符合, 不需要任何附加说明即可以从陈述中直接推出。

请开始答题:

78、美国国家经济研究局一项研究显示, 评比年薪介于 25000 至 3500 美元和年薪达到 10 万美元家庭的上网时间, 前者每星期上网的时间较后者多出 92 分钟。据此, 美国国如果以下各项都为真, 最能加强上述推论的是 ( )。

- A、有钱人大部分时间都用来挣钱了
- B、有钱人往往见多识广、能力强, 上网浏览速度快, 用时短
- C、越有钱, 休闲的方式越多, 如外出旅行、郊游等
- D、富有的人多数喜欢看新闻、进行银行交易等, 无暇顾及上网

参考答案: D



79、经济基础决定上层建筑，一国的经济越强，国民的幸福感就越强。以下各项如果都为真，最能削弱上述推论的是（ ）。

- A、一国的经济总量大，但并不意味着每个国民的经济占有量大
- B、国民的幸福感主要取决于政治、文化等上层建筑
- C、经济强则百姓富
- D、经济越强则国家在世界上的地位越高，国民的荣誉感越强

参考答案：A

80、根据某国法律规定，只有被判处三年以下有期徒刑、拘役的被告人才可能适用缓刑，如果张某因盗窃罪没有被判处缓刑，则下列推论一定正确的是（ ）。

- A、张某被判处了三年以上有期徒刑
- B、张某被判处了三年以下有期徒刑
- C、张某可能被判处了拘役
- D、张某一定被判处了拘役

参考答案：C

81、一项面向全球的调查研究表明：85%的受访者表示他们的工作需要数字技能，56%的受访者表示他们的技能需要拓展升级，只有 29%的受访者表示他们的技能已经足够。根据以上材料陈述，可推出（ ）。

- A、有 29%的人掌握了他们所在行业的所有技能
- B、每 100 个美国人，只有 15 个人在工作中不需要数字技能
- C、有 44%的人掌握了所有技能或者不需要技能
- D、超过一半的人认为他们所掌握的技能不能满足需求

参考答案：D

82、因为所有装订完好的书是写得很好的书，所有浪漫故事书是情调健康的书，所有这家图书馆中我不推荐去读的书都是情调不健康的书。因此，所有浪漫故事书都是写得很好的书。上述推论得以成立的前提条件是（ ）。

- A、所有未装订的书都是我不可能会推荐去读的书
- B、所有情调健康的书都是装订好的书
- C、所有情调健康的书都是浪漫故事书
- D、所有我不予推荐去读的书都不是浪漫故事书

参考答案：B

83、一位心理学教授选取了 1000 名即将毕业的大四学生，并从教务处获取了他们各科成绩的平均积分点。然后，让他们做了智力测试。完成这些工作后，教授将每位学生的智商分数与他/她的平均积分点进行对比，得到一个结论：一般来说，较高的智商对应较高的平均积分点。如果以下各项都为真，最能加强上述推论的是（ ）。

- A、教授选取的 1000 名学生是随机选取的
- B、很多教授认为智商与平均积分点之间呈正相关关系
- C、教授选取的 1000 名学生都是自愿参加测试的
- D、教授选取的 1000 名学生都是学习努力程度相近的学生

参考答案: B

84、西尼罗热(WestNileFever)是由西尼罗病毒经蚊子传播的一种虫媒人畜共患病。其可侵犯中枢神经系统引起脑炎。一直以来,科学家们认为A型野马的种群数量是西尼罗热发病率最好的预报因素。然而,在非洲南部一个西尼罗热高发区,一项历时5年的对西尼罗热生态学的决定因素进行的研究推翻了该观点,该研究发现在西尼罗热发病率高的年份中,A型野马的种群数量一般比西尼罗热发病低的年份低。上述论述基于以下哪一种假设?( )

- A、从未发生西尼罗热疫情的地区通常A型野马的种群数量较低
- B、发生西尼罗热疫情之前A型野马的种群数量不会显著降低
- C、其他物种的种群数量也可预报西尼罗热疫情
- D、A型野马的种群数量提高是其他人畜共患病爆发的先兆

参考答案: D

85、数学尖子生张华刚转学到一所新的学校,自己最强项的数学在第一次考试中排名倒数,张华因此认为这个学校的学生数学成绩都很好。

如果以下各项都为真,最不能加强上述推论的是( )。

- A、张华每次的数学考试成绩都比较不错
- B、张华这次数学考试发挥的比较超常
- C、张华对这次数学考试做了充分的准备
- D、这个学校的学生都是从全市考生中优选出来的

参考答案: C

86、有一种观点认为,市面上以补充蛋白为卖点的保健品其实并没有太大的作用。

如果以下各项为真,最能削弱上述观点的是( )。

- A、保健品是一些具有有效成分的原料加工而成的
- B、无论是保健品还是日常饮食均含有类似的成分
- C、保健品中的某些特殊蛋白一般很难通过日常饮食摄取
- D、保健品中蛋白质完全可以由一日三餐摄取的蛋白质代替

参考答案: C

87、油炸食品会增加体内的胆固醇含量,胆固醇含量越高,血管堵塞的可能性越大。因此,要想血管不堵塞就不能吃或少吃油炸食品。

以下各项如果为真,能削弱上述推论的是( )。

- A、不同油炸食品的胆固醇含量并不完全相同
- B、食用油炸食品会抑制其他食物的摄入,反而降低了从食物中摄入胆固醇的总量
- C、富含胆固醇的食物除了油炸食品还有其它的一些食品
- D、造成血管堵塞的不止有胆固醇,还有其它的因素,如缺少运动,睡眠不规律

参考答案: B

88、一位父亲对女儿说:一个女孩子将来要想在社会上立足,赢得别人的尊重,必须有一番事业:要有一番事业,必须在读书时就懂得与人沟通,懂得为人处事:如果在校期间,只知道读书,不与外界接触,是不可能学会沟通和为人处事的。

从父亲的告诫中,可以得出( )。

- ①女孩子要赢得他人尊重，不能不学会沟通和为人处事  
 ②不会沟通，不懂为人处事，女孩子不可能有一番事业  
 ③女孩子未赢得他人尊重，是因为只知道读书，不懂如何与外界接触  
 A、①和②    B、①②和③    C、①和③    D、仅①

参考答案：A

89、目前，H国PM2.5设定的目标值为颗粒物平均浓度小于75微克/立方米，然而，这一数值与PM2.5的国际标准相比，还相差甚远。世界卫生组织设定的安全的PM2.5标准值为颗粒物平均浓度小于10微克/立方米。年均浓度达到35微克/立方米时，人患病并致死的几率将大大增加。即便如此，要达到小于75微克/立方米的目标，H国80%的城市还有不小的难度。

下列结论除了哪项，均可根据上述内容得出？（ ）

- A、H国的PM2.5污染比较严重  
 B、H国的空气质量逐步好转  
 C、要达到世界卫生组织的标准，H国还有很长的路要走  
 D、H国的PM2.5目标值标准设得过低

参考答案：B

90、在A市，月平均消费为3000元；在B市，月平均消费则高达4500元。因此，小明推导出若在A市和B市这两地选其一生活，去A市会生活的更轻松些。

以下哪项最好地描述了小明推理中的漏洞？（ ）

- A、小明假定同样的生活所需品A市比B市便宜  
 B、小明假定自己在A市和B市的消费方式、内容等基本相同  
 C、小明假定A市和B市均能满足小明的所有生活所需品  
 D、小明的结论基于一个平均比较之上，但却忽视了收入状况

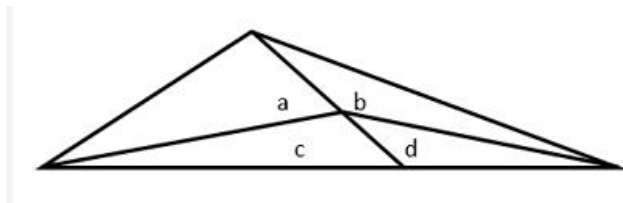
参考答案：D



## 第四部分 数量

一、数学运算，在

91、在下图中。字母表示其所在区域的面积，则有  $a/c$  ( )  $b/d$ 。



- A、大于  
 B、等于  
 C、小于

D、不能确定

92、在数列 2; 3; 5; 6; 8; 9; 11, .....中, 第 2018 项被 11 除所得余数为 ( )。

A、2 B、4 C、5 D、7

93、9 人下一盘跳棋, 每次 3 人参加, 每次 3 人参加, 如果任意 2 人都只能在一起下一次, 那么最多能下 ( )

A、12 B、15 C、24 D、28

94、某产品成本 30 元, 售价 42 元, 在采用新工艺后成本节约了 20%, 售价不变, 销量保持稳定, 利润率将比原来提高 ( ) 个百分点。

A、12 B、20 C、35 D、50

95、哥哥以  $\frac{1}{3}$  的速度步行前往舅舅家, 在出发 45 分钟后, 哥哥发现少带一样礼品, 立即打电话让弟弟捎带, 但弟弟也已出发 15 分钟了, 权衡之下, 由弟弟返回家中取遗漏的礼品, 哥哥在出发 2 小时后到达舅舅家, 这时弟弟也刚好到, 全程哥哥和弟弟保持匀速。由此可知, 弟弟的速度为多少  $\frac{1}{3}$ ? ( )。

A、8 B、9 C、10 D、11

## 二、资料分析, 所给出的

2018 年 1-11 月, A 省进出口总值 1825.6 亿元, 比去年同期 (下同) 增长 8.4%。其中, 出口 1151.3 亿元, 增长 7.4%; 进口 674.3 亿元, 增长 10%。贸易顺差 477 亿元, 扩大 3.9%。

11 月份, A 省进出口总值 302.2 亿元, 增长 4.6%。其中, 出口 181.8 亿元, 下降 4%; 进口 120.4 亿元, 增长 20.9%; 贸易顺差 61.4 亿元, 收窄 31.7%。

1-11 月, A 省以一般贸易方式进出口 1396 亿元, 增长 11.1%, 占全省外贸总值的 (下同) 76.5%, 比重提高 1.8 个百分点。其中, 出口 860.8 亿元, 增长 14.7%; 进口 535.2 亿元, 增长 5.9%。此外, 以加工贸易方式进出口 312.3 亿元, 下降 6.2%。以保税物流方式进出口 75.2 亿元, 增长 24.6%。

1-11 月, A 省民营企业进出口值 862.9 亿元, 增长 6.7%, 占 47.3%。同期, A 省外商投资企业进出口 506.7 亿元, 增长 13.4%, 占 27.8%。此外, 国有企业进出口 455.6 亿元, 增长 6.3%, 占 24.9%。其中, 出口 218.9 亿元, 增长 4.6%; 进口 236.7 亿元, 增长 7.9%。

1-11 月, A 省对美国进出口总值 228.9 亿元, 增长 18.5%, 占 12.5%, 是 A 省第二大贸易伙伴。其中, 出口 165.1 亿元, 增长 11.3%; 进口 63.8 亿元, 增长 42.4%; 101.3 亿元, 收窄 5.1%, 从月度数据来看, 继 6 月份对美进出口大幅增长 54.6% 之后, 七月份继续猛增, 当月对美进出口总值 46.5 亿元, 增长 41.2%, 其中, 出口 29.8 亿元, 增长 9%, 进口 14.7 亿元。增长 2 倍, 贸易顺差 13.1 亿元, 大幅收窄 41.3%。

1-11 月, A 省对欧盟进出口总值 284.5 亿元, 增长 23.3%, 占 15.6%, 继续稳居 A 省第一大贸易市场。其中, 出口 182.2 亿元, 增长 20.9%; 进口 102.3 亿元, 增长 27.9%。此外, 1-7 月 A 省与东盟贸易总值 208.4 亿元, 增长 15%; 与我国香港地区贸易总值 158 亿元, 下降 18.5%; 与日本贸易总值 143.1 亿元, 增长 12.3%; 对韩国进出口 85.3 亿元, 下降 27.8%。

1-11月，A省对“一带一路”沿线国家进出口总值485.3亿元，增长13.8%，高于全省整体增速5.4个百分点。其中，出口386.8亿元，增长9.9%；进口98.5亿元，增长32.5%。

1-11月，A省出口机电产品642.5亿元，增长5.4%，占全省出口总值的55.8%。出口高新技术产品（与机电产品有交叉，下同）409亿元，增长0.3%。其中，手机出口111.7亿元，下降13%；自动数据处理设备及其部件出口55.6亿元，增长23%；集成电路出口32.1亿元，增长32.9%。同期，A省出口传统劳动密集型产品159.3亿元，增长9.8%，其中，纺织服装出口113.5亿元，增长8.5%。此外，1-7月A省出口农产品65亿元，下降10.2%；出口钢材41.3亿元，增长7.8%；出口医药品27.5亿元，增长21.7%；出口汽车19.6亿元，增长24.5%；出口汽车零配件44.4亿元，增长72.8%。

96、2017年1-11月A省出口总额比进口总额高（ ）亿元

A、425 B、447 C、459 D、469

参考答案：C

97、2018年1-11月A省民营进出口企业，外国投资企业以及国有企业x出口额在进出口数额中的构成情况是（ ）

A、47.3；24.8；27.9 B、46.4；26.6；27.3

C、43.7；28.2；26.1 D、48.5；25.7；25.8

（选项看不清，可能存在错误）

参考答案：A

98、2018年1-11月下列地区按照A省进出口增长率从大到小，排序正确的是（ ）

A、东盟、美国、欧盟、“一带一路”沿线国家

B、“一带一路”沿线国家、欧盟、美国、东盟

C、美国，欧盟、“一带一路”沿线国家、东盟

D、欧盟、美国、东盟、“一带一路”沿线国家

参考答案：D

99、以下选项中，2018年1-11月A省出口额最大的是（ ）。

A、纺织服装

B、手机

C、汽车及汽车零配件

D、农产品

参考答案：A

100、根据上述资料，下列说法正确的是（ ）。

A、2018年1-10月A省贸易顺差小于400亿元

B、2018年1-11月，根据进出口方式不同，A省保税物流进出口方式增长最快

C、2018年1-11月，A省对“一带一路”沿线国家进出口增速低于全国平均水平

D、2018年1-11月，A省劳动密集型产品出口同比下降

参考答案：B

## 第五部分 综合分析

（共15题，参考时间25分钟）

所给出的文字资料有若干个问题要你作答，你应根据资料提供的信息进行分析、判断和处理，从中选最合适的一项

请开始答题：

(一)

螺旋藻中蛋白质的含量的确非常高，晒干了以后蛋白质含量可达 70%，说它是鱼、肉蛋白质含量的 3 倍不算夸大。但是除非你把螺旋藻当饭菜来吃，否则这个数字没有任何意义。每天吃几片螺旋藻精片摄入的蛋白质量不过 12 克，可忽略不计（一个人每天需要补充几十克蛋白质）。对那些宣传蛋白质或氨基酸（组成蛋白质的物质）的含量如何如何高的保健品，都可以这么算一下账。

螺旋藻还富含多种维生素 B、类胡萝卜素、矿物质，无疑是一种营养丰富的食物。但是这些营养成分可以更便宜地从日常食物中获取。如果是想要全面补充维生素和矿物质的话，综合维生素片是更合理的选择。螺旋藻含有维生素 B12，而 B12 几乎只存在于动物食品中，所以螺旋藻在这方面显得比较特别，在广告材料中会着重提及，似乎它是素食者补充 B12 的良好来源。但是这些广告材料只字不提的是，螺旋藻的 B12 比较特殊，无法被人体吸收。

所以，螺旋藻作为食品，并非那么理想。那么它作为一种药品呢？有一些研究表明它在增强免疫力、预防癌症、降低胆固醇等方面可能有些希望，但都还只是非常初步的研究。有关螺旋藻其他作用的说法则没有任何根据，甚至有反面的证据。例如它在减肥方面的作用，已被一项双盲临床试验的结果否定：每天吃 8.4 克的螺旋藻的试验者的体重变化与吃安慰剂的对照组相比，并无显著差异。

螺旋藻做为食品还有不那么健康的一面。它是一种单细胞食物，而单细胞食物的特征是核酸含量非常高。核酸并非人体必需的营养成分，相反地，从食物中摄入的核酸过多，有导致痛风和肾结石的危险。

动物实验表明，螺旋藻本身似乎是无毒的。但是，螺旋藻的生长环境很容易受到其他有毒蓝绿藻，特别是微囊藻的污染。微囊藻毒素对肝脏有很强的毒性，也是致癌物。美国俄勒冈健康部门曾检测过市场上 87 种藻类保健品，发现其中 85 种含有微囊藻毒素。我国复旦大学预防医学研究所对国内市场上不同产地的螺旋藻保健品做过检测，也都发现含有微囊藻毒素。同样不可忽视的是重金属污染。如果水中含有汞、铅等有毒元素，很容易被螺旋藻吸收、富集。此外，如果螺旋藻是用动物粪便制成的有机肥料养殖的，还有受病菌污染的危险。和其他保健品一样，目前对螺旋藻产品的安全性缺乏足够的控制。

面对那些说得天花乱坠的广告词，有怀疑精神的人多少有些免疫力，还不至于去轻信。不过，恐怕很少有人会进一步想到，在一种健康食品的背后，其实还有着很多不健康的因素。

101、下面的观点哪一种与作者的观点不一致

- A、螺旋藻中蛋白质的含量的确非常高，是鱼、肉蛋白质含量的 3 倍不算夸大
- B、螺旋藻富含多种维生素 B，类胡萝卜素、矿物质、无疑是一种营养丰富的食物
- C、螺旋藻 B12 比骄傲特殊，能完全被人体吸收
- D、螺旋藻做为一种药品它在增强免疫力、预防癌症、降低胆固醇等方面可能有些希望

102、作者认为，通过每天吃几片螺旋藻精片来补充蛋白质对人体（ ）

- A、可以起到保健作用
- B、没有任何意义
- C、能提高免疫能力
- D、可以代替吃饭

103、一项双盲临床试验的结果表明螺旋藻在减肥方面的表现为（ ）。

- A、效果很好
- B、没什么明显效果
- C、反而增肥
- D、效果不可知

104、下面哪一条不是作者分析螺旋藻做为食品还有不那么健康的一面理由是（ ）。

- A、螺旋藻本身有毒且有其营养不能被人体吸收的危险
- B、螺旋藻核酸含量非常搞有导致通风和肾结石的危险
- C、螺旋藻容易受微囊藻毒性的污染，有致癌危险
- D、螺旋藻有被水体中的重金属或病菌污染的危险

105、对本文的理解下面哪一项是不正确的（ ）。

- A、螺旋藻显得比较特别的方面是：其含有维生素 B12,而 B12 只存在于动物食品中
- B、和其他保健品一样，目前对螺旋藻产品的安全性缺乏足够的控制
- C、美国和中国的医学单位螺旋藻保健品做过检测，发现有微囊藻毒素
- D、对于保健品人们很少会想到在一种健康食品的背后其实还有着很多不健康的因素

## 二

在北欧，尤其是奥斯陆的大街上，你会感到城市有一种非常舒服的整体性。它没有历史与现代的割裂与分、而是和谐地浑然一体，这不仅是建筑外部，连建筑内部乃至家具风格也是一样，今天的他们依旧喜欢用新鲜的原木把屋顶装饰得像昔时的农舍，喜欢木头立柱。喜欢没有花纹装饰的桌椅，喜欢用光洁的木板组合衣柜与书架；但这不是不动脑子地去模仿传统，而是加进去一种后工业时代崇尚的简约美与现代科技能力包括精细的切割与抛光技术，而使其为现代审美中一种自己的文化主体元素，他们已经成功地将自己即北欧传统审美的简约转化为现代审美的简约。

中国就麻烦多了，自汉唐以来，中原汉文化的审美似乎一贯而下，特别是明代的审美，雍容大气，敦厚沉静，从中可以清晰看到汉之博大与唐之沉雄。然而到了清代，入主中原的满族皇帝们对生活文化表面化奢华的欲求。驱使整个社会的审美发生变异，特别是乾隆盛世，审美的繁缛与炫富感走到极致，完全脱离传统审美的厚重与含蓄，可是到清代中期之后，国力的衰败，便使这种奢华的追求无法企及而日渐粗鄙，审美能力和审美标准遭到破坏，此后则是外来文化的冲击，以及在“不爱红装爱武装”时代，国民的美育和审美品格已不被提倡，当整个社会由传统农耕社会转向现代的工业社会时，我们已经无所依据和凭借。社会审美像无头苍蝇乱撞。或是呆头呆脑的仿古、或是跟着洋人亦步亦趋地做“现代秀”。如何在审美上从传统向现代过渡，成了当代文化的大难题之一，没有现代审美，也就提不到真正意义上的现代文化。

而北欧人从传统到现代的审美过渡、不是听凭自然、稀里糊涂地完成的，我想它来自两方面，一方面是经过知识界、即建筑界、艺术界、设计师等长期的创新。另一方面到是公众的认可。因为，只有成为集体审美，才是一种时代的文化特质。

然而，我们至今还没有把美育列入素质教育；还有，知识界的努力是重要的关键，如果我们只去克隆舶来的“现代”，或者在传统中找卖点，我们自己的现代审美则无法建立起来，我很欣赏奥运会中的中国印、祥云和开幕式中“画卷”的设计，这是一种积极和精心的努力，当然，还嫌太少，还只是在设计范畴的个别成功的范例、更大的文化问题是我们的现代审美，而这种时代审美是不会自动转换与完成的，如果现代文化建立不起来，留下的空白一定会被商业文化所占据，就像当前充斥我们社会的粗鄙又浮躁的“暴发户审美”。

106、以下关于文章第一段的说法，正确的一项是（ ）。

- A、北欧尤其是奥斯陆的大街上，都是新建的综合了传统与现代的和谐建筑
- B、北欧建筑中的“喜欢用新鲜的原木”属于他们的传统审美元素
- C、加点的“这”指的是现代北欧人对简朴风格的偏爱
- D、后工业时代特色与现代科技能力包括精细的切割与抛光技术，恰恰是中国的现代审美所缺乏的

- 107、下列与作者意思不符的一项是（ ）。
- A、明代可以说是中原汉文化及审美格局的完美鼎盛时期
  - B、实际上，可以说“暴发户审美”不光在现代，早在之前就已经存在
  - C、清代中期及之后一段时期，外来文化的冲击、以及时代特点，使得国民的审美能力和审美品格受到破坏
  - D、即使知识界作出了大量的努力，但是由于国民审美能力被破坏，无法形成集体审美，我们仍然无法完成审美过渡。
- 108、以下关于审美的说法中，与作者思想最相符的一项是（ ）。
- A、当前北欧人的整体审美水平明显高于中国人
  - B、乾隆盛世破坏了中国人的审美能力和审美标准
  - C、只要通过知识界的努力与探索和大众的认可，成为了集体审美，就能完成审美过渡
  - D、“暴发户审美”表现为:或是呆头呆脑地仿古，或是一味跟着洋人亦步亦趋地做“现代秀”。这是因为现代文化没有真正建立
- 109、以下各项说法中，不符合文章意思的一项是（ ）。
- A、没有现代审美，就没有真正意义上的现代文化
  - B、奥运会中的中国印祥云和“画卷”，是知识界的积极努力
  - C、我们至今没有把美育列入素质教育，这是清代中期以来国力衰败的结果
  - D、在时代审美转换中，知识界的努力是重要的关键
- 110、关于“暴发户审美”的形成原因，下列说法中有误的一项是（ ）。
- A、明代的审美雍容大气，敦厚沉静，从中可以清晰地看到汉之博大与唐之沉雄
  - B、到了乾隆盛世，审美的繁缛与炫富感走到极致，完全脱离传统审美的厚重与含蓄
  - C、清代中期之后，国力的衰败无法企及奢华追求而日渐粗鄙，审美能力和审美标准遭到破坏
  - D、真正的现代文化建立不起来，留下的空白被商业文化所占据

### (三)

常识教育牵涉以下重大命题：培养健全人格，促进人的全面发展；传承人类社会的基本核心价值观，塑造基本社会共识；传承人类优秀思想文化学术；在传承的基础上进行文化创新和促进社会进步。

换言之，常识教育的命意和专业化教育不一样，后者主要措意于培养专业技术人才和职业个性。乃至螺丝钉似的现代“邮件人”（工具主义个体），或为学术而学术，为科技而科技。专意在促进专业学术发展和科技进步（有时甚至可能忽略对科学技术的价值判断和物理反思），常识教育则有着眼于人的全面发展，培育具有独立思考能力和道德判断的自有个体，以及随之而来的普通的人文精神氛围和社会公共生活，抵御知识的异化、人的异化、制度的异化与社会的异化，促进社会的共同福祉。

另外，专业化教育往往着眼于知识的精深，常识教育则着眼于知识的基本、根本与全面，一为专家之学，一为通人之学，但这里的通人之学又不同于中国古代“通书千篇以上，万卷以下，通人也”的通儒硕学，或所谓的“大通人”（仍是相对而言），这显然只能要求极少一部分人，此处所谓的通人并非意味着博闻广识，无所不通，事实上以人类有限的时间精力和智力水平而言，不可能做到“天上地下，无所不知”的地步，而在于对涉及人与自己、与他人、与社会、与世界之间关系的基本常识的了解，尤其是涉及个体心灵生活和现代公共生活的最基本相关知识的掌握。换言之，常识教育或通识教育永远是与人类知识水平和智力水平相对而言的，是对最核心、最重要的基本常识的教育和掌握。



就此而言，常识教育或通人教育就是人的教育，旨在立人，培养基本的人，或所谓的“小通人”。专家亦必须具备“小通人”的相关常识，即先成为基本自有个体，然后才是专家和成就专家之学。“大通人”则不敢苛求所有个体，而且“大通人”亦可或亦须有一二专家之学，而有专家之成就业绩，专家之学不必苛求所有个体，“小通人”之学却须人人具备，这使只能通过教育，亦即普及的常识教育来实现。一个国家和社会的教育素质和水平，便决定了一个国家和社会的人及其生活的整体品质和水平。常识教育水平高，则人民安居乐业，自由幸福指数高，社会稳定，国家繁荣昌盛。

111、以下关于常识教育的基本说法中，不符合原文意思的一项是（ ）。

- A、常识教育育着眼于人的全面发展，培育具有独立思考能力和道德判断的自由个体
- B、常识教育育着眼于知识的基本、根本与全面，即“通人之学”，包括“大通人”与“小通人”
- C、常识教育或通识教育永远是与人类知识水平和智力水平相对而言的，是对最核心，最重要的基本常识的教育与掌握。
- D、常识教育水平高，则人民安居乐业，自由幸福指数高，社会稳定，国家繁荣昌盛。

112、对文中划线句的理解，下列说法中有误的一项是（ ）。

- A、“随之而来”而来指的是，随着人们普遍具有了独立思考能力和道德判断能力组成的社会整体
- B、普遍的人文精神氛围和社会公共生活也属于常识教育的范畴。
- C、“抵御知识的异化，人的异化，制度的异化与社会的异化，指的是用专业化教学培养起来的特色能力去抵御。
- D、常识教育是一种多层次的，递进式的教育，最终促进社会的共同福祉。

113、以下关于“大通人”的理解，不正确的一项是（ ）。

- A、中国古代的通儒硕学的一种要求
- B、相对而言博文广识，无所不通
- C、超越大多数人，只能要求极少一部分人。
- D、必须兼具“小通人”与专家之学

114、对文章最后一段的理解，以下各项中有误的是（ ）。

- A、常识教育皆在利人，培养基本的人
- B、常识教育也是成就专家之学的必备基础
- C、一个国家和社会的人及其生活的整体品质和水平和专家没有关系
- D、常识教育必须对人人普及，并且需要不断提高水平

115、对原文的理解，不正确的一项是（ ）

- A、创新与进步，也是常识教育的重要内容
- B、专业化教育中，可以忽略对科学技术的价值判断和伦理反思
- C、专家之学从某种意义上说，是成为“大通人”的重要途径
- D、常识教育重视对人们的知识水平、心里水平的双重教育

**全部测验到此结束！**

