

2018 年武汉市直事业单位笔试
《职业能力倾向测验》B 类

第一部分 常识判断

(共 25 题，参考时限 10 分钟)

根据题目要求，在四个选项中选出一个最恰当的答案。

请开始答题：

1、《中华人民共和国宪法》规定：“公民的合法的私有财产不受侵犯”。下列不能适用这一规定的是（ ）。

- A. 小林，10 岁，参加电影拍摄获得的报酬
- B. 小张将手中房屋出租，获得的租金
- C. 小强偶然中得的 500 万彩票钱
- D. 小王偷偷从其父亲银行卡中取出的 1000 元钱

2、谢某是某个微信群的群主，群成员人数长期保持在二百人以上，从 2017 年 8 月至 10 月，群成员张某在该群上传了 121 个淫秽视频。谢某既未警告和剔除张某，也未明确表态鼓励张某的行为。经过一段时间，淫秽视频成为这个微信群的主要传播内容。对此，下列表述正确的是（ ）。

- A. 张某构成传播淫秽物品罪，谢某构成包庇罪
- B. 谢某构成传播淫秽物品罪，张某不构成犯罪
- C. 谢某和张某系共同犯罪

D. 因未达到情节严重，因此不构成犯罪

3、春秋战国时期，社会动乱，百家争鸣。为了整顿当时普遍流行同时含有不少迷信和神话的丧礼和祭礼，儒家对它们作出新的解释，注入了新的观念，如《荀子》中的（ ）。

A. 《礼论》 B. 《周礼》 C. 《尚书》 D. 《尔雅》

4、下列诗句不是描写秋天的一句是（ ）。

- A. 孤村落日残霞，轻烟老树寒鸦
- B. 江涵秋影雁初飞，与客携壶上翠微
- C. 杨花榆荚无才思，惟解漫天作雪飞
- D. 兰有秀兮菊有芳，怀佳人兮不能忘

5、大约成书于北魏末年，系统地总结了六世纪以前黄河中下游地区农牧业生产经验、食品的加工与贮藏、野生植物的利用；以及治荒的方法，详细介绍了季节、气候、和不同土壤与不同农作物的关系，被誉为“中国古代农业百科全书”的是（ ）。

A. 《梦溪笔谈》 B. 《齐民要术》 C. 《天工开物》 D. 《水经注》

6、下列词语中与“十面埋伏”不是出自同一历史典故（人物）的是（ ）。

- A. 风声鹤唳 B. 霸王别姬 C. 四面楚歌 D. 乌江自刎

7、短篇小说《麦琪的礼物》是世界三大短篇小说家之一（ ）的作品。

- A. 契诃夫 B. 莫泊桑 C. 欧·亨利 D. 巴尔扎克

8、下列关于中国古代取得的科技成就，不正确的一项是（ ）。

- A. 祖冲之首次将“圆周率”精算到小数点后第七位
B. 《墨经》中记载有大量的物理学知识，其中包括杠杆原理和浮力理论的叙述
C. 北魏时期，地理学家郭守敬著书，全面而系统地介绍了水道流经地区的自然地理和经济地理等诸方面的内容
D. 扁鹊是春秋战国时期著名的医生，后代奉他为“脉学之宗”

9、清乾隆朝朱琰撰《陶说》记：“古瓷五彩，成窑为最，其点染生动，有出于丹青家之上者。画手固高，画料亦精。”这是有关哪一瓷器的记载？（ ）

- A. 青瓷 B. 白瓷 C. 青花瓷 D. 斗彩瓷

10、假如你穿越到唐朝，于公元 630 年（贞观四年）奉李世民之命随大将李靖出师塞北，此时面对的对手是（ ）。

- A. 契丹 B. 东突厥 C. 吐蕃 D. 匈奴

11、王冕《墨梅图》有题诗：“吾家洗砚池头树，个个花开淡墨痕。不羨人间好颜色，只留清气满乾坤。”表现了中国画的（ ）。

- A. 托物寄情 B. 古雅庄重 C. 鲜明朴素 D. 大气随性

12、古话形容此地“天无三日晴，地无三尺平”，是我国唯一没有平原支撑的省份，该省份是（ ）。

- A. 云南 B. 江西 C. 贵州 D. 广西

13、截止 2018 年 2 月，下列被列入世界遗产名录的是（ ）。

①承德避暑山庄 ②颐和园 ③云南丽江古城 ④丝绸之路：
长安-天山廊道的路网

- A. ①②③ B. ①②④ C. ②③④ D. ①②③④

14、“从词句温暖的作者，到考据严谨的学者，他完成了从作家到服饰史专家的转换，他更是我国服饰史学科的奠基人，创作了系统考证我国服饰文化的学术专著——《中国古代服饰研究》。”这里的“他”指的是（ ）。

- A. 郭沫若 B. 沈从文 C. 鲁迅 D. 汪曾祺

15、某城市与下列四个描述都相关：①虎踞龙盘今胜昔，天翻地覆慨而慷 ②首批国家历史文化名城，是中华文明的重要发祥地 ③民歌《茉莉花》源自于该地六合民间传唱百年的《鲜花调》 ④古称建业，则该城市是（ ）。

- A. 赣州 B. 徐州 C. 南京 D. 江陵

16、古巴比伦王国是“四大文明古国”之一，是现代文明的起源之一。下列与古巴比伦王国密切相关的是（ ）。

- A. 楔形文字 B. 象形文字 C. 印章文字 D. 金文

17、中国奥运第一人刘长春代表中国参加第 10 届奥林匹克运动会时，当时的政府是（ ）。

- A. 满清政府 B. 北洋政府 C. 国民政府 D. 南京伪国民政府

18、关于京剧常识，下列说法正确的是（ ）。

- A. 京剧，曾称平剧，昆曲是其前身
B. 《霸王别姬》《打渔杀家》都是京剧剧目
C. 孟小冬是早年京剧优秀的女旦，人称“冬皇”
D. 京剧脸谱中黑脸含贬义，代表凶诈凶恶

19、在撰写毕业论文时，若要查看整个文档的结构和内容，尤其是文档标题的层次关系，应选择下列哪种试图方式？（ ）

- A. 页面视图 B. 缩略图视图 C. 阅读版式视图 D. 大纲视图

20、下列不属于达尔文的进化论观点的是（ ）。

- A. 用进废退 B. 物竞天择，适者生存 C. 遗传变异 D. 生物进化的渐变论

21、下列关于佛教在中国发展的历史和描述，正确的是（ ）。

- A. 唐时期修建的洛阳白马寺，是印度佛教传入中国后兴建的第一座官办寺院
- B. 慧能是东晋的高僧，被尊为禅宗六祖
- C. 玄奘是中国佛教史上“四大译经家”之一
- D. 峨眉山、普陀山、九华山、天台山并称中国佛教四大圣地

22、“大音希声，大象无形。”出自老子《道德经》，意思是指最大最美的声音乃无声之音。关于声音，以下说法错误的是（ ）。

- A. 声音是由物体振动产生的
- B. 蝙蝠通过次声波定位，但这种声音人类听不到
- C. 声波可以传递信息和具有能量
- D. 声音传播需要媒介，真空不能传播声音

23、关于冰壶运动，下列说法错误的是（ ）。

- A. 该运动起源于苏格兰
- B. 冰壶是以队为单位在冰上进行的一种推滑冰壶的竞赛项目
- C. 韩国夺得 2018 年平昌冬奥会女子冰壶冠军
- D. 运动中，运动员用冰刷刷冰面，以改变冰壶与冰面的摩擦力

24、能源问题是人类生存和发展的重要问题，下列关于能源问题说法正确的是（ ）。

- A. 氢能燃烧热值高、无污染且性质稳定易于存储
- B. 风能是地球上空气流动产生的能量，能量输出稳定
- C. 潮汐能是海洋温差导致的一种能量转换形式，它属于二次能源
- D. 生物柴油与传统柴油的有效成分不同，是一种洁净的生物燃料

25、关于信息化，下列说法错误的是（ ）

- A. 信息化概念起源于 20 世纪 60 年代的美国
- B. 信息化以现代通信、网络、数据库技术为基础
- C. 信息化是当今时代发展的大趋势，代表着先进生产力
- D. 信息化具有智能化、电子化、全球化和个性化等特点

※第一部分结束，请继续做第二部分！ ※

第二部分 言语运用

(共 25 题, 参考时限 20 分钟)

本部分包括表达与理解两方面的内容, 请根据题目要求, 在四个选项中选出一个最恰当的答案。

请开始答题:

26、芳芳一直以来都是这样的性格, 让人难以 , 难怪上级来调研的时候, 她的同事们提起她时 有些微词。()

A. 琢磨 未免 B. 捉摸 未免 C. 捉摸 不免 D. 琢磨 不免

27、如果金属或合金的液体 速度非常快, 原子来不及排列整齐便被冻结住了, 最终的原子排列方式伪 于液体, 是混乱的, 这就是非晶态合金。()

A. 凝结 相似 B. 凝固 类似 C. 凝固 相似 D. 凝结 类似

28、光有知识是不够的, 还应当 ; 光有 是不够的, 还应当行动。行动是治愈烦恼的最好办法, 是现实达成的唯一途径。()。

A. 实践 想法 B. 运用 梦想 C. 实践 愿望 D. 转化 理想

29、为什么你听过很多道理, 却依然过不好这一生? 为什么你听过那么多心理学原理, 却依然过不好这一年? 新年计划总是失败的死穴在哪? , 复杂问题的终极答案往往简单, 我把答案总结为四个字: 承诺行动! ()。

A. 化繁为简 B. 知行合一 C. 知易行难 D. 大道至简

30、随着人类对全球资源的开发与科学技术的进步，几个世纪以来，北极的神秘面纱逐渐被人类文明揭开，现代科学研究已经表明，北极是人类资源的巨大宝库，尽管北极可能永远不会成为一个巨大的工业中心，但该地区最终成为人类所需的重要能源和原料基地却是 的。
()

A. 不置可否 B. 显而易见 C. 毋庸置疑 D. 板上钉钉

31、永远不要试图用战术上的勤奋，掩饰战略上的 ，真正的努力和勤奋并非流于表面，勤于思考，找准努力的方向，才能 。
()

A. 疏懒 对症下药 B. 懒惰 事半功倍 C. 懒惰 有的放矢
D. 惰性 对症下药

32、酸雨对生态环境危害严重，这种危害包括森林退化，湖泊酸化，鱼类死亡，水生生物种群减少，农田土壤酸化、贫瘠，有毒重金属污染增强，粮食、蔬菜、瓜果大面积减产，使建筑物和桥梁损坏，文物 。 ()

A. 丧失殆尽 B. 面目皆非 C. 片瓦不存 D. 荡然无遗

33、李学勤先生特别提出：“有些学者质疑，像今天这样学术‘信息爆炸’的条件下，还能够有国学要求的博精兼备的大家吗？请大家体认一下饶宗颐先生怎样于辽阔无垠的学海之中‘得大自在’，便不难

明白。” ，许嘉璐先生也说：“中华文化什么样子？就饶公这样！饶公是中华传统文化呈现于 20 世纪的最好典型。我可以这样说：50 年之内，不会再出第二个饶宗颐。”（ ）

- A. 无独有偶 B. 与此同时 C. 不期而遇 D. 俛得俛失

34、中石先生以儒家的文化原则和理想为本根，又能兼摄道家、释家的智慧，含英咀华，和合而融，他丰富的学养是《文化浸潭》能够取精用弘， 地对人类文化进行一种散点透视式的观测。（ ）

- A. 游刃有余 B. 庖丁解牛 C. 鞭辟入里 D. 旁征博引

35、罗素提出，避免人犯错误的办法有两个， 调查研究和听取不同意见， 人的成长环境、经历、学习方向以及天资的不同，人的知识有很大的个体特殊性。我们 虚心求教， 可以用他人的知识弥补自己的短板。许多错误可以通过听取他人的意见来避免。（ ）。

- A. 即 由于 只要 就 B. 即 由于 只有 才
C. 既 因为 一边 一边 D. 既 因为 只有 就

36、 ，水生血吸虫的幼虫吃包括钉螺在内的螺类，而钉螺正是水吸虫的唯一宿主。萤火虫体内的腺苷磷酸，可作为一种优异的检测剂来检测水的污染程度，萤火虫喜欢植被茂盛、水质干净、空气清新的环境，凡是有萤火虫种群分布的地区，都是生态环境保护得比较好的地方。

填入横线部分最恰当的一句是（ ）。

- A. 萤火虫是血吸虫病的防疫助手
- B. 萤火虫对栖息地生态环境有较高要求
- C. 萤火虫似乎是血吸虫最大的“天敌”
- D. 萤火虫是钉螺最大的“天敌”

37、古人云：_____。如果说理想信念是树干，那么中国优秀传统文化的学习则是大树的枝叶。树干高大且枝繁叶茂，这棵树就生机勃勃，树干高大而枝叶稀疏，就拒绝了光合作用的机会，树干迟早会干枯。（ ）

- A. “学而时习之，不亦乐乎”
- B. “学而不思则罔，思而不学则殆”
- C. “腹有诗书气自华，最是书香能致远”
- D. “书山有路勤为径，学海无涯苦作舟”

38、从黄土高坡到雪域高原，从西北边陲到云贵高原，习近平风雪兼程，几乎走遍全国 14 个集中连片特困地区，他对贫困群众念兹在兹、心有牵挂，近五年来，30 多次国内各地考察，几乎每次都提到扶贫，超过 25 个重要场合对扶贫开发工作作出重要指示。给上文加个小标题，最恰当的是（ ）。

- A. 习近平到边远地区指导扶贫
- B. 习近平走遍全国特困地区
- C. 习近平多次到国内各地考察
- D. 习近平重视全国扶贫工作

39、亚里士多德等古代哲学家基本认为，与事实相符的就是真相，有些现代哲学家不同意这点，所谓“真相”随后变成了可能与事实不符的理想，我的经验是谎言对我奏效，我可能不会相信事实，事实就摆在我眼前，人类喜欢自己骗自己，不合时宜的真相被令人舒适的谎言所掩盖。（ ）

- A. 然而 因为 如果 那么 因为
- B. 但是 于是 但是 所以 即便
- C. 然而 所以 但是 所以 因为
- D. 但是 因为 如果 那么 即便

40、一个运动项目，锦标和荣誉是不可能与对手共享的，但通过竞争达到技术交流，可以让人深切感受其中的文化内涵，中国乒乓球需要的不是培养对手向自己挑战，也不能刻意限制自身优势，而是在交流融合中，共同丰富乒乓文化，不必“养狼”，胜于“狼”，这是对自己、对对手、对乒乓球运动的尊重。

上文中的“养狼”理解最准确的是（ ）。

- A. 提高体育竞争意识
- B. 让竞争达到技术交流目的
- C. 培养对手向自己挑战
- D. 向对手输出技术

41、现在的电影处于一个全媒介时代，从开始拍摄到投入市场部处于与众多新媒体争夺受众的状态，都须考虑如何通过互联网众筹、宣传、粉丝营销等状况。可以说，全媒介语境使得电影的传播和评价方式都

变得多元化，电影批评的形态、生态、写作方式和功能价值、传播方式等也都发生着巨大变化。

根据上述文字，作者想要表达的意思最有可能是（ ）。

- A. 现在的电影处于一个与众多新媒体争夺受众的全媒介时代
- B. 全媒介语境导致电影批评的生态、形态、写作方式和传播方式、功能价值等发生着巨变
- C. 电影处于一个面临互联网语境的互联网+时代，必须考虑如何通过互联网宣传、众筹、粉丝营销
- D. 全媒介语境导致电影传播和评价方式的多元化

42、专家指出，重拾共享精神，首先需要理解“使用而非拥有”的理念，正确认识共享与私有、共有的关系，在共享经济时代、人们追求的是社会资源利用率的最大化，闲置的社会资源只有得到更广泛地分享才能获得利益。以信息技术为支撑的共享经济时代，要实现更大程度上的自由、开放、共享，首先就需要构建以信用体系为核心的共享伦理，过去熟人间的共享就是基于彼此间的信任，要让资源在全社会畅通地流动共享，就必须完善社会征信体系，以信用的约束力来规范社会各方的行为，让每个人都遵守规则与秩序，从而实现文明共享。

对上文理解错误的一项是（ ）。

- A. 做好共享和享受共享的前提是理解“使用而非拥有”
- B. 共享经济的推行，能使社会资源利用率提高
- C. 共享经济的本质是共享信用、自由、开放
- D. 信用和过去熟人间的信任，有着某种相似性

43、思维和言语不一样，思维并不是由彼此独立的单位所组成，当我想与别人交流下面的思想，即今天我见到一名赤足的男孩身穿蓝衬衫沿着街道奔跑，我并不把其中每个项目（item）分别对待：即男孩、衬衫、衬衫的蓝颜色、他的奔跑、不穿鞋子等。我把所有这一切在一次思维中构想出来，_____。

填入横线部分最恰当的一句是（ ）。

- A. 但在表述时即存在语言的“离”与“合”
- B. 同时在表述时一次性充分联络
- C. 但在表述时必须遵守言语规划和方式
- D. 但在表述时却用分别开的词语

44、记得一位我喜爱的名家在著作里写过，人们都说人是在光明里行走的，其实哪里有光明，人总是在黑暗里行走的，随着年岁的虚长和阅历的渐深，我愈发理解了此话的涵义，那么，置身在这潜藏着污秽，充斥着黑暗和谬误的现实，我们怎样才能像明月般不退缩、不迷失、不怯弱、不犹疑，既能走入又能走出生活，坚定、勇敢地表现生活和现实以及自我，从而抵达真，追求善，完善美呢？

根据上文可以得知作者对人生的态度是（ ）。

- A. 生活中到处充斥着阴暗面，人生不可能完美
- B. 人生成长的过程中总是见不到阳光明媚的一面
- C. 人生就像月亮一样，身处黑暗却应光明在心
- D. 人只有在黑暗的生活中才能磨练出完美的人生

45、①这将使工厂彻底告别车床，冲压机、制模机等传统工具，从而

转变为一种以 3D 打印为基础的成本更低、研发周期更短的生产方式。

②美国《经济学家》杂志曾刊发题为《第三次工业革命》的文章，称 3D 打印标志着第三次工业革命的到来。

③以目前的发展情况判断，3D 打印之后，必将是社会制造业的迅猛崛起。

④3D 打印源自 100 多年前的照相雕塑和地貌成形技术，是一种不需要传统工具和机床就能打造出任意形状、根据物体的三维模型数据制成实物模型的技术，被认为是一项改变世界的新技术。

⑤3D 打印机与普通打印机的工作原理基本相同，只是打印材料有些不同，3D 打印使用的不是传统的“墨”，而是那些能发生固化反应的材料。比如树脂、塑料、陶瓷、金属等，因而能“打印”出实实在在的三维立体模型，就像童话中的“复制机”一般神奇。

将以上五个句子重新排列，最恰当的一项是（ ）。

A. ⑤④③①② B. ⑤④①③② C. ④①⑤②③ D. ④

⑤①②③

46、乐天集团在中国市场的发展应当画上句号了，尽管向“萨德”提供土地不全是乐天的责任，但中国社会没有义务，也没有兴趣甄别它在这当中扮演的角色究竟是什么，用把乐天逐出中国市场来对危害中国国家利益的外部力量杀一儆百，这是中国作为大国应有的威严。

上文作者认为把乐天集团逐出中国的原因是（ ）。

A. 乐天集团在“萨德”一事上提供了土地

B. 乐天集团扮演的角色让中国不满

- C. 乐天集团在中国市场上无法继续发展
- D. 以此威慑危害中国国家利益的外部力量

47、知识爆炸不一定是只会增高，我相信，今人的知识一定胜过古人，但智慧则未必，新知识往往比旧知识丰富、正确，但是真正的智慧却难分新旧，知识，只要收到就行了。智慧却需要再三玩味反复咀嚼，不断印证。如果一本书愈读愈有味，而所获也愈丰，大概就是智慧之书了。据说《天路历程》的作者班扬，生平只熟读一部书《圣经》。米尔顿是基督教的大诗人，当然也熟读《圣经》，不过他更博览群书。其结果，班扬的成就也不比米尔顿逊色多少。真能善读一本智慧之书的读者，离真理总不会太远，无论知识怎么爆炸也不会得鱼忘筌的吧。对划横线处理解最准确的一项是（ ）。

- A. 知识与智慧的关系就像鱼和筌，知识重要，但智慧更重要
- B. 知识爆炸的年代，在获得知识的同时更应该追求智慧
- C. 在知识爆炸年代，得鱼忘筌的观念是不可取的
- D. 知识与智慧若鱼与筌，智慧源于知识。

48、长久以来，中国不乏有识之士为传统武术文化的传承发展奔走呼吁，摒弃门户之见，走出牌坊门楼、打通派系隔膜，其诚心可见可佩，但武术要形成开放包容的发展态势，仍然路长道远。

上面这段话要表达的主要意思是（ ）。

- A. 中国武术界不乏有识之士呼吁传统武术文化
- B. 中国武术文化要继承发展必须摒弃门户之见，包容开放
- C. 中国武术要形成开放包容的发展态势路长道远

D. 中国武术各门户、派系之间的隔阂是武术文化传承的障碍

49、按照世界银行等设定的标准，中等收入群体是指人均每人每天收入或者消费 10-100 美元，按照这一标准，中国中等收入群体达到 44%，涉及到 5 亿多人；若根据中国自己按照国情设定的探索性的标准，家庭年可支配收入 9 万到 45 万之间的被划为中等收入家庭，那么中等收入家庭涉及到 3 亿多人。

对上文的理解有误的一项是（ ）。

- A. 中国设定的中等收入群体的标准比世界银行设定的标准要高
- B. 按世界银行设定的中等收入群体标准中国中等收入的群体不仅有 5 亿
- C. 中国中等收入家庭有 3 亿户
- D. 世界银行设定的中等收入群体标准与中国设定的标准有较大差异

49、下列句子排序，最恰当的一项是（ ）。

- ①欧洲建筑以神庙和教堂为主，还有公共建筑、城堡、府邸、宫殿和园林，在长期发展过程中表现出风波激荡的多样面貌。
- ②公元前两世纪罗马共和国盛期以后，西方建筑体系长期以意大利半岛为中心，流行于广大欧洲地区，近代又传到美洲和澳洲。
- ③西方建筑是一种以是石结构为主的建筑体系，肇兴于公元前两三千年的爱琴海地区和公元前一千以来的古希腊，也融合了一些古埃及和古代西亚建筑的某些因素。
- ④若以曲线展示，可以认为是一些似断似续、时间颇有重叠的许多波浪状折线的不断涌现。

⑤新潮迭起，风格屡迁，虽代有继承仍表现出明显的断裂性，大致说来有古希腊、古罗马、拜占庭与俄罗斯、基督教早期、前哥特（罗马风）与哥特文艺复兴、巴洛克、古典主义、古典复兴和折衷主意等许多风格的递相出现。

- A. ①②③⑤④ B. ③①②④⑤ C. ③②①⑤④ D. ①③②⑤④

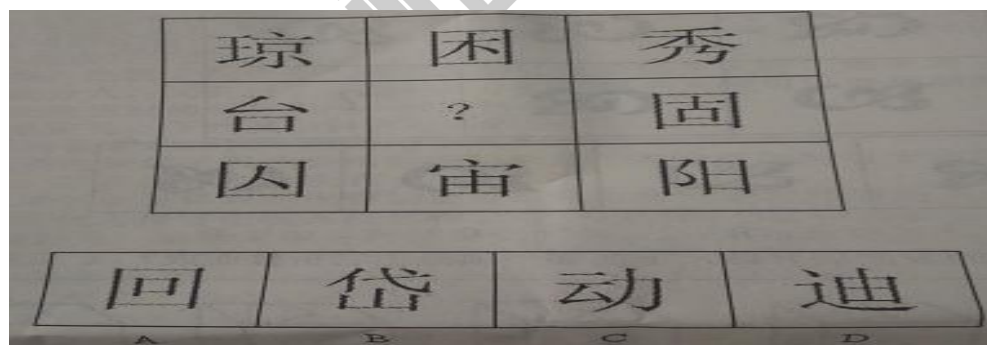
※第二部分结束，请继续做第三部分！ ※

第三部分 判断推理


（共 25 题，参考时限 25 分钟）

一、图形推理。请按每道题的答题要求作答。

51、所给四个选项中，选择最合适的一个填入问号处，使之呈现一定规律性。（ ）

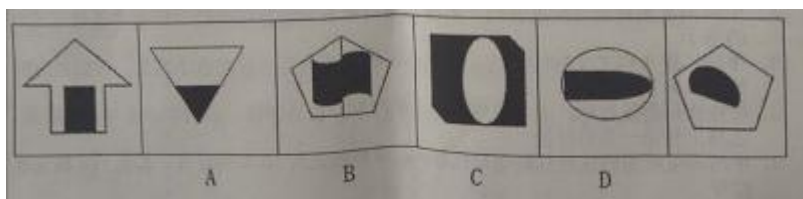


52、从所给四个选项中，选择最合适的一个填入问号处，使之呈现一定规律性。（ ）




53、下列四项去掉哪一项后，剩下的图形可以呈现出一定的规律性？

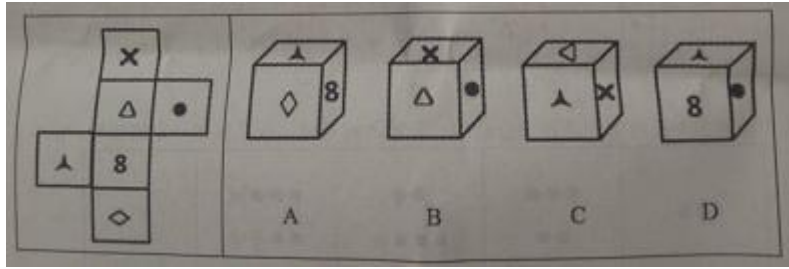
()



54、从所给四个选项中，选择最合适的一个填入问号处，使之呈现一定规律性。()



55、左边给定的是正方体的表面展开图，下列哪一项是由它折叠而成？()



二、定义判断。每道题先给出定义，然后列出四种情况，要求你严格依据定义，从中选出一个最符合或最不符合该定义的答案。注意：假设这个定义是正确的，不容置疑的。

请开始答题：

56、合同法中的“要约”，是指要约人向受要约人发出的。希望和受要约人订立合同的意思表示。“承诺”，是指受要约人同意要约的意思表示。由于接受要约人承诺，表明当事人之间达成协议，合同即告成立。

根据上述定义，下列合同得以成立的是（ ）

- A、甲向丙发出售卖房屋的要约，一周之后向甲表示愿意按照要约中的所有条件买下甲的房子。
- B、甲向乙发出售卖文物的要约，要求乙在收到要约后三日内给予答复，否则视为拒绝，乙未按期答复。
- C、甲在微信群里宣称：本人出售一辆二手汽车，价格详谈，预购者请速与本人联系，乙马上转账一笔预付款。
- D、甲在淘宝店明码标价代购进口化妆品。宣城收款后十天内发货，乙汇了全额货款给甲。

57、金融监管：指国家金融管理部门未达到稳定货币、维护金融业正常秩序等目的，依照国家法律、行政法规的规定，对金融机构及其经

营活动实施外部监督、检查和对其违法行为。进行处罚的一系列行为。

根据上述定义，下列属于金融监管的是（ ）

- A、中国工商银行总行为了防控风险，对全国范围内的分支机构账目进行了一次全面检查。
- B、某省金融办为促进各商业银行向小微企业贷款力度，出台了相应奖惩措施。
- C、某市金融管理部门对单位内部人员违法违规插手信贷的行为进行了专项检查。
- D、国家银监会为了防止发生全国范围的金融系统风险，依法对全国各商业银行的信贷情况进行了抽查。

58、善意取得：是指无权处分人将其财物转让给第三人时，如果第三人既不知道该出让人为无无权处分人，又支付了合理对价，则该第三人便可以取得财物的所有权，财务的原权利人丧失该财物所有权的一种法律制度。

根据上述定义，下列属于善意取得的是（ ）

- A、张三将偷来的摩托车赠送给李四。
- B、王某将捡到的手机出售给知情的李某，并约定如原手机主向李某讨要，由王某出面赔偿，手机仍归李某所有所有。
- C、商场的柜员将商场出售的金首饰私自拿回家送给家里人。
- D、小周将代为保管的他人皮包转让给不知情的小张，并收取了小张的相应钱款。

59、防御行为：动物采取各种措施保护自己，防御敌害的行为。

根据上述定义，下列不属于动物防御行为的有几项？（ ）

- ①水母，海蜇等漂浮生物躯体近乎全透明，与水体颜色一致
- ②当蜥蜴，壁虎等遇到天敌咬住尾巴或遭到危险的时候，往往会自断尾巴
- ③池塘中蝌蚪数量过多，大哥斗会释放毒素，使小蝌蚪死亡，以维持合理的种族密度
- ④蚯蚓和鼯鼠等动物生活在地下，从而降低被捕食的风险

A、1 B、2 C、3 D、4

60、登门槛效应，又称得寸进尺效应，是指一个人一旦接受了他人的一个小要求，那么别人在此基础上提出一个更高的要求，这个人也会倾向于接受。

根据上述定义下列属于登门槛效应的现象是（ ）

- A、小明天资聪颖，小明的父母急于求成，小明小学六年级的时候就在父母的要求下学完了初中的课程内容。
- B、功夫大师觉得自己的徒弟跟贾平平，还不勤加练习，很铁不成钢，要求徒弟每天都要练好刀、枪、棍、棒、钺、戟等兵器的功夫。
- C、小李本来想买 iPhone8 送给女友立伟生日礼物，但考虑到女友要求高，最后买了 iPhoneX。
- D、公司新接订单，时间紧、任务重，员工在老板的要求下连续一周每天加班一小时。订单完成后，老板还是要求员工每天加班一小时，员工觉得前段时间每天都加班，就同意了老板的要求。

三、类比推理。每道题先给出一组相关的词，要求你在备选答案中找

出一组与之在逻辑关系上最为贴近、相似或匹配的词。

请开始答题：

61、西红柿：香菇（ ）

A、跑步：吃饭

B、羽绒服：冬季

C、喜鹊：黄鹂

D、太阳：晴天

62、上下：左右

A、是非：黑白

B、红橙：黄绿

C、酸甜：苦辣

D、金银：铜铁

63、牙刷：牙膏：水（ ）

A、老师：学生：水

B、键盘：鼠标：电

C、汽车：轮胎：油

D、农民：作物：田

64、构思：撰写：定稿（ ）

A、挂号：诊疗：治愈

B、买菜：洗菜：炒菜

C、卖票：排队：入场

D、锻炼：学习：成长

65、五颜六色 对于 相当于 对于 精妙绝伦 ()

- A、万紫千红 心驰神往
- B、千家万户 喜形于色
- C、百花齐放 匠心独运
- D、色彩斑斓 精雕细琢

四、逻辑判断。每道题给出一段陈述，这段陈述被假设是正确的，不容置疑的。要求你根据这段陈述，选择一个答案。注意，正确的答案应与所给的陈述相符合，不需要任何附加说明即可以从陈述中直接推出。

请开始答题：

66、某市要开发新城，但要满足以下条件：如果修了综合体就要建大型酒店，如果建了大型酒店就不能建公寓楼，如果建了公寓楼就必须必须铺设专用线路，铺设专用线路必须建大型酒店。

如果以上表述为真以下哪项结论无法推出？ ()

- A、该市新城最后建了综合体
- B、该市新城最后一定建了大型酒店。
- C、该市新城最后可能建了公寓楼。
- D、该市新城不可能同时建综合体与公寓楼。

67、法律既是统治阶级的产物，也调整着统治阶级的行为。只有包括统治阶级在在内的所有人都遵守法律，法制社会才能形成。

如果以上论述都正确，下列一定正确的有几项？ ()

①明朝采用法家的理论治国，律法严明，是法治社会的代表之一

②法律面前没有人例外，就是法制社会。

③只要统治阶级，遵守了法律规定，法制社会就一定会形成。

④法律社会中，统治阶级也一定遵守法律

A、0 B、1 C、2 D、3

68、某市统计局，为了调查统计全市蔬菜价格，对上百家蔬菜市场各种蔬菜。这价格进行了调查统计，发现有 60%的蔬菜品种价格低于去年同期价格，据此该市统计局认为，去年全市上下全是蔬菜市场价格稳中有降。（ ）

以下各项如果为真，最能削弱上述推论的事

A 本次调查蔬菜中有 20%高于去年同期价格

B 去年同期百分 60 送菜价格处于历史高位

C 今年蔬菜，喜获丰收

D 本次调查蔬菜市场是大众批发市场价格明显低于去年，同期调查零售市场

69、只有具有医学和遗传学双学科背景的人才能研究分析出该病症的遗传学图谱，王敏恰恰是研究出该病症的遗传学图谱的少数人之一。

如果以上表述正确，下列推论不一定正确的有几项？（ ）

①王敏具有医学背景

②王敏具有遗传学背景

③王敏曾经就读过医学院

④王敏掌握两门及以上的学科知识

A、0 B、1 C、2 D、3

70、某小学班主任对班上学生的课外培训班情况进行了调查，发现：该班的学生要么参加了英语培训，要么参加了奥数培训；如果报了写作培训班，所以一定没有参加奥数培训班。班级学习委员参加了写作培训，因此参加了国学培训。

以下哪项为真，可以推出上述论断？（ ）

- A、在学习国学的学生都在学习奥数
- B、该班的学习委员至少在参加三个课外辅导班
- C、在学习英语的学生都在学习国学
- D、该班学生参加的课外培训班只有奥数、英语、写作、国学

71、在一次管理高峰论坛上，某知名企业 CEO 说“表扬和批评都是对下属进行管理常用的手段，虽然在使用的时间、对象和具体事情上有着不同的作用，但是批评有着越来越多的负面效应。”

如果上述表述为真，下列推论一定正确的有几项？（ ）

- ①在对下属进行管理中批评和表扬相结合，才能有效管理下属
- ②批评在对下属进行管理中的消极作用变大
- ③在对下属进行管理中表扬比批评好
- ④在对下属进行管理中批评有时比表扬管用
- ⑤有的管理者既用表扬手段，也用批评手段对下属进行管理

- A. 1 B. 2 C. 3 D. 4

72、近年来，H7N9 禽流感的患病者在我国不同地方出现，但目前没有证据表明人与人之间可以传染，但中国工程院院士钟某针对是否人传染人的问题指出，根据现在的事实，没有发现有人与人传染，不等

于就证实它不可能传染，所以要对 H7N9 禽流感紧密跟踪观察和严密监视其发展。

如果上述论断正确，能最好地支持钟院士观点的一项是（ ）。

- A. 国家卫计委专家表示不排除 H7N9 病毒存在有限“人传人”的能力
- B. 上海市有一位 H7N9 禽流感的康复患者是被确诊感染 H7N9 的 87 岁李某的长子
- C. H7N9 禽流感疫情在地域分布上呈集中爆发模式，发病人群在某一地区集中
- D. 目前许多流感病毒存在人与人之间传染的现象，H7N9 属于一种流感病毒

73、科学研究发现任何生物都只能在一定的温度范围内活动，科学家们认为温度是对生物物种分布影响最显著的环境因素。

如果以下各项都为真，最能削弱上述结论的是（ ）。

- A. 中国北方无法种植柑橘、香蕉等，南方又无法种植苹果等
- B. 非洲西南端，近赤道太平洋的加拉帕戈斯群岛和南极大陆都有企鹅的存在
- C. 厄尔尼诺现象使得某些地区松鼠冬季发情
- D. 非洲 每年 6 月左右会进行大规模迁徙

74、很多小学教育类专业学生，绝大部分大四就已经开始离开学校，从事教育相关的工作，因此，有人认为小学教育类的专业学习对学生们今后的职业发展并没有提供有力的帮助，以下哪项如果为真，能有力地反驳上述推论？（ ）。

①这些大四开始离开学校从事教育相关工作的学生都说，小学课程比较简单，他们不需要大学学习就已经知道

②这些大四开始离开学校从事教育相关工作的人是为了更系统的学习小学教育相关实践经验

③许多中学教育类专业的学生，也在大四开始离开学校从事教育工作

④这些大四开始离开学校从事教育相关工作的学生都说，他们的教育专业课程在大四之前已经学习完成

- A. ①②④ B. ②③ C. ②④ D. ③④

75 据世界卫生组织的调查发现，60%患腰椎间盘突出的人都是从事办公室工作的人，因此，长期久坐会增加患腰椎间盘的概率。

以下如果各项都为真，最能削弱上述推论的是（ ）。

- A. 某公司从事办公室工作的人都没有患腰椎间盘突出的症状
- B. 从事办公室工作的人有 70%没有长期久坐
- C. 很多患腰椎间盘突出的是从事驾驶工作的人
- D. 腰椎间盘突出形成跟日常作息习惯有很大的关系

※第三部分结束，请继续做第四部分！ ※

第四部分 数量分析

（共 10 题，参考时限 10 分钟）

一、数学运算。在这部分试题中，每道题呈现一段表述数字关系的文

字，要求你迅速、准确地计算出答案。

请开始答题：

76、现有 0.9%的生理盐水和 20%的盐溶液若干，不能调制出下列哪一种浓度的盐溶液？（）

A、1.13% B、4.95% C、11.25% D、20.50%

77、若干个大小相同的正方体摆放在一起，正、俯视图刚好都是“品”字状，则这堆正方体最少有多少个？（）

A、3 B、4 C、5 D、以上均不正确

78、甲乙丙三人绕着 400 米长的环形跑道从同一地点同向出发，其中一人慢步 0.8 米/秒，一人慢跑 2 米/秒，一人骑自行车 4 米/秒，则三人再次相遇于起点时，慢跑者跑了几圈？（）

A、2 B、5 C、8 D、10

79、往某水库中注水，A 泵注水 400 立方后，换用效率是 A 泵注水速度 2 倍的 B 泵，已知 B 泵注水 700 立方的时间比 A 泵注水 400 立方的时间少 50 分钟，则 A 泵的注水速度为多少立方/分钟？（）

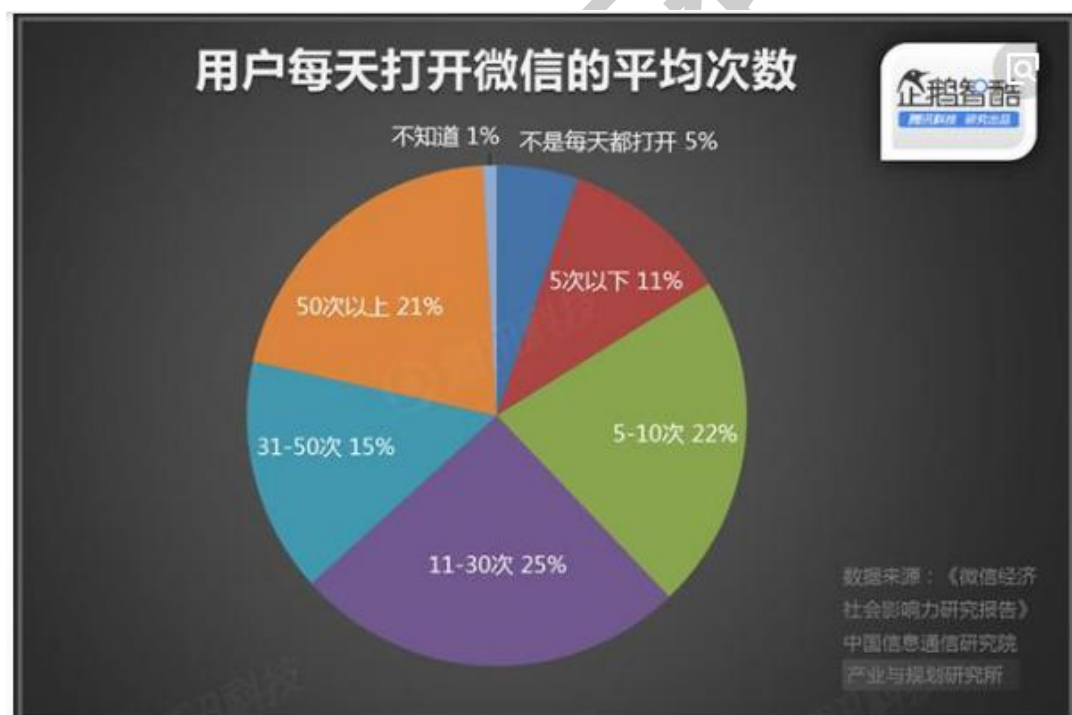
A、0.5 B、1 C、1.5 D、2

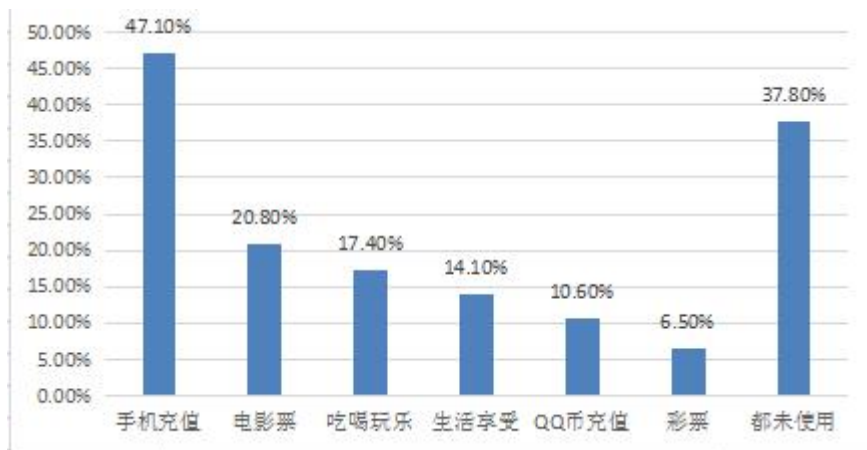
80、小明在做算术题时，老师告诉他“ $285.47+13.88$ ”这道题中的一个小数点点错了位置，结果也错了，偏小 100 多，小明仔细看过后，纠正了答案，正确答案是多少？（）

A、42.42 B、424.27 C、4242.7 D、299.35

二、资料分析。所给出的综合性资料有若干个问题要你回答。你应根据资料提供的信息进行分析、比较、计算和判断处理。

请开始答题:





微信用户使用过的微信生活服务类功能情况图

81、微信用户中，每天打开微信次数在 31—50 次的用户数占每天都打开微信用户数的比可能为（ ）。

- A、36.5% B、15.9% C、15% D、13.3%

82、微信用户中企业职工，事业单位人员所占比重之和比自由职业及个体户所占比重高（ ）个百分点。

- A、25.9 B、36.8 C、40.4 D、46.4

83、使用微信购买电影票的用户约占使用过微信生活服务类功能用户数的（ ）。

- A、33.6% B、40.3% C、20.9% D、无法得知

84、微信用户中，每天打开微信的次数在 5—30 次的占比约为（ ）。

- A、 B、 C、47% D、36%

85、根据材料，下列表述错误的是（ ）。

A、微信用户中党政机关、军队人员及事业单位人员所占比重合计超过 13%

B、微信用户中，每天打开微信的次数超过 30 次的占比达到了 36%

- C、微信用户使用最多的微信生活服务类功能是手机充值
- D、使用过微信进行 QQ 币充值的微信用户所占比重为 6.5%

※第四部分结束，请继续做第五部分！ ※

第五部分 综合分析

(共 15 题，参考时限 25 分钟)

所给出的文字资料均有若干个问题要你回答，你应根据资料提供的信息进行分析、判断和处理。

请开始答题：

(一)

微电影是指专门在各种新媒体平台上播放的、适合在移动状态和短时休闲状态下观看的、有完整策划和系统制作体系支持的具有完整故事情节的“微时”放映、“微周期制作”和“微规模投资”的视频短片。其内容融合了幽默搞怪、时尚潮流、公益教育、商业定制等元素，可以单独成篇，也可系列成剧。

微电影兴起于草根。各种参差不齐的“小短片”，来自于各种相机、DV、手机。后来，类似“天堂鸟影像”这样的专业机构，使微电影从个人自拍的随性表达，渐渐上升到电影的层次。

近两年，我国各种类型的微电影呈“井喷式”增长。从电影类型

来看，在草根网民的原创作品层出不穷的同时，专业团队为一些品牌量身打造的商业微电影也开始盛行；从制作规模来看，越来越多的专业团队跻身微电影的制作，甚至一些知名导演也加入了微电影的制作行列。微电影的制作形成了一定的规模，其品质、格调也得以提升，实现了华丽转身。微电影的影响力也在日渐增强，由其催生的短片大赛、微电影大赛、微电影节等活动雨后春笋般涌现。

微电影的篇幅虽小，却并不影响其主题的深远立意和对现实问题的深刻思考，一些微电影在实现艺术追求的同时，也主动担负起对社会的责任。

以“7·21”大雨为背景创作的系列微电影《大雨》的主要人物都是现实生活中的普通人，面对大雨造成的各种困境，他们团结互助、共抗灾难，共同演绎了充满温情与关怀、责任与坚守的感人故事。影片融入纪实的风格，片尾对人物原型的采访，使得“微”中有内涵，“微”中有新意。在传递社会正能量的公益微电影中，《天堂忘记了》镌刻下自闭症少年的心灵界碑；《交易》中的小女孩儿主动找到人贩子，一句“叔叔，你把我卖了吧！我还差1800块钱给妈妈治病”，让观众为之动容；《亲爱的小孩》喊出“温暖2012”，呼吁对于弱势儿童群体的关注一刻都不该停止……这些微电影关注社会事件，从帮扶贫弱、关爱孤儿到保护环境、热爱自然等多个方面，予以理性思考和人文关怀，以艺术的力量担当起社会责任，发出正义之声，温暖人心。

微电影的播放渠道正日趋多元化。微电影不仅通过网络、移动电

话等新媒体呈现，传统的电视播放平台也为它大开“绿灯”。微电影传播平台的增加，微电影制作团队的日渐专业化都让微电影从“非主流”向主流过渡。未来，微电影还可能打包进入主流院线，进入电影发行体系，以更加成熟的姿态面向观众。

86、下列关于“微电影”的说法，有误的一项是（ ）

- A. 微电影可幽默、可严肃、可时尚、可以是公益教育，也可以是商业需要，可单独成篇，也可系列成剧
- B. 近两年，我国的微电影呈“井喷式”增长，“天堂鸟影像”使微电影上升到电影的层次
- C. 微电影虽然篇幅短小，但其仍然可以有立意深远的主题，关注热点事件，发成正义之声
- D. 微电影传播平台多元，网络、移动电话、电视播放平台等都可呈现

87、以下说法中，不符合文章意思的一项是（ ）

- A. 微电影兴起之初，是个人自拍的随性表达
- B. 最早的微电影和艺术没有什么关系，是人们出于方便的需要随意拍摄的
- C. 一些知名导演加入微电影的制作，从一定程度上提升了微电影的制作质量
- D. 微电影对观看时间和空间的要求较传统电影低

88、关于第三自然段中“华丽转身”的理解，下列说法不恰当的一项是（ ）

- A. 制作人由草根网络扩展到专业团队

- B. 形成了一定的制作规模
- C. 品质提升，影响力日渐增强
- D. 催生出短片大赛、微电影节等活动

89、对文章第五自然段理解，有误的一项是（ ）

- A. 《大雨》实际上可以说是一部微型纪录片
- B. 微电影的内容可以是真人真事，且可以请来当事人参与拍摄
- C. 段落中提到的微电影。往往选取社会热点的某方面，予以表现并引发人们思考
- D. 微电影可以传递社会正能量，担当起社会责任

90、以下各项说法，符合原文意思的一项是（ ）

- A. 商业定制对微电影的发展来说，因其趋利性有负面影响，应尽早取缔
- B. 微电影的播放渠道日趋多元化，已打包进入主流院线，进入电影发行体系
- C. 微电影要有完整故事情节
- D. 微电影需要从“非主流”向主流过渡，所以要求制作团队更加专业化

（二）

自然科学有一些定义、定理，人文社会科学虽然没有这种叫法，但每个在基本理论上都有些公认的原理，而且无论是实证性文字，还是理论著作，也都有一个学术规范的问题。引据的准确可靠，论证的

充分，推理的严密，是所有的论文都应该做到的，这些就不用说了。对于该领域学术界研究状况的了解和对前人研究成果的尊重，也是所有研究论文都应遵循的原则。

按照海内外学术研究的惯例，一篇有分量的人文社会科学论文，首先必须对当前的研究现状有一个简单的回顾，说明在此问题的研究上目前学术界进展到何种程度，还遗留有什么问题。国内在此问题的上做法比较灵活，但一般的学术专著和博士、硕士学位论文则一定要有这部分内容。为什么要有这个要求？第一，说明自己在该领域掌握的信息有哪些，是不是对重要研究成果都有所了解；第二，说明这个课题有没有研究的必要；第三，说明可供利用的成果和主要材料有哪些；必须要推翻的旧说是什么。所以对一篇有所创新的严谨的科学论文来说，这部分内容是不能少的。当然，这也不能成为“科八股”的第一股，无论需要不需要，都先引一大堆材料，自己却并无新见。有的学者是将前人的有关看法分散地在有关地方标出；有的论文虽然并无对前人看法的综述，但对学术界此前情况了如指掌，论文围绕前沿问题，所辨析很有针对性，也未必要在文前先作回顾。这主要是一个学风和意识的问题，不纯粹是论文格式或写论文的方法问题。

应该说，所有的研究都是在前人的基础上进行的。尤其学术上的重大成果、重大推进和突破，无不借助于前人所奠定的基础，或从前人的研究中受到启发。中国屈原学会首任会长汤炳正先生为拙著《屈原与他的时代》写的《序》中，对我的研究方法，有三点特予肯定。汤先生的第一点说：

推翻前人的旧论，创立自己的新说，这是学术界惯用的公式。“不破不立”，这当然是对的；但对我国千百年来的学术遗产，是不是也存在个“有继有立”的问题？亦即善于在继承优秀学术遗产的基础上创立新说。这次我读逵夫的书稿，见他在不少的篇章里，首先是接受前人的学术遗产，然后层层论证，步步推演，结果竟得出一个全新的概念。这期间，继承与创造，浑然一体，确实难得。

汤先生是太炎先生的弟子，国学根底深厚，又能吸收国外的新的研究方法，也十分重视学术的规范。他没有一篇论文是随感式的论述，都是扎扎实实，进行严密论证的。我在屈原研究上受到汤先生多方启发，也受到鼓励。汤先生上面所指出这一点，尽管我做得还不是太好，但确实是我在研究工作中所长期奉行的原则。

其次，采用前人主要观点、说法，应予注明。这一方面是学术规范的问题，另一方面也是学术道德的问题。收在本书中的论文，对文本、作者的考订与探索为多，我都尽可能做到注明此前学者的看法，自己同意者加以引述、利用；不同意者如影响很大，便提出商榷，加以辩驳。如《我国最早的歌舞剧〈公莫舞〉演出脚本研究》中引述杨公骥先生之说四十余处，均已“杨公骥先生说”或“杨说”表明。其中《敦煌变文》校补部分，自己阅读之时写了一些札记，整理成文时，将当时所能找到的书、刊物都借来，一一查对，此前学者们已经谈过相同意见者即删去；意见有部分相同可资利用者加以引述，有所不同而不得不辩者，即加以辩证。

91、下列说法，不符合原文意思的一项是（ ）。

- A. 无论是自然科学，还是人文科学，都有学术规范
- B. 从推理的严密度上说，社科论文不及自然科学论文
- C. 学术上的重大成就，都是在前人奠定的基础上突破的
- D. 汤炳正先生对作者的“继承与创造”颇为赞赏

92、对文章第二自然段中的“灵活”一词，理解正确的一项是（ ）。

- A. 国内对社科论文的学术规范要求比较低一些
- B. 除毕业论文外，其他论文可以不说明目前学术界的进展等问题
- C. 国内部分论文在交代学术界研究现状的问题上，可有可无
- D. 除特殊规定外，社科论文对当前学术界研究进展回顾可酌情安排

93、对第二自然段中“科八股”的理解，正确的一项是（ ）。

- A. “科八股”的特点必定是格式僵化、毫无新意
- B. “科八股”指的是在各种学术考核中要求写的科学论文
- C. “科八股”的“第一股”便是无论需不需要，引一大堆材料
- D. “科八股”体现了学术论文的规范性

94、关于“对前人研究成果的尊重”的说法，有误的一项是（ ）

- A. 这是写研究论文的基本原则之一
- B. 在自己的论文中采用前人观点、说法时，应该有明确标注
- C. 前人的研究具有其难以取代的优点，后人都是予以继承并发展
- D. 对前人研究的尊重是一种学术道德

95、以下各项说法中，有误的一项是（ ）

- A. 对一篇有所创新的严谨的科学论文来说，说明该课题有研究的必要性，是很重要的

- B. 有的学者将前人的有关看法分散地在有关地方标出, 这表现其在学风和意识方面有欠缺
- C. 接受前人的学术遗产, 并不意味着不能出新
- D. 《敦煌变文》校补部分, 作者之所以删去自己札记中与此前学者们已经通过的相同意见部分, 是对前人学者的尊重

(三)

在一个多民族国家的历史中, 两个兄弟民族的和解, 不能说不是一个具有重大意义的历史事件, 而王昭君在这个事件中扮演的角色, 不能说不是一个重要角色。

当然, 汉元帝的政府不会把它的全部匈奴使命交给这个年轻的, 没有实际政治经验的姑娘, 他们知道, 在这个姑娘后面, 还有一条万里长城, 但是不能因此就认为昭君出塞是汉王朝用真人真事表演的一出滑稽剧, 以此作为战争中的插曲, 应该指出, 昭君出塞这件事, 对于汉王朝来说, 是一个政策的转变, 即从战争政策回到和亲政策, 和亲政策, 在今天看来已经是一种陈旧的过时的民族政策, 但在古代封建社会时期却是维护民族友好关系的一种最好的办法, 在当时的历史条件下, 要维持民族友好关系, 主要是通过两种办法, 或者是质之以盟誓, 或者是申之以婚姻, 后者就是和亲, 西汉王朝对匈奴的政策主要的是和亲政策, 只有在这种政策不能产生效果的时候, 才采取战争政策, 因此, 他们对昭君出塞是非常重视的, 史载汉元帝为了纪念这次和亲而改元竟宁, 就是最好的证明。

事实的发展是符合于汉王朝的期望的. 昭君出塞以后. 汉与匈奴之间有五十年左右没有战争. 一直到王莽执政时期. 由于王莽的政府推行一种分化匈奴人的政策. 汉与匈奴之间的友好关系才受到损害.

五十年的和平. 在历史上不是一件小事. 而这五十年的和平是与昭君出塞有密切关系的. 当然这种和平的出现. 不完全是王昭君个人的作用. 作为个人. 不论她生得如何美貌. 也不论她具有多大的政治才能. 都不能转移作为一个部落联盟的匈奴统治集团的政治方向. 至多只能从匈奴单于处获得对她个人的宠爱和信任. 西汉初的历史充分证明了这一点. 在西汉初. 尽管汉王朝不断地与匈奴单于和亲. 但并没有因此而免于匈奴部落贵族的侵袭. 只是没有使这种侵袭发展成为真正的战争而已.

汉与匈奴之间的友好关系的恢复. 是中国历史发展到公元前一世纪所形成的客观形势的必然趋势. 当时的客观形势是: 一方面匈奴已经由于部落贵族之间的分裂而趋于衰落, 另一方面. 汉王朝也进入了它的全盛时代的末期. 在这种形势下. 双方都无力发动侵略对方的战争. 特别是双方的人民. 都迫切地向往和平. 甚至一部分匈奴贵族也由于内部矛盾的尖锐化而感到必须与汉王朝和解才能稳定自己在匈奴中的统治地位. 匈奴呼韩邪单于之决定款塞入朝. 和汉王朝恢复友好关系. 就是接受以匈奴贵族左伊秩訾王为首的主和派的意见.

和平是历史的必然趋势. 但不能就得出班固所说的“和亲无益的结论. 不可想象. 假如当时的汉王朝拒绝与匈奴和亲. 单靠历史的必然性. 就可以自动地发展出五十年的和平.

史实证明. 在昭君出塞前. 这种形势是存在的. 但并没有因此而导致和平. 甚至在呼韩邪单于两度入朝以后. 汉王朝还不得不在它的西北边境线上保持相当的军事戒备.

和亲以后. 情形就不同了. 史载汉元帝以王昭君赐呼韩邪单于. 单于欢喜. “上书愿保塞上谷以西至敦煌. 传之无穷. 请罢边备塞吏卒. 以休天子之民. 虽然汉王朝没有接受这个建议. 但从此以后. 双方都从思想上撤消了仇恨的堡垒. 燃烧了一个世纪的烽火熄灭了. 出现在西北边境线上的是和平居民的炊烟.

96、对于文中划横线句“他们知道. 在这个姑娘后面. 还有一条万里长城.”的理解错误的是（ ）。

- A. 汉元帝的政府不会把它的全部匈奴使命交给王昭君
- B. 和亲之后，汉与匈奴之间必然会有更频繁战争
- C. 汉元帝应该会在和亲政策不能产生效果的时候，采取战争政策
- D. 和亲政策在一定程度上可以避免或延后战争，但不会消除战争

97、对于文中划波浪线句“不可想象. 假如当时的汉王朝拒绝与匈奴和亲. 单靠历史的必然性. 就可以自动地发展出五十年的和平.”的理解正确的一项是（ ）。

- A. 汉王朝若拒绝和亲，必然与匈奴大动干戈
- B. 和不和亲，其实是没有什么意义的，印证了班固的“和亲无益”
- C. 和亲之后五十年的和平，与王昭君不能说是完全没有关系的
- D. 当时的汉王朝与匈奴之间，显然匈奴占据了主动权

98、以下关于“和亲”的说法，有误的一项是（ ）。

- A. 和亲政策，在古代封建社会时期是维护民族友好关系的一种最好的办法
- B. 西汉王朝对匈奴的政策主要的就是和亲政策
- C. “结盟”和“和亲”是当时的历史条件下维持民族友好关系的两种主要办法
- D. 西汉初，汉王朝与匈奴单于和亲，并没有因此免于匈奴部落贵族的侵袭是因为没有选中王昭君这样合适的和亲人选

99、根据文章，关于昭君出塞的意义，下列各项说法正确的一项是（ ）。

- A. 昭君出塞可谓顺应了当时的形势，推动了汉王朝和匈奴的和平
- B. 昭君出塞的积极影响为后世女子树立了榜样
- C. 昭君出塞前，汉王朝和匈奴之间主和形势已经存在，但并没有因此而获得和平，可见昭君凭一己之力，完全左右了匈奴的决定
- D. 有史学家认为，昭君出塞是汉王朝用真人真事表演的一出滑稽剧，以此作为战争中的插曲

100、对全文的理解，下列各项不正确的一项是（ ）。

- A. 文章旨在说明和亲政策在多民族国家中的重要作用
- B. 文章四、五两个自然段写的是和平不单单是和亲的作用，更多的是因为历史形势的必然
- C. 第六自然段承上启下，将文章拉回到昭君出塞的重要意义上来
- D. 作者在最后两个自然段以基本史实，在四、五两段蓄势的基础上，运用了引用论证的方法，说理更服人

参考答案:

常识:

1-5DCACB 6-10ACCDB 11-15BCDBC 16-20ACBDA

21-25CBCDA

言语:

26-32 CBBDCBB

33-37 AAAAC 38-42 DCCCD 43-47 DCBDB 48-52 CCC

判断:

51-55CDCDB 56-60DDAD 61-65CABBD 66-70CBDBC 71-75BDBC

数量:

76-80DBBBB 81-85BAACD

综合分析:

86-90 BDDAD 91-95 BCCCB

96-100 CCDA